

Giải bài tập Toán lớp 3 trang 46, 47 Bài 15: Luyện tập chung - Kết nối tri thức

Toán lớp 3 trang 46 Luyện tập

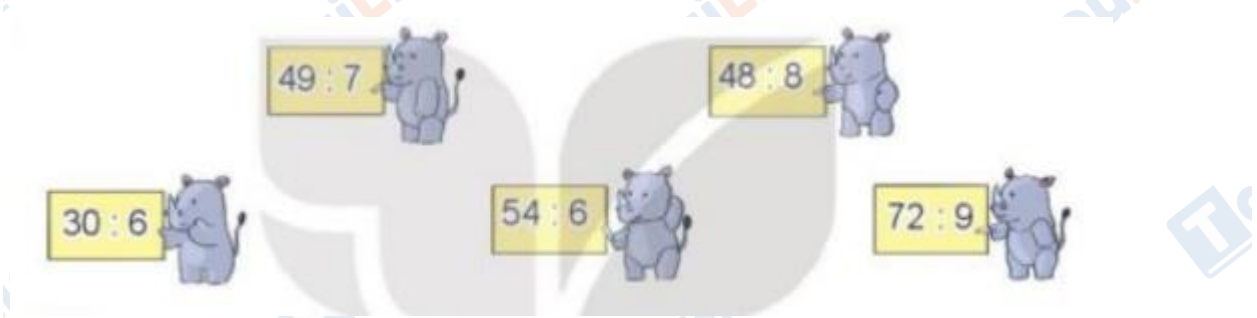
Giải Toán lớp 3 Tập 1 trang 46 Bài 1: Tính nhẩm:

- a) 6×3 7×5 9×4 8×10
 b) 8×7 3×9 5×6 4×8

Lời giải:

- a) $6 \times 3 = 18$ $7 \times 5 = 35$ $9 \times 4 = 36$ $8 \times 10 = 80$
 b) $8 \times 7 = 56$ $3 \times 9 = 27$ $5 \times 6 = 30$ $4 \times 8 = 32$

Giải Toán lớp 3 Tập 1 trang 46 Bài 2: Những phép tính nào dưới đây có kết quả bé hơn 8?



Lời giải:

Thực hiện phép tính:

- $30 : 6 = 5$ $54 : 6 = 9$
 $49 : 7 = 7$ $48 : 8 = 6$

$$72 : 9 = 8$$

Những phép tính có kết quả bé hơn 8 là: $30 : 6$; $49 : 7$ và $48 : 8$

Giải Toán lớp 3 Tập 1 trang 46 Bài 3: Số?



Lời giải:

a)	b)	c)	d)
$? \times 7 = 63$	$? : 8 = 6$	$4 \times ? = 36$	$35 : ? = 5$
$63 : 7 = 9$	$6 \times 8 = 48$	$36 : 4 = 9$	$35 : 5 = 7$



Giải Toán lớp 3 Tập 1 trang 46 Bài 4: Khi chuẩn bị buổi chúc mừng sinh nhật cho Nam, Việt xếp li vào 5 bàn. Mỗi bàn Việt xếp 6 cái li. Hỏi Việt xếp tất cả bao nhiêu cái li?

Lời giải:

Việt xếp tất cả số li là:

$$6 \times 5 = 30 \text{ (cái li)}$$

Đáp số: 30 cái li

Giải Toán lớp 3 Tập 1 trang 46 Bài 5: Số?

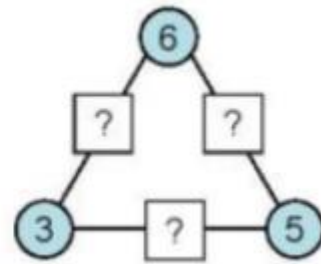
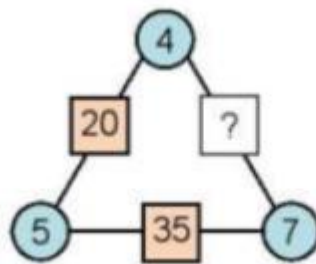
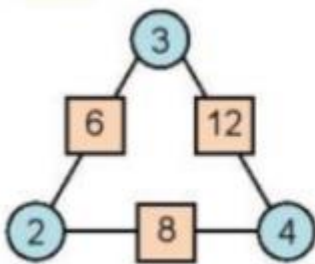
Quan sát hình vẽ trên, em thực hiện được các phép tính:

$$3 \times 2 = 6$$

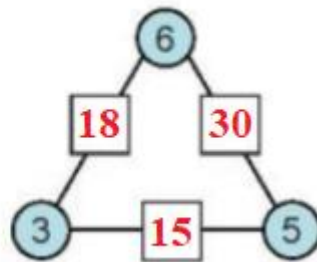
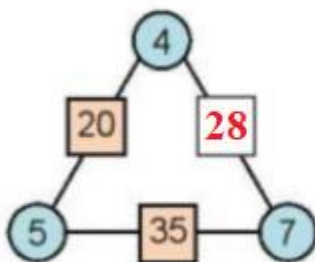
$$3 \times 4 = 12$$

$$2 \times 4 = 8$$

Từ đó, em thực hiện được các phép tính ở ô trống tiếp theo:



Lời giải:



Toán lớp 3 trang 47 Luyện tập

Giải Toán lớp 3 Tập 1 trang 47 Bài 1: Tính nhẩm:

6×4

4×6

$24 : 6$

$24 : 4$

8×5

5×8

$40 : 8$

$40 : 5$

7×8

8×7

$56 : 7$

$56 : 8$

Lời giải:

$6 \times 4 = 24$

$4 \times 6 = 24$

$24 : 6 = 4$

$24 : 4 = 6$

$8 \times 5 = 40$

$5 \times 8 = 40$

$40 : 8 = 5$

$40 : 5 = 8$

$7 \times 8 = 56$

$8 \times 7 = 56$

$56 : 7 = 8$

$56 : 8 = 7$

Giải Toán lớp 3 Tập 1 trang 47 Bài 2: Mẹ của Mai mua về 45 bông hoa. Mẹ bảo Mai mang cắm vào hết các lọ, mỗi lọ có 9 bông. Hỏi Mai cắm được bao nhiêu lọ hoa như thế?

Lời giải:

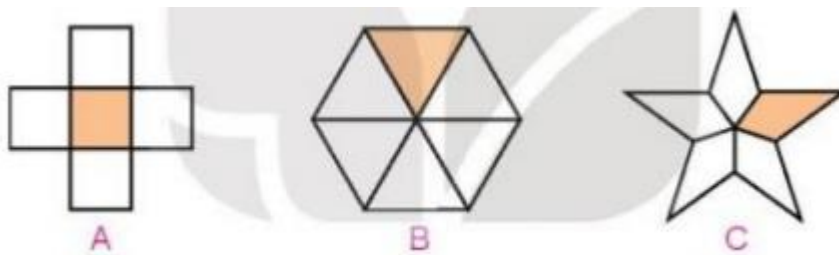
Mai cắm được số lọ hoa là:

$45 : 9 = 5 \text{ (lọ)}$

Đáp số: 5 lọ

Giải Toán lớp 3 Tập 1 trang 47 Bài 3:

a) Đã tô màu 1515 những hình nào?



b) Số?



+) 1616 số con ếch là ? con ếch

+) 1919 số con ếch là ? con ếch

Lời giải:

a)



Hình A: Có 5 ô vuông, tô màu 1 ô vuông. Tô màu 1515 hình vẽ.

Hình B: Có 6 tam giác, tô màu 1 tam giác. Tô màu 1616 hình vẽ.


Hình C: Có 5 cánh, tô màu 1 cánh. Tô màu 1515 hình vẽ.

Đáp án: Hình A; Hình C

b)

Có tất cả 18 con ếch.

*) 1616 số con ếch là 3 con ếch.



*) 1919 số con ếch là 2 con ếch.

