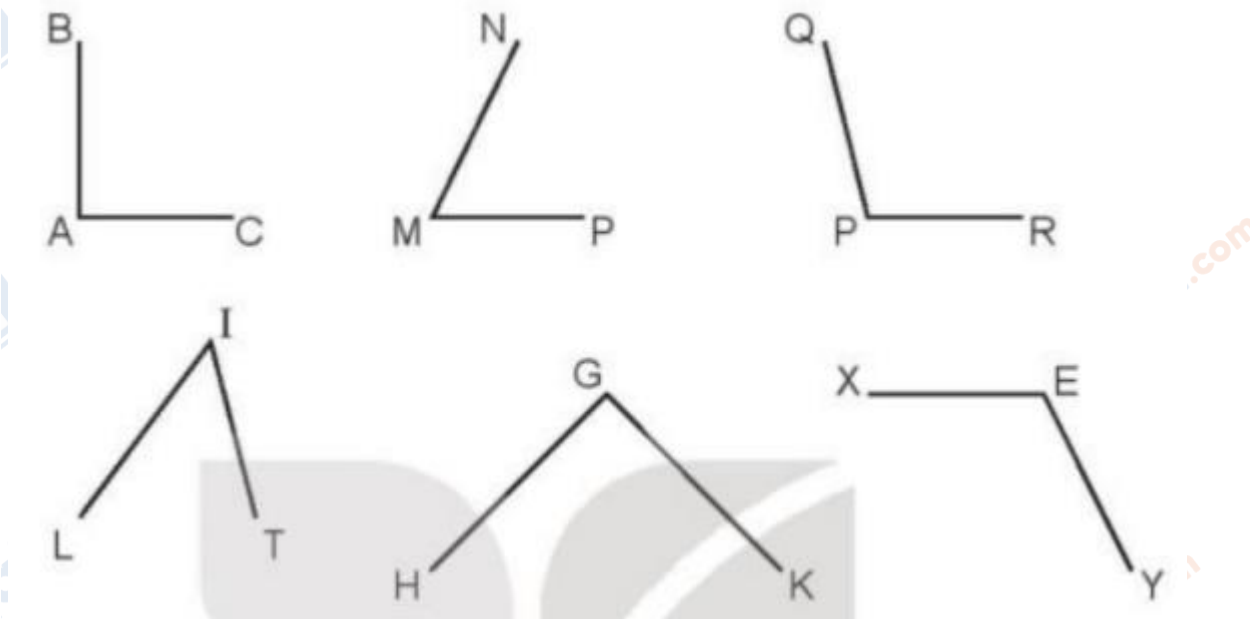


**Giải bài tập Toán lớp 3 trang 54, 55 Bài 18: Góc, góc vuông, góc không vuông  
- Kết nối tri thức****Toán lớp 3 trang 55 Hoạt động**

**Giải Toán lớp 3 Tập 1 trang 55 Bài 1:** Dùng ê-ke, hãy tìm góc vuông, góc không vuông trong các hình dưới đây.



**Lời giải:**


- Các góc vuông là: BAC, HGK.

- Các góc không vuông là: NMP, QPR, LIT, XEY.

**Toán lớp 3 trang 55 Luyện tập**


**Giải Toán lớp 3 Tập 1 trang 55 Bài 1:** Trên giấy kẻ ô li, hãy vẽ một góc vuông.

**Lời giải:**



Học sinh tự vẽ góc vuông vào vở.

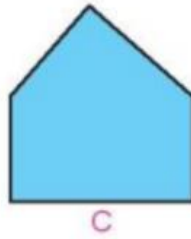
**Giải Toán lớp 3 Tập 1 trang 55 Bài 2:** Trong các hình sau, hình nào có nhiều góc vuông nhất?




A



B



C



D



**Lời giải:**

Hình A có 1 góc vuông

Hình B có 4 góc vuông

Hình C có 3 góc vuông

Hình D không có góc vuông

Vậy hình B có nhiều góc vuông nhất.