

Giải bài tập Toán lớp 3 trang 28, 29, 30 Bài 9: Bảng nhân 6, bảng chia 6 - Kết nối tri thức**Giải Toán lớp 3 Tập 1 trang 29 Bài 1: Tính nhẩm:**

a) 6×1 b) $12 : 6$ c) 6×5

6×4 $18 : 6$ $30 : 6$

6×6 $48 : 6$ $30 : 5$

Lời giải:

a) $6 \times 1 = 6$

b) $12 : 6 = 2$

c) $6 \times 5 = 30$

$6 \times 4 = 24$

$18 : 6 = 3$

$30 : 6 = 5$

$6 \times 6 = 36$

$48 : 6 = 8$

$30 : 5 = 6$

Giải Toán lớp 3 Tập 1 trang 29 Bài 2:

Hai phép tính nào dưới đây có cùng kết quả?

6 x 1

6 x 3

12 : 6

48 : 6

6 x 5

2 x 9

4 x 2

36 : 6

5 x 6

6 : 3

KẾT NỐI TRI THỨC
VỚI CUỘC SỐNG

Lời giải:

Em thực hiện các phép tính:

$$6 \times 1 = 6$$

$$6 \times 3 = 18$$

$$12 : 6 = 2$$

$$48 : 6 = 8$$

$$6 \times 5 = 30$$

$$2 \times 9 = 18$$

$$4 \times 2 = 8$$

$$36 : 6 = 6$$

$$5 \times 6 = 30$$

$$6 : 3 = 2$$

Em được:

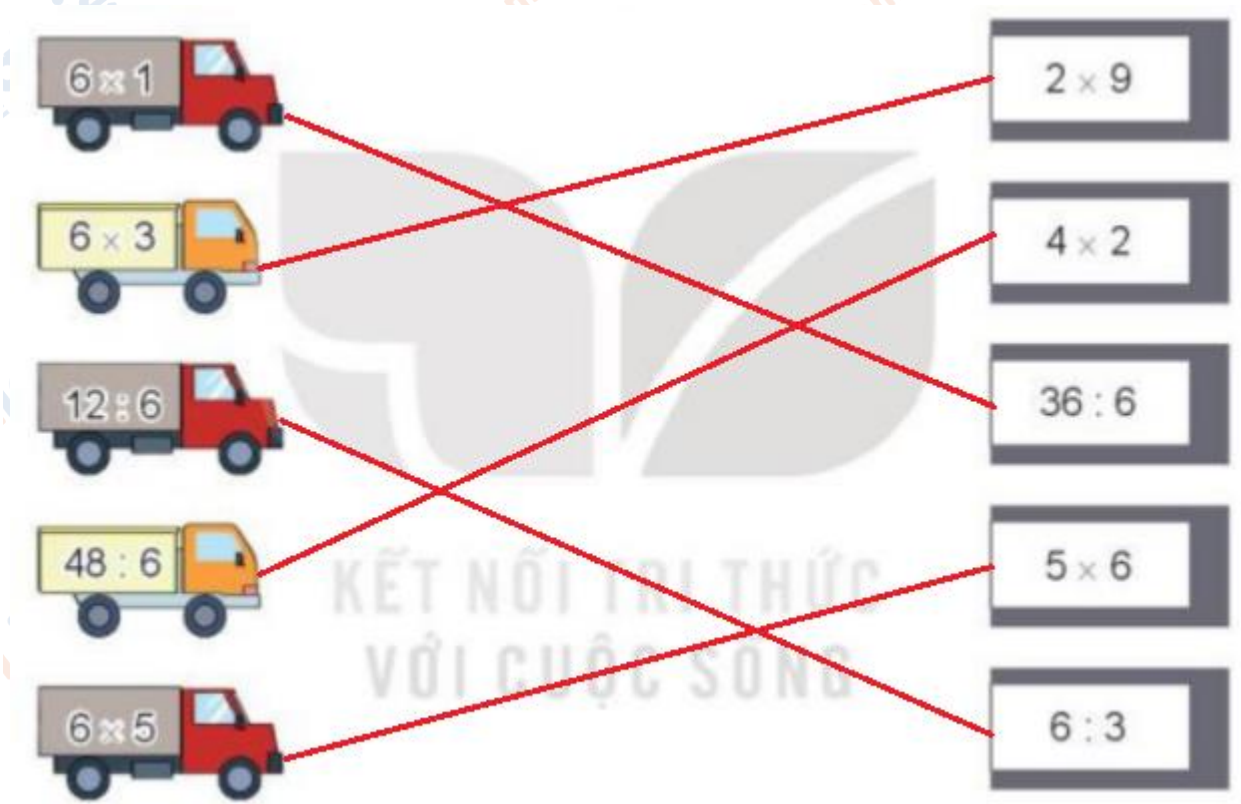
$$6 \times 1 = 36 : 6 = 6$$

$$6 \times 3 = 2 \times 9 = 18$$

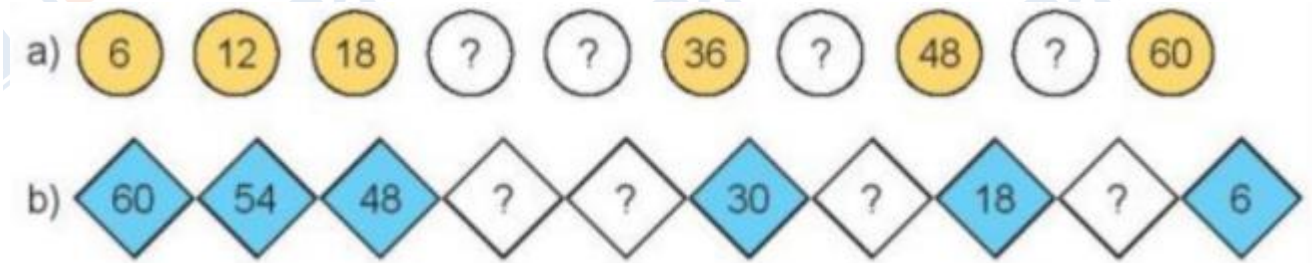
$$12 : 6 = 6 : 3 = 2$$

$$6 \times 5 = 5 \times 6 = 30$$

Em nối như hình vẽ:



Giải Toán lớp 3 Tập 1 trang 29 Bài 1: Nêu các số còn thiếu:



Lời giải:

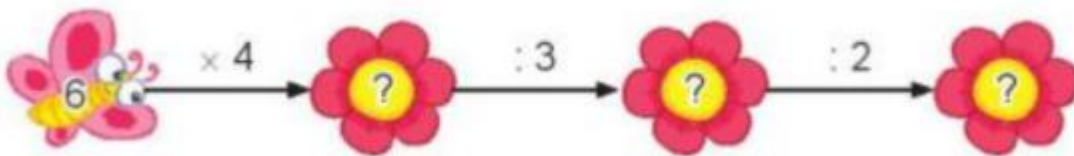
a) 6; 12; 18; **24; 30**; 36; 42; 48; **54**; 60.

Các số còn thiếu theo thứ tự từ trái sang phải lần lượt là: 24; 30; 42; 54

b) 60; 54; 48; **42; 36**; 30; **24; 18**; **12**; 6.

Các số còn thiếu theo thứ tự từ trái sang phải lần lượt là: 42; 36; 24; 18; 12

Giải Toán lớp 3 Tập 1 trang 30 Bài 2: Số?



Lời giải:

Em thực hiện các phép tính:

$$6 \times 4 = 24$$

$$24 : 3 = 8$$

$$8 : 2 = 4$$

Các số cần điền theo thứ tự từ trái sang phải lần lượt là: 24; 8; 4

Giải Toán lớp 3 Tập 1 trang 30 Bài 3: Số?

a)

Thừa số	6	6	6	6	6	6
Thừa số	2	4	6	3	5	7
Tích	12	?	?	?	?	?

b)

Số bị chia	18	30	42	60	54	48
Số chia	6	6	6	6	6	6
Thương	3	?	?	?	?	?

Lời giải:

a)

Thừa số	6	6	6	6	6	6
Thừa số	2	4	6	3	5	7
Tích	12	24	36	18	30	42

b)

Số bị chia	18	30	42	60	54	48
Số chia	6	6	6	6	6	6
Thương	3	5	7	10	9	8

Giải Toán lớp 3 Tập 1 trang 30 Bài 4: Số?



- a) Mỗi hộp có ? chiếc bút chì màu.
- b) Số bút chì màu ở 4 hộp là ? x ? = ? (chiếc)

Lời giải:

- a) Mỗi hộp có 6 chiếc bút chì màu
- b) Số bút chì màu ở 4 hộp là:

$$6 \times 4 = 24 \text{ (chiếc)}$$

Giải Toán lớp 3 Tập 1 trang 30 Bài 5: Một thanh gỗ dài 60 cm được cưa thành 6 đoạn thẳng bằng nhau. Hỏi mỗi đoạn gỗ đó dài bao nhiêu xăng-ti-mét?



Lời giải:

Mỗi đoạn gỗ đó dài là:

$$60 : 6 = 10 \text{ (cm)}$$

Đáp số: 10 cm