

Hướng dẫn giải các bài tập trang 14 đến 15 Bài 4: Ôn tập bảng nhân 2; 5, bảng chia 2; 5 sách giáo khoa Toán lớp 3 bộ sách Kết nối tri thức (KNTT) thuộc chương trình mới chi tiết và chính xác nhất sẽ là nguồn tài liệu tham khảo hữu ích dành cho phụ huynh và các em học sinh.

Giải Toán lớp 3 Tập 1 trang 14 Bài 1: Số?

a)

x	2	2	2	2	2	2	2	2	2	2
	1	2	3	4	5	6	7	8	9	10
	2	4	?	?	?	?	?	?	?	20

b)

:	2	4	6	8	10	12	14	16	18	20
	2	2	2	2	2	2	2	2	2	2
	1	2	?	?	?	?	?	?	?	10

Lời giải:

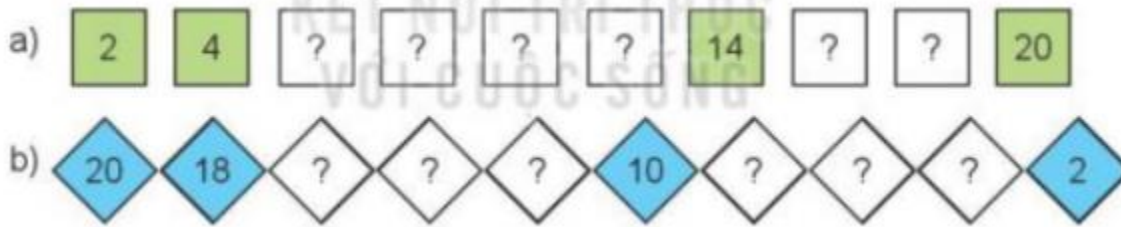
a)

x	2	2	2	2	2	2	2	2	2	2
	1	2	3	4	5	6	7	8	9	10
	2	4	6	8	10	12	14	16	18	20

b)

:	2	4	6	8	10	12	14	16	18	20
	2	2	2	2	2	2	2	2	2	2
	1	2	3	4	5	6	7	8	9	10

Giải Toán lớp 3 Tập 1 trang 14 Bài 2: Số?

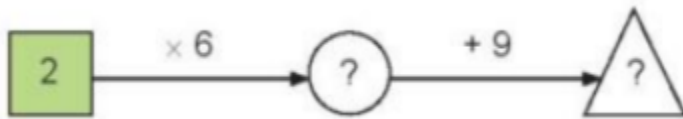


Lời giải:

a) 2; 4; 6; 8; 10; 12; 14; 16; 18; 20.

b) 20; 18; 16; 14; 12; 10; 8; 6; 4; 2.

Giải Toán lớp 3 Tập 1 trang 14 Bài 3: Số?



Lời giải:

Thực hiện các phép tính:

$$2 \times 6 = 12$$

$$12 + 9 = 21$$



Giải Toán lớp 3 Tập 1 trang 14 Bài 4: Có 18 học sinh ngồi vào các bàn học, mỗi bàn 2 bạn. Hỏi có bao nhiêu bàn học như vậy?

Lời giải:

Có số bàn học là:

$$18 : 2 = 9 \text{ (bàn)}$$

Đáp số: 9 bàn học

Giải Toán lớp 3 Tập 1 trang 14 Bài 5: Trong ngày hội đấu vật đầu xuân có 10 cặp đô vật tham gia thi đấu. Hỏi có bao nhiêu đô vật tham gia thi đấu?

Lời giải:

Số đô vật tham gia thi đấu là:

$$10 \times 2 = 20 \text{ (đô vật)}$$

Đáp số: 20 đô vật

Giải Toán lớp 3 Tập 1 trang 15 Bài 1: Số?

a)

Thừa số 5 5 5 5 5 5 5

Thừa số 1 2 3 4 5 6 7 8 9 10

Tích 5 10 ? ? ? ? ? ? 50

b)

Số bị chia 50 45 40 35 30 25 20 15 10 5

Số chia 5 5 5 5 5 5 5 5 5 5

Thương 10 9 ? ? ? ? ? ? ? 1

Lời giải:

a)

Thừa số 5 5 5 5 5 5 5 5 5 5

Thừa số 1 2 3 4 5 6 7 8 9 10

Tích 5 10 15 20 25 30 35 40 45 50

b)

Số bị chia 50 45 40 35 30 25 20 15 10 5

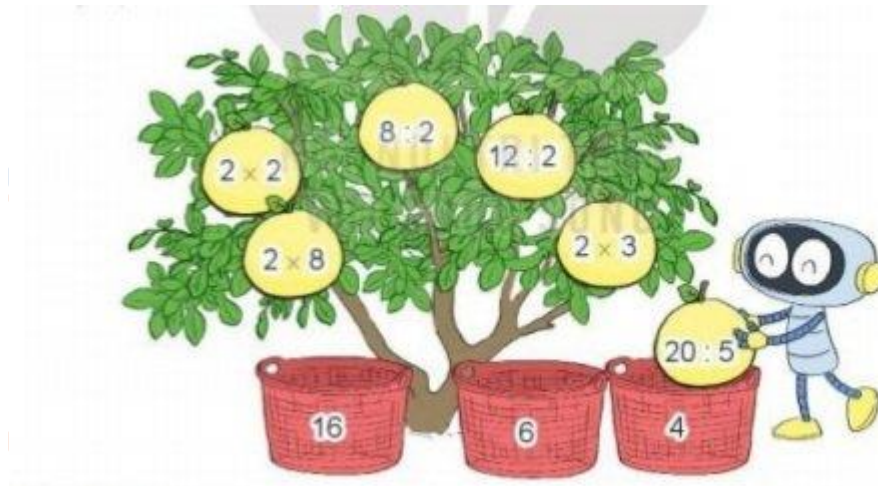
Số chia 5 5 5 5 5 5 5 5 5 5

Thương 10 9 8 7 6 5 4 3 2 1

Giải Toán lớp 3 Tập 1 trang 15 Bài 2: Rô-bốt sẽ hái hết những quả bưởi rồi cho vào các sọt (như hình vẽ). Hỏi:

a) Sọt nào sẽ có nhiều bưởi nhất?

b) Sọt nào sẽ có ít bưởi nhất?



Lời giải:

$$2 \times 8 = 16$$

$$12 : 2 = 6$$

$$2 \times 3 = 6$$

$$2 \times 2 = 4$$

$$8 : 2 = 4$$

$$20 : 5 = 4$$

a) Số 4 sẽ có nhiều buổi nhất vì có 3 phép tính cho kết quả bằng 4.

b) Số 16 sẽ có ít buổi nhất vì có 1 phép tính cho kết quả bằng 16.

Giải Toán lớp 3 Tập 1 trang 15 Bài 3: Điền dấu > ; < ; = vào chỗ chấm:

a) $2 \times 5 \dots 5 \times 2$

b) $18 : 2 \dots 10$

c) $5 \times 3 \dots 20 : 2$

Lời giải:

a) $2 \times 5 = 5 \times 2$

b) $18 : 2 < 10$

c) $5 \times 3 > 20 : 2$

Giải Toán lớp 3 Tập 1 trang 15 Bài 4: Cửa hàng có 50 kg gạo nếp. Người ta chia đều số gạo nếp đó vào 5 túi. Hỏi mỗi túi có bao nhiêu ki-lô-gam gạo nếp?

Lời giải:

Mỗi túi có số kg gạo nếp là:

$$50 : 5 = 10 \text{ (kg)}$$

Đáp số: 10 kg gạo nếp

Trên đây là nội dung gợi ý trả lời các câu hỏi và bài tập trong SGK Toán lớp 3 tập 1 Bài 1 trang 14, 15 bộ sách Kết nối tri thức chi tiết và dễ hiểu nhất. Ngoài ra các bạn có thể tham khảo các bài toán khác cùng bộ sách đã được đăng tải trên chuyên trang của chúng tôi.