


Hướng dẫn giải các bài tập trang 21 đến 23 **Bài 7: Ôn tập hình học và đo lường sách giáo khoa Toán lớp 3 bộ sách Kết nối tri thức (KNTT)** thuộc chương trình mới chi tiết và chính xác nhất sẽ là nguồn tài liệu tham khảo hữu ích dành cho phụ huynh và các em học sinh.

**Giải Toán lớp 3 Tập 1 trang 21 Bài 1:** Mỗi đồ vật dưới đây có dạng hình khối gì?



b) Chọn hình thích hợp đặt vào dấu “?”.



**Lời giải:**

a) Rô-bốt hút bụi hình trụ.

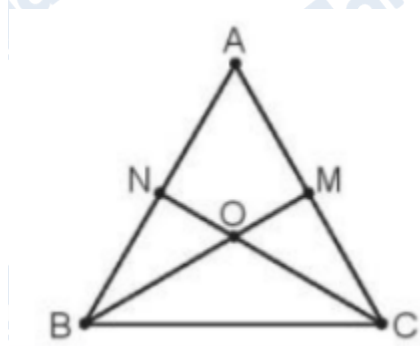
Bể cá hình hộp chữ nhật.

Khối ru-bích hình lập phương.

Quả địa cầu hình cầu.

b) Đáp án C.

**Giải Toán lớp 3 Tập 1 trang 21 Bài 2:** Nêu tên ba điểm thẳng hàng có trong hình bên.



**Lời giải:**

Ba điểm thẳng hàng là ba điểm cùng nằm trên một đường thẳng.

Ba điểm thẳng hàng có trong hình bên là:

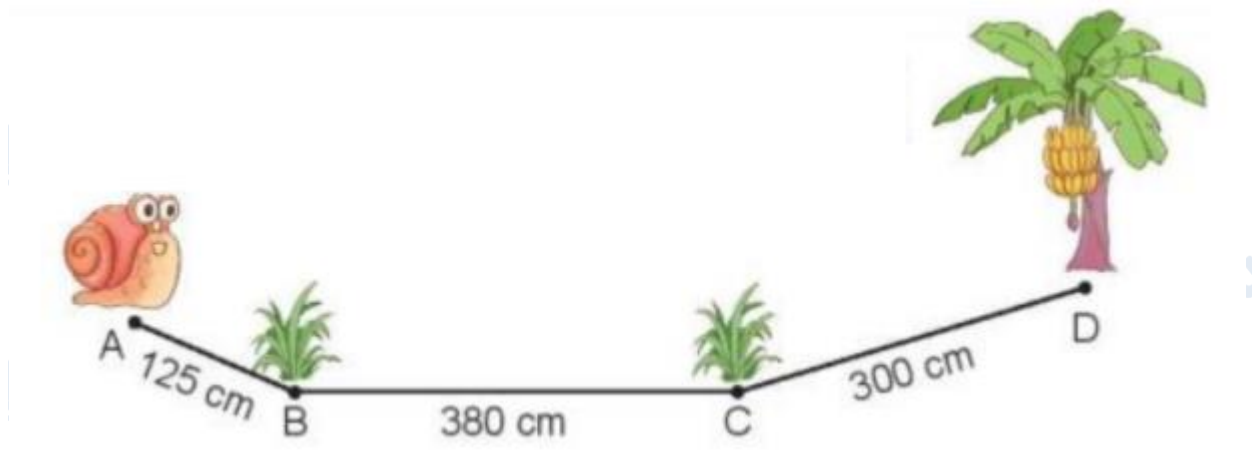
A, N, B

A, M, C

N, O, C

M, O, B

**Giải Toán lớp 3 Tập 1 trang 22 Bài 3:** Con ốc sên bò đến cây chuối theo đường gấp khúc ABCD. Hỏi con ốc sên phải bò quãng đường dài bao nhiêu xăng-ti-mét để đến cây chuối?



**Lời giải:**

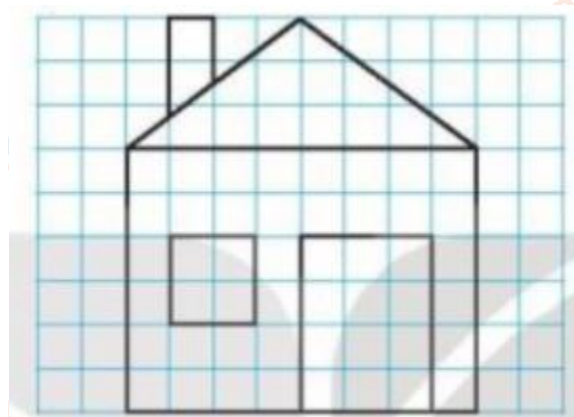
Để bò đến cây chuối con ốc sên phải bò qua đoạn đường AB, BC, CD.

Quãng đường con ốc sên phải bò để đến cây chuối là:

$$125 + 380 + 300 = 805 \text{ (cm)}$$

Đáp số: 805 cm

**Giải Toán lớp 3 Tập 1 trang 22 Bài 4:** Vẽ hình (theo mẫu):



**Lời giải:**

Học sinh tự vẽ hình theo đề bài.

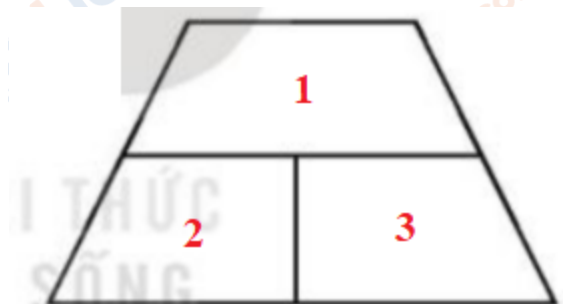
Giải Toán lớp 3 Tập 1 trang 22 Bài 5: Chọn câu trả lời đúng:



Trong hình bên có bao nhiêu hình tứ giác?

- A. 3 hình      B. 4 hình  
C. 5 hình      D. 6 hình

**Lời giải:**



Có 3 hình tứ giác đơn: (1), (2), (3)

Có 1 hình tứ giác đôi: (23)

Có 1 hình tứ giác ba: (123)

Có tất cả:  $3 + 1 + 1 = 5$  (hình tứ giác)

**Chọn C.**

**Giải Toán lớp 3 Tập 1 trang 22, 23 Bài 1: Số?**

- Quả mít cân nặng ? kg.
- Quả dưa hấu cân nặng ? kg.
- Quả mít nặng hơn quả dưa hấu ? kg.

b) Hai can dưới đây chứa đầy dầu.



Cả hai can có ? l dầu.

**Lời giải:**

a) Quả mít cân nặng 10 kg.

Quả dưa hấu cân nặng 5 kg.

Quả mít nặng hơn quả dưa hấu 5 kg.

b) Cả hai can có 20 l dầu.

**Giải Toán lớp 3 Tập 1 trang 23 Bài 2:** Chọn câu trả lời đúng:

a) Đồng hồ bên đồ chuông lúc:



A. 3 giờ 30 phút

B. 6 giờ 3 phút

C. 6 giờ 15 phút

D. 3 giờ 6 phút

b) Nếu ngày 4 tháng 10 là thứ Ba thì ngày 10 tháng 10 là:

A. Chủ nhật

B. Thứ Hai

C. Thứ Ba

D. Thứ Tư

**Lời giải:**

a) Đáp án C

b) Đáp án B

**Giải Toán lớp 3 Tập 1 trang 23 Bài 3:** Mỗi tuần gia đình cô Hoa ăn hết 5 kg gạo. Cô Hoa mua về 20 kg gạo. Hỏi gia đình cô Hoa ăn trong mấy tuần thì hết số gạo đó?

**Lời giải:**



Số tuần gia đình cô Hoa để ăn hết số gạo đó là:

$$20 : 5 = 4 \text{ (tuần)}$$

Đáp số: 4 tuần

**Giải Toán lớp 3 Tập 1 trang 23 Bài 4:** Tìm hai đồng hồ chỉ cùng giờ vào buổi chiều hoặc buổi tối.



Lời giải:



**Giải Toán lớp 3 Tập 1 trang 23 Bài 5:** Đố bạn!

Có một can 3 l và một can 5 l. Chỉ dùng hai cái can đó, làm thế nào lấy được 1 l nước từ bể nước?



**Lời giải:**

Đầu tiên dùng can 3 l lấy đầy nước từ bể rồi đổ vào can 5 l. Lúc đó can 5 l sẽ còn lại 2 l chưa có nước.

Tiếp theo dùng can 3 l lấy đầy nước từ bể 1 lần nữa. Sau đó lại đổ vào can 5 l đến khi nào nước chạm đến miệng can thì dừng lại. Số nước còn lại trong can 3 l sẽ là 1 l.

Trên đây là nội dung gợi ý trả lời các câu hỏi và bài tập trong SGK Toán lớp 3 tập 1 Bài 6 trang 21, 22, 23 bộ sách Kết nối tri thức chi tiết và dễ hiểu nhất. Ngoài ra các bạn có thể tham khảo các bài toán khác cùng bộ sách đã được đăng tải trên chuyên trang của chúng tôi.