

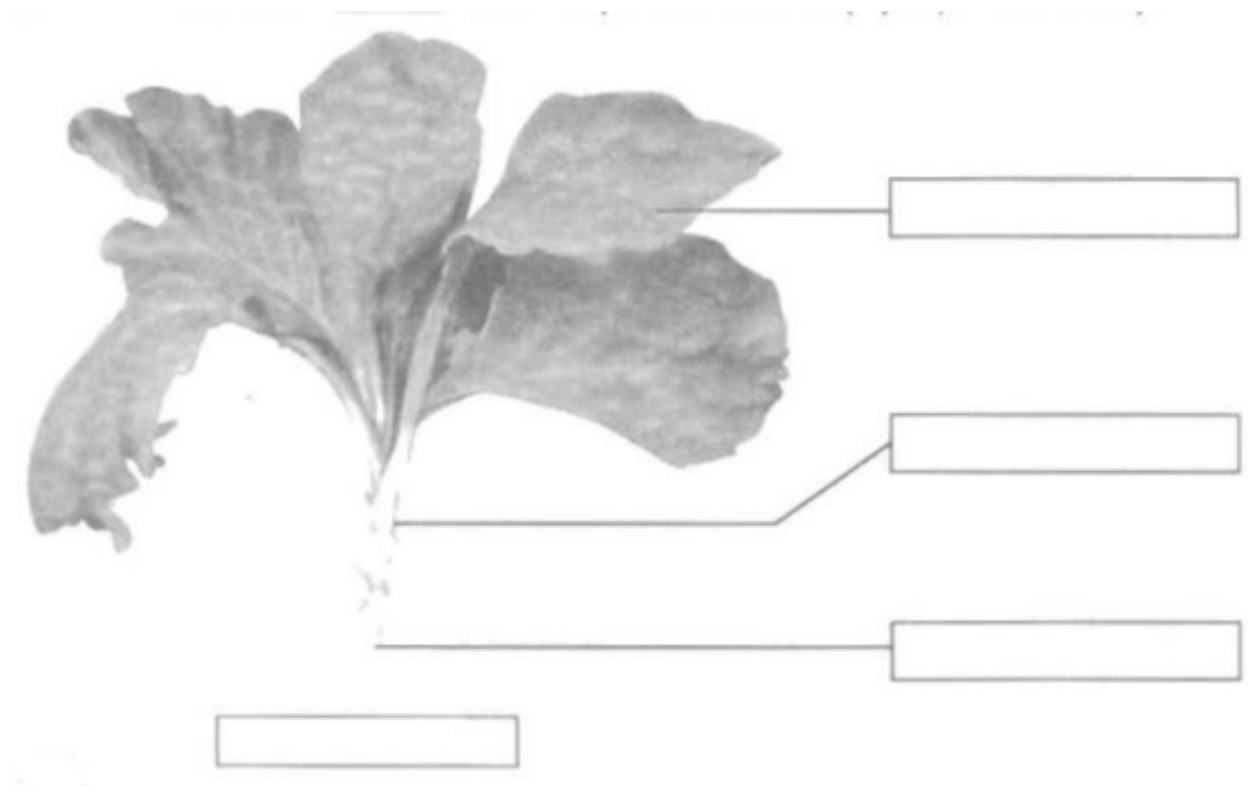
Nội dung bài viết

1. [Giải vở bài tập Tự nhiên và Xã hội lớp 1 Bài 22: Cây rau](#)

**Giải vở bài tập Tự nhiên và Xã hội lớp 1 Bài 22: Cây rau**

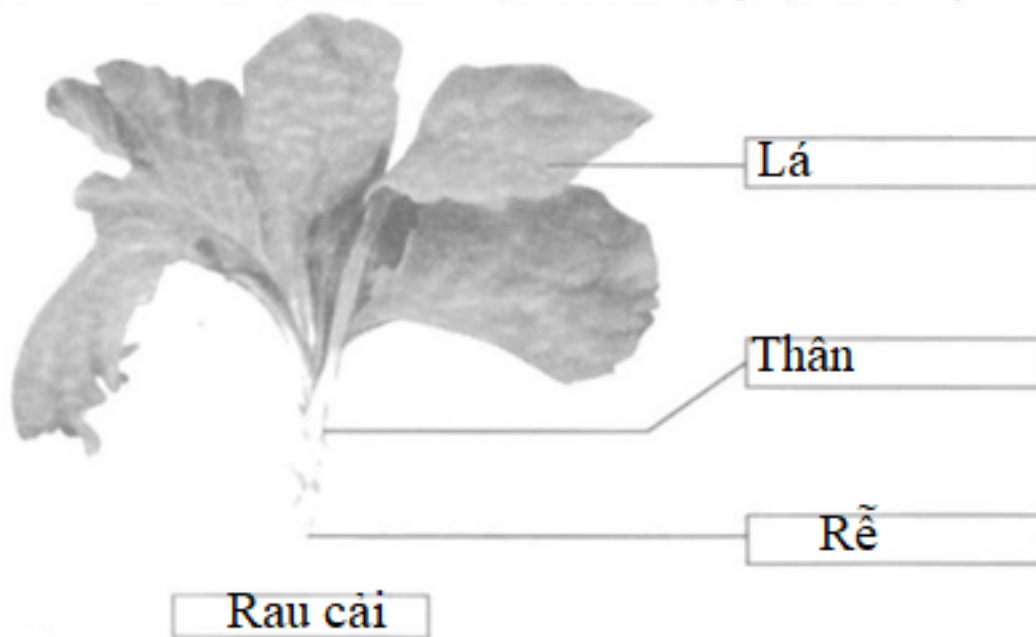
**Câu 1. (Vở BT Tự nhiên và Xã hội 1 trang 25).**

Viết vào ô trống tên cây, tên các bộ phận của cây.



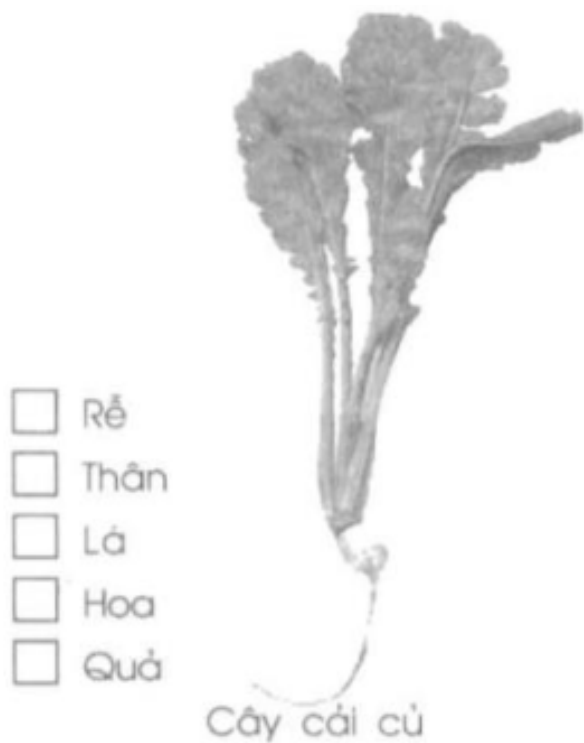
**Gợi ý:** Em hãy quan sát các bức tranh để viết tên cây và tên các bộ phận của cây. Cây thường có các bộ phận gì?

**Trả lời:**





**Câu 2. (Vở BT Tự nhiên và Xã hội 1 trang 25).**

Đánh dấu x vào ô trống ứng với các phần của cây làm thức ăn.



**Gợi ý:** Em quan sát hai bức tranh và xem được các phần của cây làm thức ăn có thể là củ, quả, lá.....

Trả lời:

<input checked="" type="checkbox"/> Rễ		<input type="checkbox"/> Rễ	
<input checked="" type="checkbox"/> Thân		<input type="checkbox"/> Thân	
<input checked="" type="checkbox"/> Lá		<input type="checkbox"/> Lá	
<input type="checkbox"/> Hoa		<input type="checkbox"/> Hoa	
<input type="checkbox"/> Quả		<input checked="" type="checkbox"/> Quả	
	Cây cải củ		Cây cà chua