

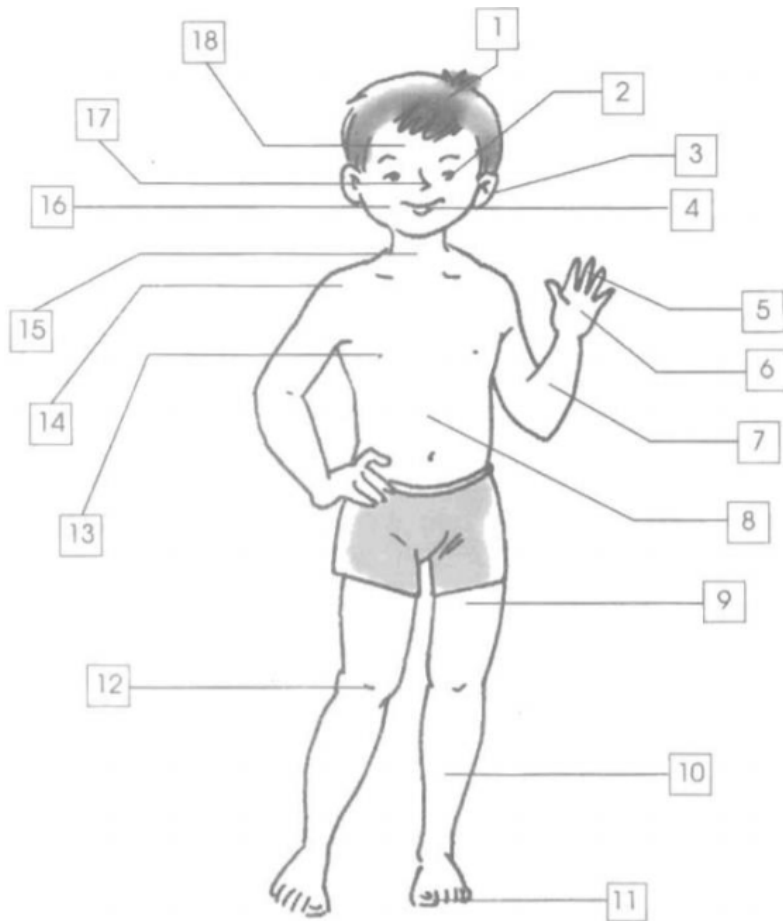
Nội dung bài viết

1. [Giải vở bài tập Tự nhiên và Xã hội lớp 1 Bài 1: Cơ thể chúng ta](#)

**Giải vở bài tập Tự nhiên và Xã hội lớp 1 Bài 1: Cơ thể chúng ta**

**Câu 1. (Vở BT Tự nhiên và Xã hội 1 trang 2)**

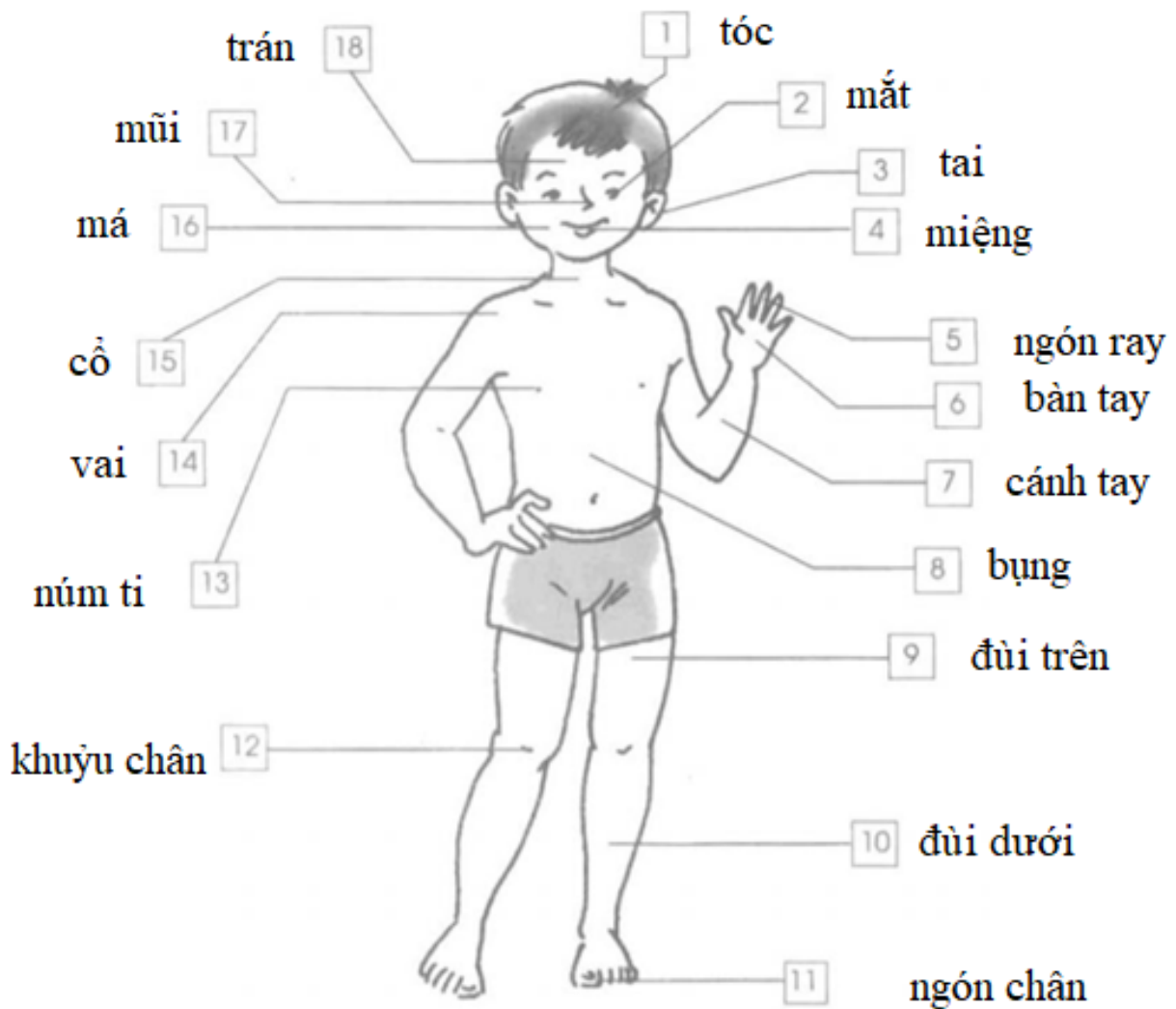
Kể tên các bộ phận bên ngoài của cơ thể.




**Gợi ý:**

Em quan sát kĩ tranh rồi trả lời.

**Trả lời:**



**Câu 2. (Vở BT Tự nhiên và Xã hội 1 trang 3).** Hãy chỉ và nói tên từng động tác được vẽ trong hình dưới đây.



**Gợi ý:** Em hãy quan sát các hình vẽ và chỉ ra những động tác trong hình vẽ.

**Trả lời:**

- Hình 1: Cúi đầu.

- Hình 2: ngẩng đầu.
- Hình 3: quay đầu sang trái.
- Hình 4: quay đầu sang phải.
- Hình 5: Cúi đầu chào.
- Hình 6: Xoay người và tay sang bên trái.
- Hình 7: xoay người và tay sang bên phải.
- Hình 8: Giơ tay trái thẳng lên.
- Hình 9: Giơ tay phải thẳng lên.
- Hình 10: Giơ chân trái, đầu gối vuông góc.
- Hình 11: Giơ chân phải, đầu gối vuông góc.