

Nội dung bài viết

1. [Giải vở bài tập Toán lớp 1 Bài 57: Phép trừ dạng 17 – 2 - Cánh Diều](#)


Giải vở bài tập Toán lớp 1 Bài 57: Phép trừ dạng 17 – 2 - Cánh Diều

Bài 1 Trang 39 Vở bài tập Toán lớp 1 Tập 2:

Tính



$$14 - 2 = \dots$$



$$16 - 4 = \dots$$



$$18 - 3 = \dots$$



$$17 - 5 = \dots$$



$$16 - 6 = \dots$$




$$19 - 7 = \dots$$

Lời giải



$$14 - 2 = 12$$



$$16 - 4 = 12$$



$$18 - 3 = 15$$



$$17 - 5 = 12$$



$$16 - 6 = 10$$



$$19 - 7 = 12$$

Bài 2 Trang 39 Vở bài tập Toán lớp 1 Tập 2:

Tính:

$15 - 2 = \dots$

$13 - 3 = \dots$

$17 - 6 = \dots$

$16 - 3 = \dots$

$16 - 5 = \dots$

$19 - 8 = \dots$

$14 - 1 = \dots$

$18 - 4 = \dots$

$14 - 4 = \dots$

Lời giải

$15 - 2 = 13$

$13 - 3 = 10$

$17 - 6 = 11$

$16 - 3 = 13$

$16 - 5 = 11$

$19 - 8 = 11$

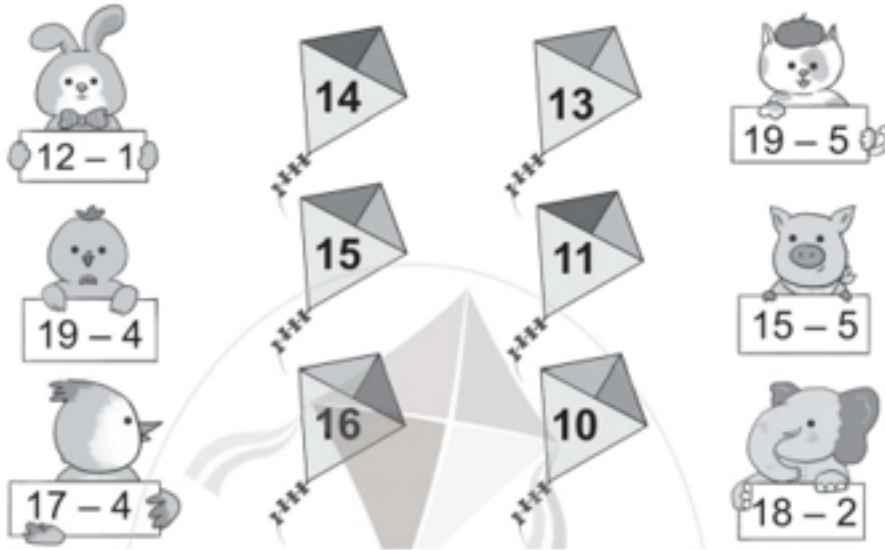
$14 - 1 = 13$

$18 - 4 = 14$

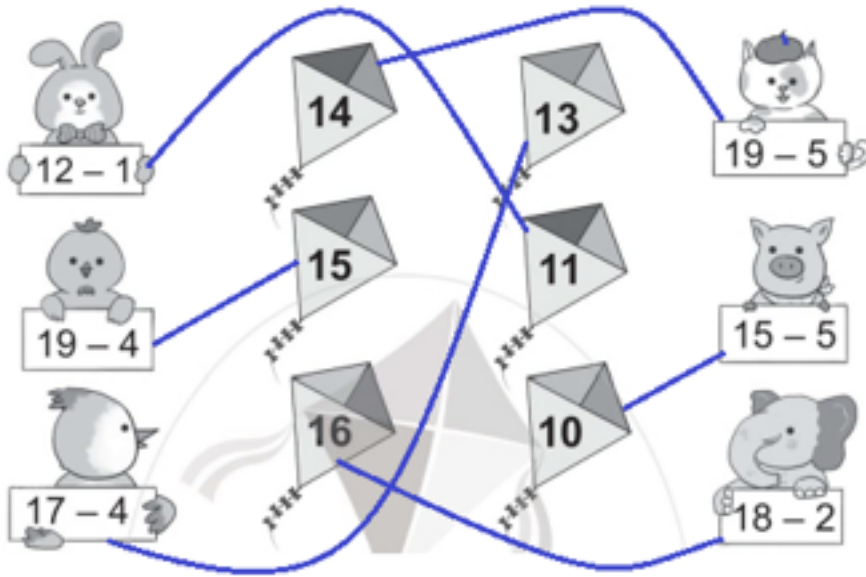
$14 - 4 = 10$

Bài 3 Trang 40 Vở bài tập Toán lớp 1 Tập 2:

Nối mỗi phép tính với kết quả thích hợp



Lời giải



Bài 4 Trang 40 Vở bài tập Toán lớp 1 Tập 2:

Viết phép tính thích hợp với mỗi tranh vẽ:



$$\square \bigcirc \square = \square$$



$$\square \bigcirc \square = \square$$

Lời giải

a) $14 - 4 = 10$

b) $10 - 6 = 4$