

Nội dung bài viết

1. [Giải vở bài tập Toán lớp 1 Bài 56: Phép cộng dạng 14 + 3 - Cánh Diều](#)

Giải vở bài tập Toán lớp 1 Bài 56: Phép cộng dạng 14 + 3 - Cánh Diều

Bài 1 Trang 37 Vở bài tập Toán lớp 1 Tập 2:

Tính



$$15 + 1 = \dots$$



$$16 + 2 = \dots$$



$$13 + 4 = \dots$$



$$14 + 5 = \dots$$



$$12 + 6 = \dots$$



$$10 + 7 = \dots$$

Lời giải



$$15 + 1 = 16$$



$$16 + 2 = 18$$



$$13 + 4 = 17$$



$$14 + 5 = 19$$



$$12 + 6 = 18$$



$$10 + 7 = 17$$

Bài 2 Trang 37 Vở bài tập Toán lớp 1 Tập 2:

Tính

$12 + 1 = \dots\dots$

$13 + 2 = \dots\dots$

$14 + 4 = \dots\dots$

$12 + 3 = \dots\dots$

$16 + 3 = \dots\dots$

$11 + 5 = \dots\dots$

$13 + 1 = \dots\dots$

$15 + 2 = \dots\dots$

$12 + 7 = \dots\dots$

Lời giải

$12 + 1 = 13$

$13 + 2 = 15$

$14 + 4 = 18$

$12 + 3 = 15$

$16 + 3 = 19$

$11 + 5 = 16$

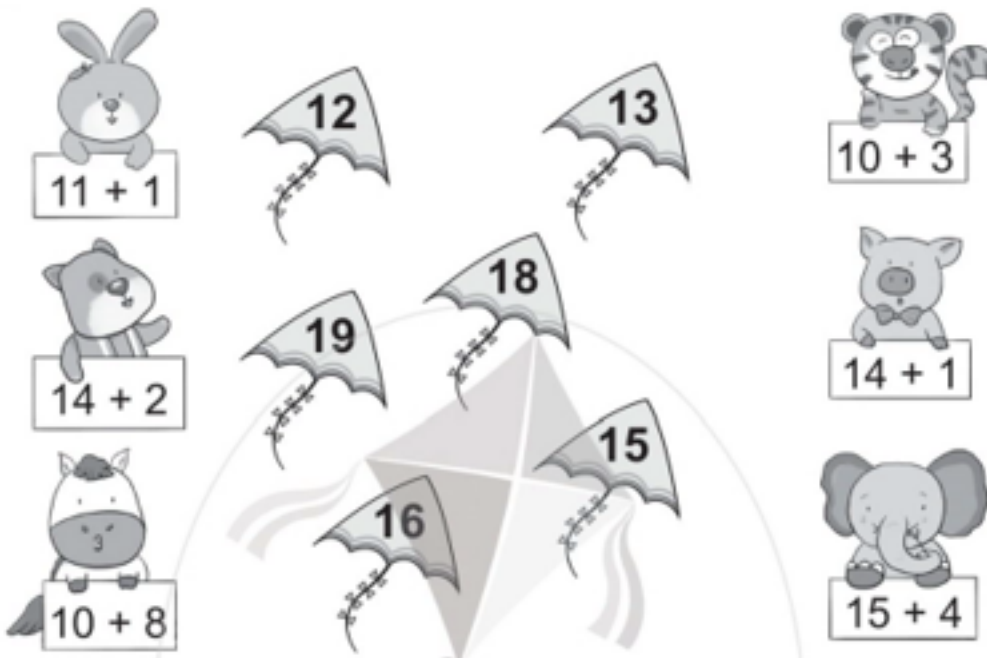
$13 + 1 = 14$

$15 + 2 = 17$

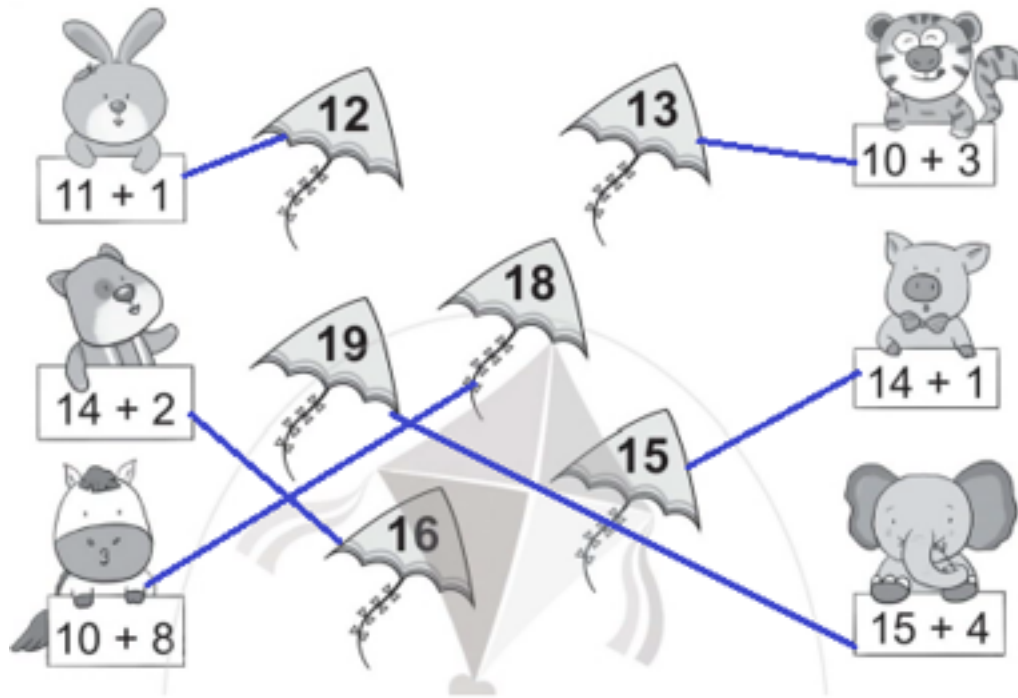
$12 + 7 = 19$

Bài 3 Trang 38 Vở bài tập Toán lớp 1 Tập 2:

Nối mỗi phép tính với kết quả thích hợp



Lời giải



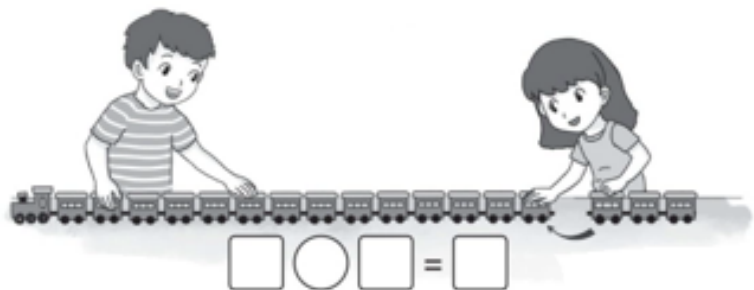
Bài 4 Trang 38 Vở bài tập Toán lớp 1 Tập 2:

Viết phép tính thích hợp với mỗi tranh vẽ:

a)



b)



Lời giải

a) Phép tính: $12 + 2 = 14$

b) Phép tính: $14 + 3 = 17$