


Nội dung bài viết

1. [Giải vở bài tập Toán lớp 1 Bài 48: Luyện tập - Cánh Diều](#)


Giải vở bài tập Toán lớp 1 Bài 48: Luyện tập - Cánh Diều

Bài 1 Trang 21 Vở bài tập Toán lớp 1 Tập 2:


Điền số thích hợp vào ô trống:

a) 


Chục	Đơn vị

b) 

Chục	Đơn vị

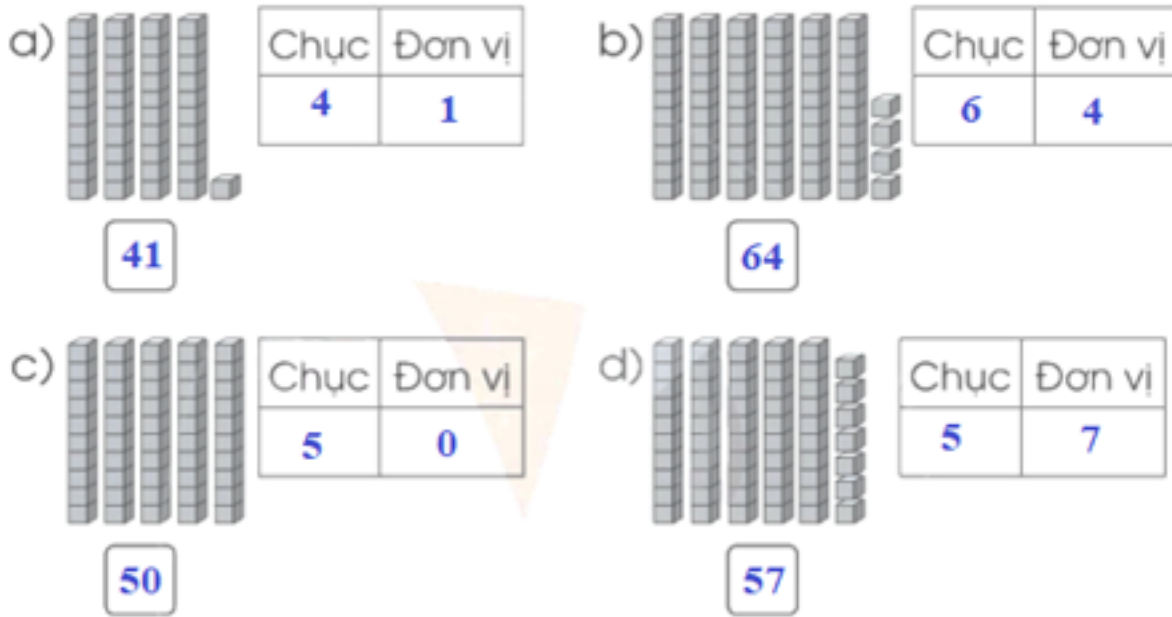
c) 

Chục	Đơn vị

d) 

Chục	Đơn vị

Lời giải



Bài 2 Trang 21 Vở bài tập Toán lớp 1 Tập 2:

Viết số thích hợp vào chỗ chấm:

- a) Số 27 gồm chục và đơn vị.
- b) Số 63 gồm chục và đơn vị.
- c) Số 90 gồm chục và đơn vị.

Lời giải

- a) Số 27 gồm 2 chục và 7 đơn vị.
- b) Số 63 gồm 6 chục và 3 đơn vị.
- c) Số 90 gồm 9 chục và 0 đơn vị.

Bài 3 Trang 21 Vở bài tập Toán lớp 1 Tập 2:

Viết số thích hợp vào chỗ chấm (theo mẫu):

Mẫu: Số gồm 5 chục và 1 đơn vị là 51 .

- Số gồm 1 chục và 5 đơn vị là
- Số gồm 4 chục và 3 đơn vị là

- Số gồm 8 chục và 2 đơn vị là

- Số gồm 3 chục và 3 đơn vị là

Lời giải

- Số gồm 1 chục và 5 đơn vị là 15.

- Số gồm 4 chục và 3 đơn vị là 43..

- Số gồm 8 chục và 2 đơn vị là 82.

- Số gồm 3 chục và 3 đơn vị là 33.

Bài 4 Trang 22 Vở bài tập Toán lớp 1 Tập 2:


Điền số thích hợp vào chỗ trống:

Chục	Đơn vị	Viết số
1	3	13
4	6	
8	8	
		52

Lời giải

Chục	Đơn vị	Viết số
1	3	13
4	6	46
8	8	88
5	2	52

Bài 5 Trang 22 Vở bài tập Toán lớp 1 Tập 2: Đếm rồi viết số quả mỗi loại vào ô trống



Lời giải

