

Nội dung bài viết

1. [Giải vở bài tập Toán lớp 1 Bài 47: Chục và đơn vị](#)

*Giải vở bài tập Toán lớp 1 Bài 47: Chục và đơn vị*

**Bài 1 Trang 19 Vở bài tập Toán lớp 1 Tập 2:**

Viết số thích hợp vào chỗ chấm

a)



Có tất cả ..... chục que tính

b)



Có tất cả ..... chục cái bát

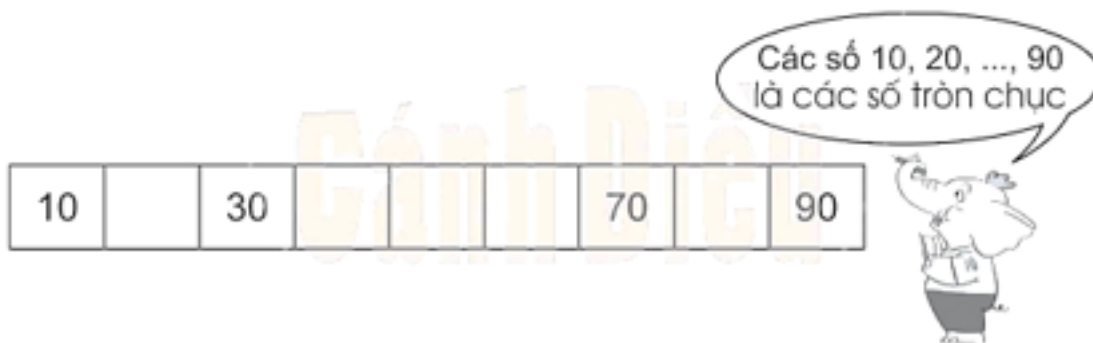
**Lời giải**

a) Có tất cả 6 chục que tính.

b) Có tất cả 8 chục cái bát.

**Bài 2 Trang 19 Vở bài tập Toán lớp 1 Tập 2:**

Điền số thích hợp vào ô trống:



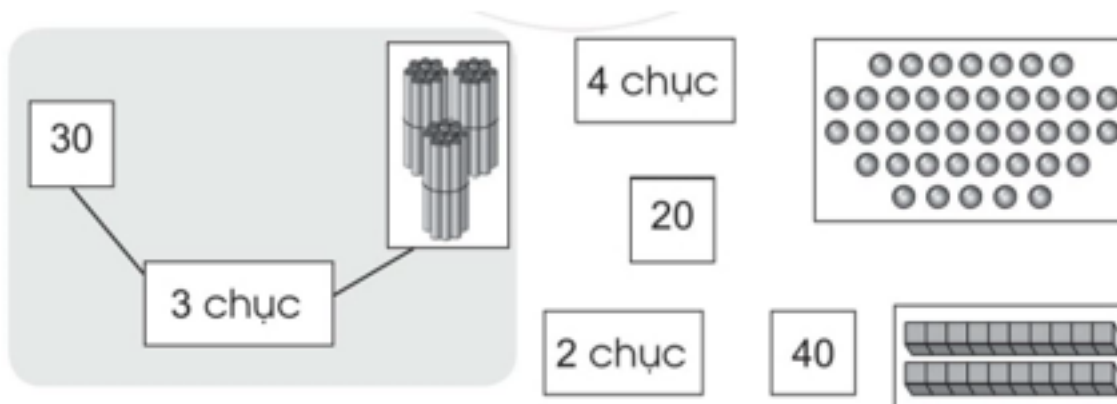
**Lời giải**



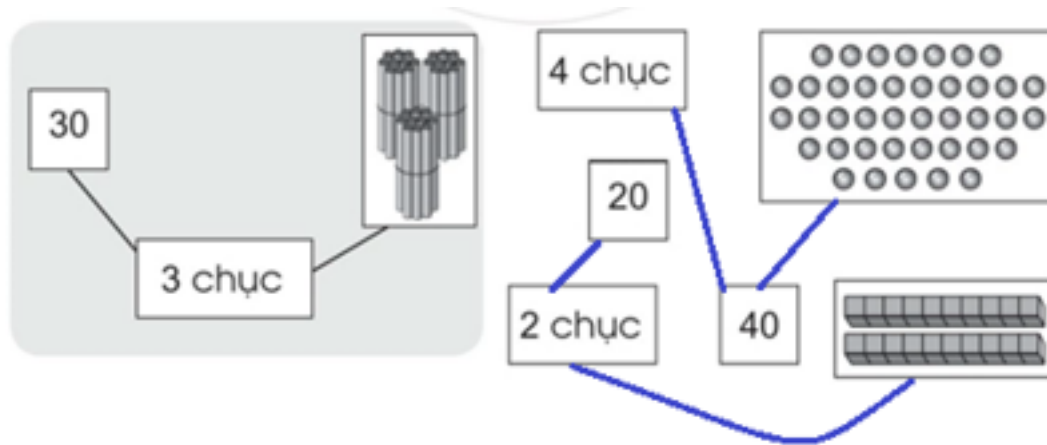
Các số cần điền theo thứ tự từ trái sang phải lần lượt là: 20, 40, 50, 60, 80

**Bài 3 Trang 19 vở bài tập Toán lớp 1 Tập 2:**

Nối (theo mẫu):




**Lời giải**




**Bài 4 Trang 20 Vở bài tập Toán lớp 1 Tập 2:**


Điền số thích hợp vào chỗ chấm

a) 


Chục	Đơn vị

b) 

Chục	Đơn vị

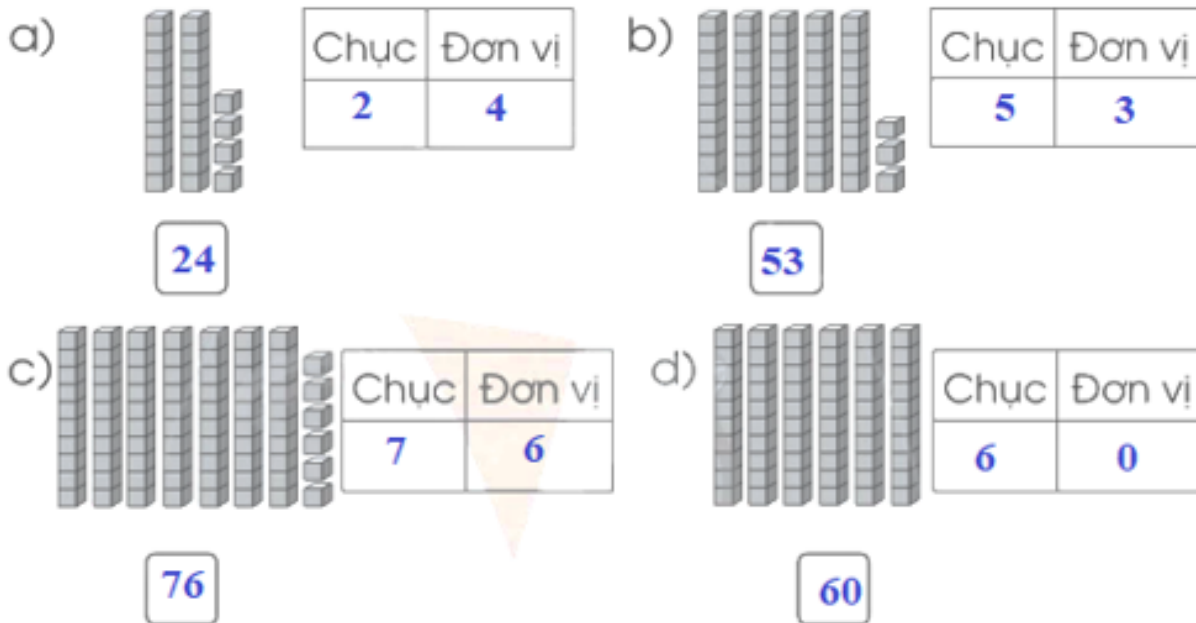
c) 

Chục	Đơn vị

d) 

Chục	Đơn vị

**Lời giải**



**Bài 5 Trang 20 Vở bài tập Toán lớp 1 Tập 2:**

Viết số thích hợp vào chỗ chấm:

- a) Số 12 gồm ..... chục và ..... đơn vị.
- b) Số 49 gồm ..... chục và ..... đơn vị.
- c) Số 80 gồm ..... chục và ..... đơn vị.
- d) Số 66 gồm ..... chục và ..... đơn vị.

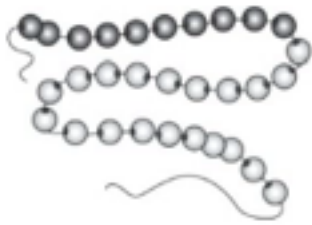


**Lời giải**

- a) Số 12 gồm 1 chục và 2 đơn vị.
- b) Số 49 gồm 4 chục và 9 đơn vị.
- c) Số 80 gồm 8 chục và 0 đơn vị.
- d) Số 66 gồm 6 chục và 6 đơn vị.

**Bài 6 Trang 20 Vở bài tập Toán lớp 1 Tập 2:**

Mỗi dây có mấy chục hạt?



chục



chục

### Lời giải

Hình bên trái có 3 chục hạt.

Hình bên phải có 5 chục hạt