

Nội dung bài viết

1. [Giải vở bài tập Toán lớp 1 Bài 41: Luyện tập - Cánh Diều](#)

Giải vở bài tập Toán lớp 1 Bài 41: Luyện tập - Cánh Diều

Bài 1 Trang 8 Vở bài tập Toán lớp 1 Tập 2:

Điền số thích hợp vào ô trống:


1	2		4		6		8		10
	12	13		15		17		19	

Lời giải


1	2	3	4	5	6	7	8	9	10
11	12	13	14	15	16	17	18	19	20

Bài 2 Trang 8 Vở bài tập Toán lớp 1 Tập 2:

Điền số thích hợp vào ô trống:




Lời giải



Bài 3 Trang 8 Vở bài tập Toán lớp 1 Tập 2:

Xem hình vẽ rồi viết số thích hợp vào chỗ chấm




Hình trên có: hình vuông, hình tròn, hình tam giác, hình chữ nhật. Có tất cả hình.

Lời giải


Hình trên có: 2 hình vuông, 4 hình tròn, 8 hình tam giác, 3 hình chữ nhật. Có tất cả 17 hình.

Bài 4 Trang 9 Vở bài tập Toán lớp 1 Tập 2:

Điền số thích hợp vào ô trống

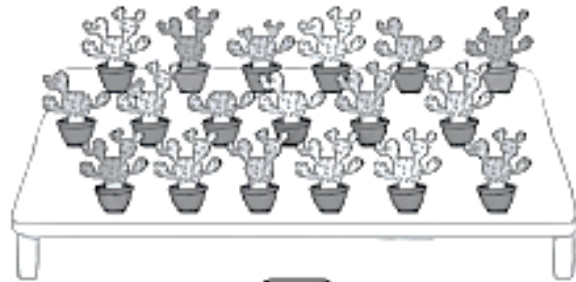
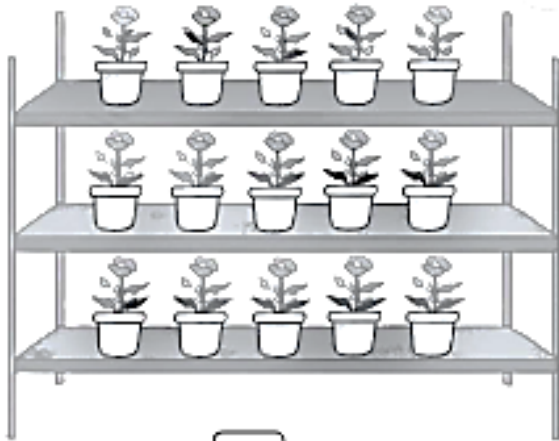



Lời giải




Bài 5 Trang 9 Vở bài tập Toán lớp 1 Tập 2:

Đếm rồi viết số cây mỗi loại vào ô trống:



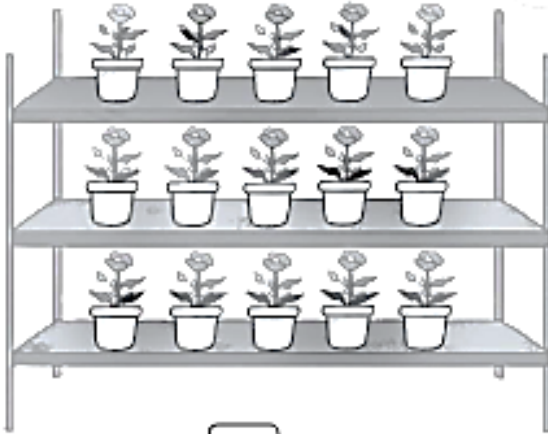
Lời giải



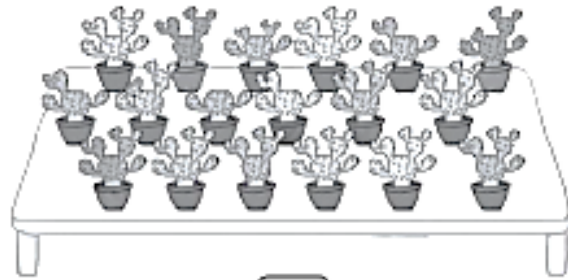
20



17



15



18