

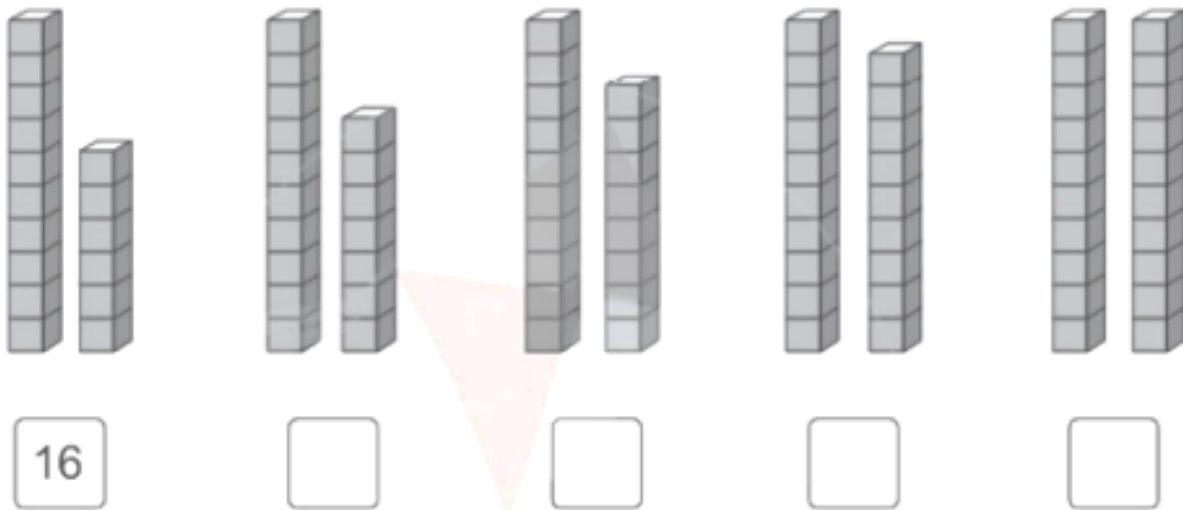
Nội dung bài viết

1. [Giải vở bài tập Toán lớp 1 Bài 40: Các số 17, 18, 19, 20 - Cánh Diều](#)

Giải vở bài tập Toán lớp 1 Bài 40: Các số 17, 18, 19, 20 - Cánh Diều

Bài 1 Trang 6 Vở bài tập Toán lớp 1 Tập 2:

Điền số thích hợp vào ô trống:





Lời giải





Bài 2 Trang 6 Vở bài tập Toán lớp 1 Tập 2:

Điền số thích hợp vào ô trống

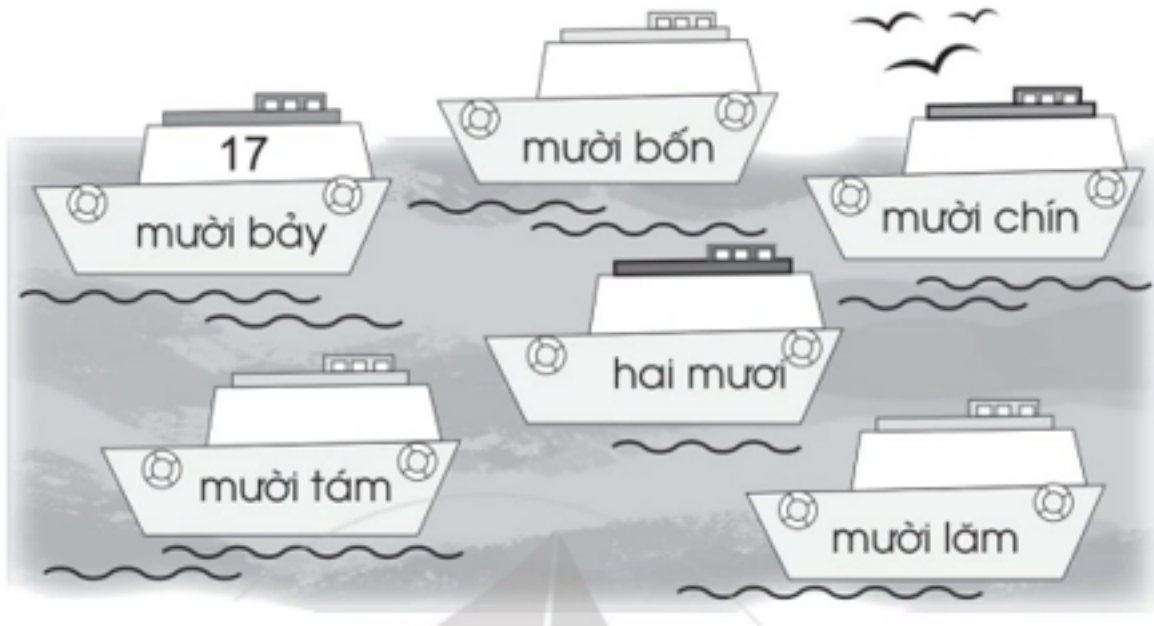


Lời giải

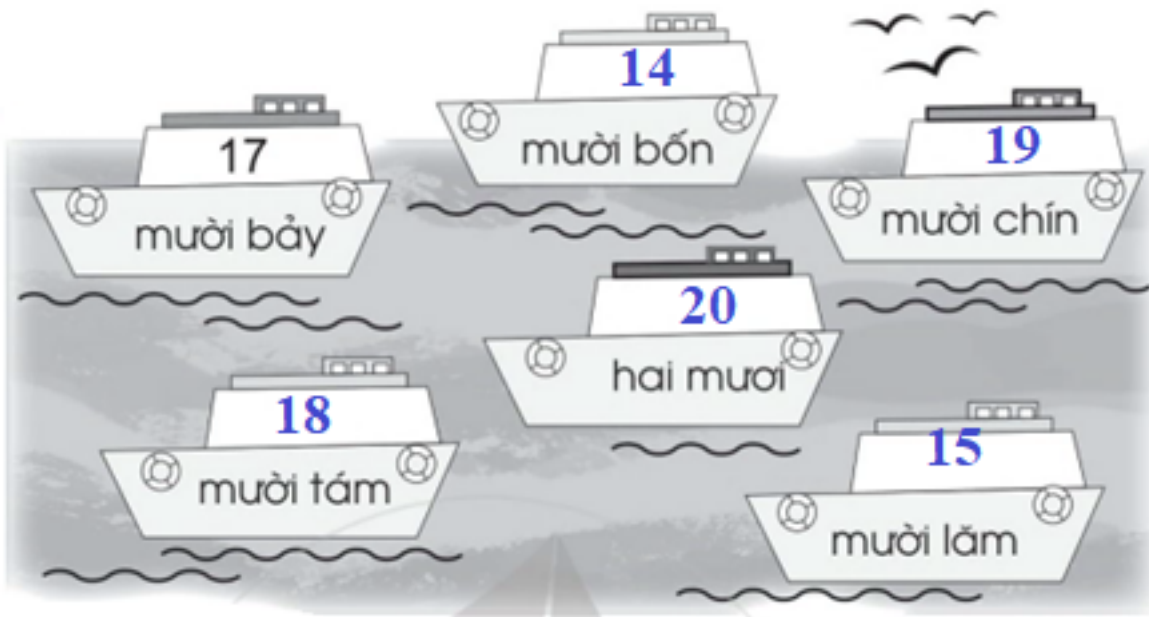


Bài 3 Trang 7 Vở bài tập Toán lớp 1 Tập 2:

Điền số thích hợp vào ô trống



Lời giải




Bài 4 Trang 7 Vở bài tập Toán lớp 1 Tập 2:

Điền số thích hợp vào ô trống



Lời giải



Bài 5 Trang 7 Vở bài tập Toán lớp 1 Tập 2:

Xem tranh rồi viết số thích hợp vào chỗ chấm

- a) Có tất cả bạn
- b) Có bạn nam



Lời giải

- a) Có tất cả 17 bạn
- b) Có 8 bạn nam