

Nội dung bài viết

1. [Giải VBT Địa Lý lớp 8 Bài 42: Miền Tây Bắc và Bắc Trung Bộ](#)

Giải VBT Địa Lý lớp 8 Bài 42: Miền Tây Bắc và Bắc Trung Bộ

Bài 1 trang 79 VBT Địa Lí 8:

Dựa vào hình 42.1 SGK, xác định vị trí địa lý và giới hạn của miền Tây Bắc và Bắc Trung Bộ.

Lời giải:

Miền Tây Bắc và Bắc Trung Bộ thuộc hữu ngạn sông Hồng từ tỉnh Điện Biên đến tỉnh Thừa thiên Huế.

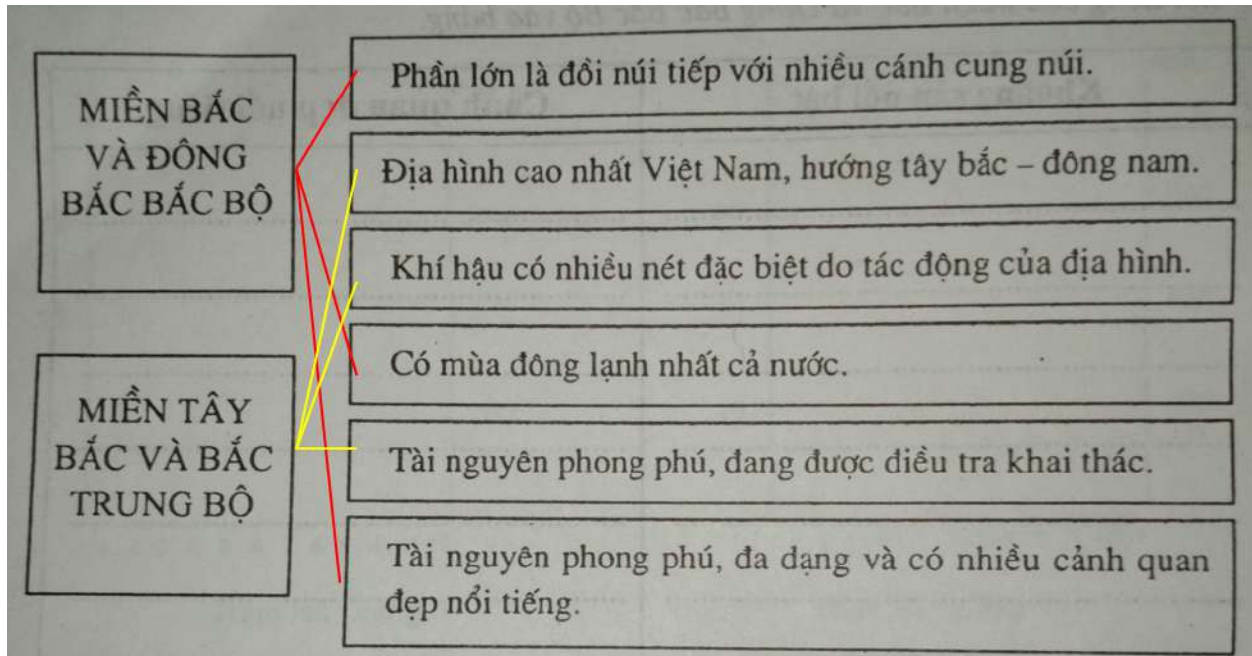
- Bắc giáp Trung Quốc.
- Đông Bắc giáp miền Bắc và Đông Bắc Bắc Bộ.
- Đông giáp vịnh Bắc Bộ.
- Tây giáp Lào.

Bài 2 trang 80 VBT Địa Lí 8:

Nối nội dung ở bên trái với nội dung ở các ô bên phải sao cho phù hợp.

<p>MIỀN BẮC VÀ ĐÔNG BẮC BẮC BỘ</p>	<p>Phần lớn là đồi núi tiếp với nhiều cánh cung núi.</p>
	<p>Địa hình cao nhất Việt Nam, hướng tây bắc – đông nam.</p>
	<p>Khí hậu có nhiều nét đặc biệt do tác động của địa hình.</p>
	<p>Có mùa đông lạnh nhất cả nước.</p>
<p>MIỀN TÂY BẮC VÀ BẮC TRUNG BỘ</p>	<p>Tài nguyên phong phú, đang được điều tra khai thác.</p>
	<p>Tài nguyên phong phú, đa dạng và có nhiều cảnh quan đẹp nổi tiếng.</p>

Lời giải:



Bài 3 trang 80 VBT Địa Lí 8:

So với miền Bắc và Đông Bắc Bắc Bộ, mùa đông ở miền Tây Bắc và Bắc Trung Bộ đến muộn và kết thúc sớm hơn, do:

(Đánh dấu X vào ô trống có nội dung phù hợp)

<input type="checkbox"/>	Ảnh hưởng của gió tây nam từ vịnh Ben-gan tới và bị biết tính (gió Lào)
<input type="checkbox"/>	Địa hình cao nhất nước ta
<input type="checkbox"/>	Các đợt gió mùa đông bắc lạnh bị chặn lại bởi dải Hoàng Liên Sơn và nóng dần lên khi xuống phía Nam
<input type="checkbox"/>	Tất cả các ý trên

Lời giải:

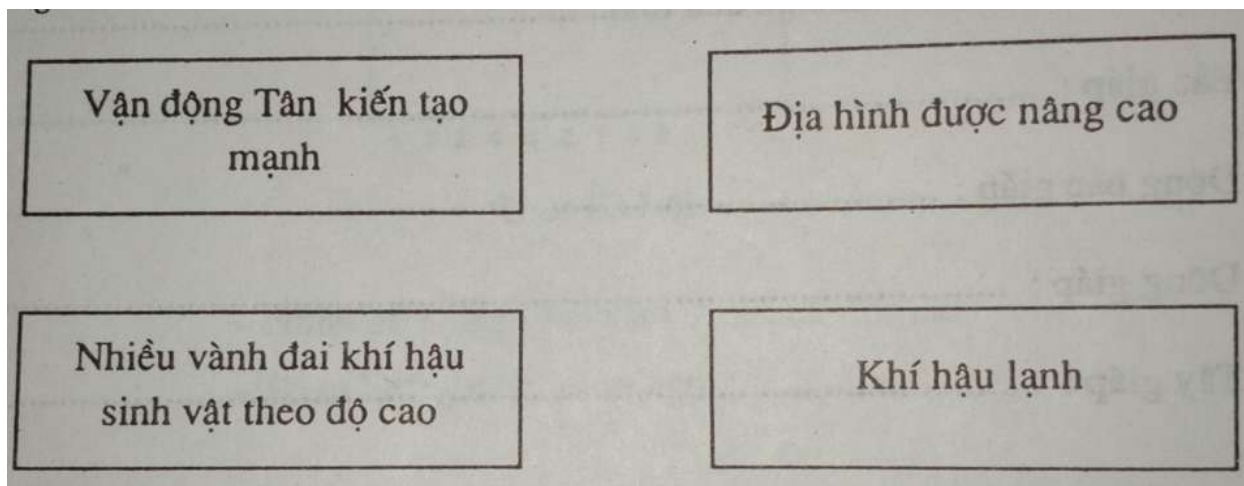
(Đánh dấu X vào ô trống có nội dung phù hợp)

<input type="checkbox"/>	Ảnh hưởng của gió tây nam từ vịnh Ben-gan tới và bị biết tính (gió Lào)
<input type="checkbox"/>	Địa hình cao nhất nước ta
<input checked="" type="checkbox"/>	Các đợt gió mùa đông bắc lạnh bị chặn lại bởi dải Hoàng Liên Sơn và nóng dần lên khi xuống phía Nam

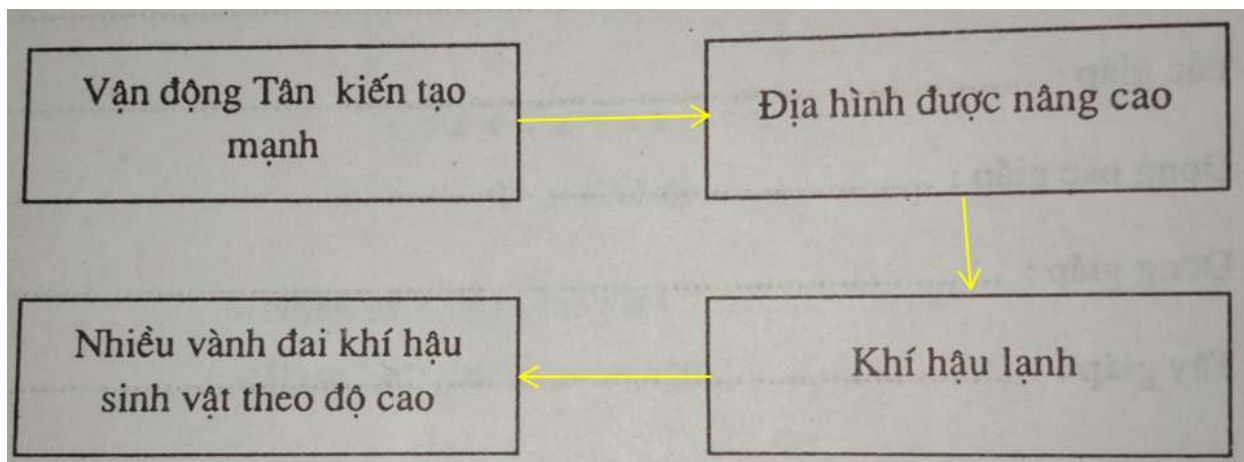
	Nam
	Tất cả các ý trên

Bài 4 trang 80 VBT Địa Lí 8:

Đánh các mũi tên để hình thành sơ đồ vận động giữa các hợp phần tự nhiên trong miền.



Lời giải:



Bài 5 trang 81 VBT Địa Lí 8:

Nổi lên hàng đầu trong tài nguyên của miền là:

(Đánh dấu X vào ô trống có nội dung phù hợp)

<input type="checkbox"/>	Có tới hàng trăm mỏ và điểm quặng khác nhau
<input type="checkbox"/>	Tiền năng thủy điện lớn trên sông Đà
<input type="checkbox"/>	Có đầy đủ các vành đai thực vật ở Việt Nam
<input type="checkbox"/>	Tài nguyên biển to lớn và đa dạng

Lời giải:

(Đánh dấu X vào ô trống có nội dung phù hợp)

<input type="checkbox"/>	Có tới hàng trăm mỏ và điểm quặng khác nhau
<input checked="" type="checkbox"/>	Tiền năng thủy điện lớn trên sông Đà
<input type="checkbox"/>	Có đầy đủ các vành đai thực vật ở Việt Nam
<input type="checkbox"/>	Tài nguyên biển to lớn và đa dạng