

Nội dung bài viết

1. [Giải VBT Địa Lý lớp 8 Bài 41: Miền Bắc và Đông Bắc Bắc Bộ](#)

Giải VBT Địa Lý lớp 8 Bài 41: Miền Bắc và Đông Bắc Bắc Bộ

Bài 1 trang 77 VBT Địa Lí 8:

Dựa vào hình 41.1 SGK, xác định vị trí địa lý và giới hạn của miền Bắc và Đông Bắc Bắc Bộ.

Lời giải:

Tọa độ địa lí	Tiếp giáp
<ul style="list-style-type: none"> - Bao gồm các khu vực: khu đồi núi tả ngạn sông Hồng và khu đồng bằng Bắc Bộ. - Về vĩ độ: Từ 23⁰23'B đến 21⁰B. - Về kinh độ: Từ 105⁰Đ đến 109⁰Đ. 	<ul style="list-style-type: none"> - Bắc và đông bắc giáp: Trung Quốc. - Đông giáp: Vịnh Bắc Bộ. - Tây nam giáp: Miền tây bắc và Bắc trung bộ.

Bài 2 trang 77 VBT Địa Lí 8:

Tính chất nhiệt đới của miền Bắc và Đông Bắc Bắc Bộ bị giảm sút mạnh mẽ do:

(Đánh dấu X vào ô trống có nội dung không phù hợp)

<input type="checkbox"/>	Chịu ảnh hưởng trực tiếp của gió mùa đông bắc lạnh
<input type="checkbox"/>	Có độ cao lớn nhất nước ta
<input type="checkbox"/>	Nằm ở vĩ độ cao nhất nước, tiếp giáp với vùng ngoài chí tuyến
<input type="checkbox"/>	Các dãy núi mở rộng về phía bắc, tạo điều kiện cho gió mùa đông bắc lấn sâu vào Bắc Bộ

Lời giải:

<input checked="" type="checkbox"/>	Chịu ảnh hưởng trực tiếp của gió mùa đông bắc lạnh
<input type="checkbox"/>	Có độ cao lớn nhất nước ta
<input type="checkbox"/>	Nằm ở vĩ độ cao nhất nước, tiếp giáp với vùng ngoài chí tuyến

Các dãy núi mở rộng về phía bắc, tạo điều kiện cho gió mùa đông bắc lấn sâu vào Bắc Bộ

Bài 3 trang 77 VBT Địa Lí 8:

Điền tên các cánh cung núi, các sơn nguyên và các hệ thống sông lớn của miền Bắc và Đông Bắc Bắc Bộ vào bảng.

Các cánh cung núi	Các sơn nguyên	Các hệ thống sông lớn

Lời giải:

Các cánh cung núi	Các sơn nguyên	Các hệ thống sông lớn
Sông Gâm, Ngân Sơn, Bắc Sơn, Đông Triều.	Sơn nguyên đá vôi Hà Giang, Cao Bằng	Sông Hồng, sông Thái Bình, sông Kỳ Cùng – Bằng Giang.

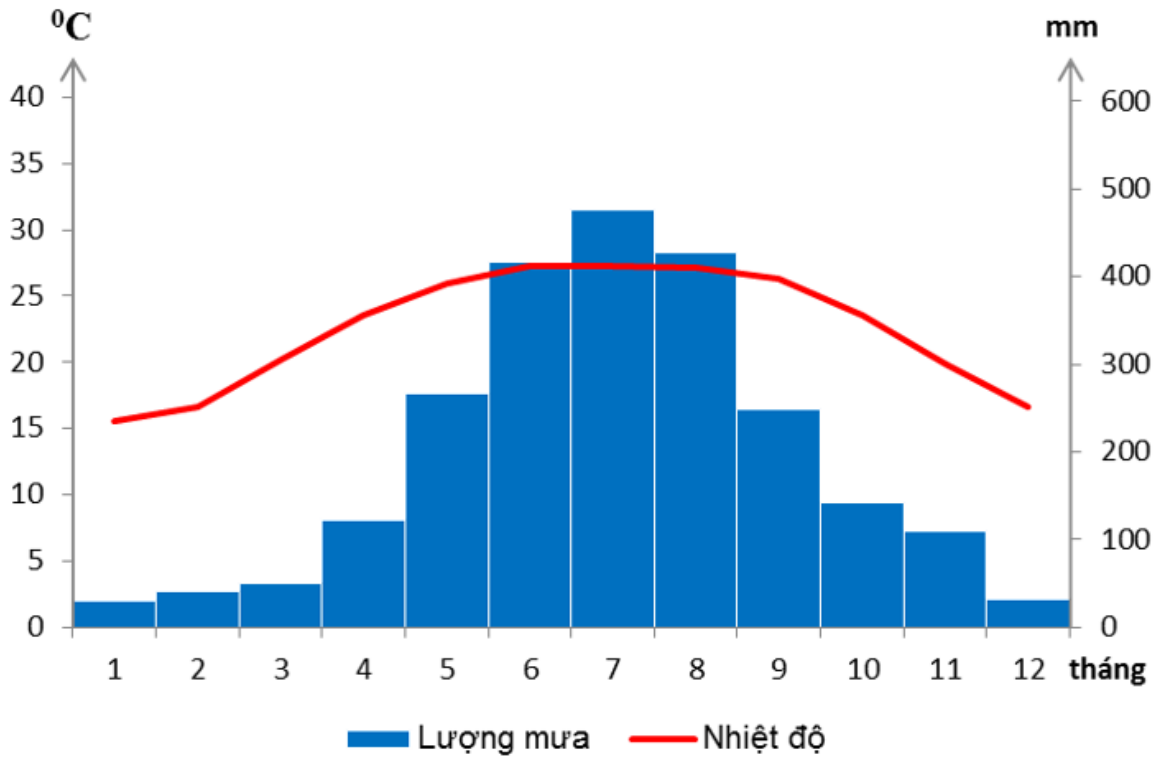
Bài 4 trang 78 VBT Địa Lí 8:

Dựa vào bảng 41.1 SGK, vẽ biểu đồ khí hậu của ba trạm Hà Giang, Hà Nội, Lạng Sơn.

Lời giải:

Biểu đồ thể hiện nhiệt độ lượng mưa ở Hà Giang, Lạng Sơn và Hà Nội.

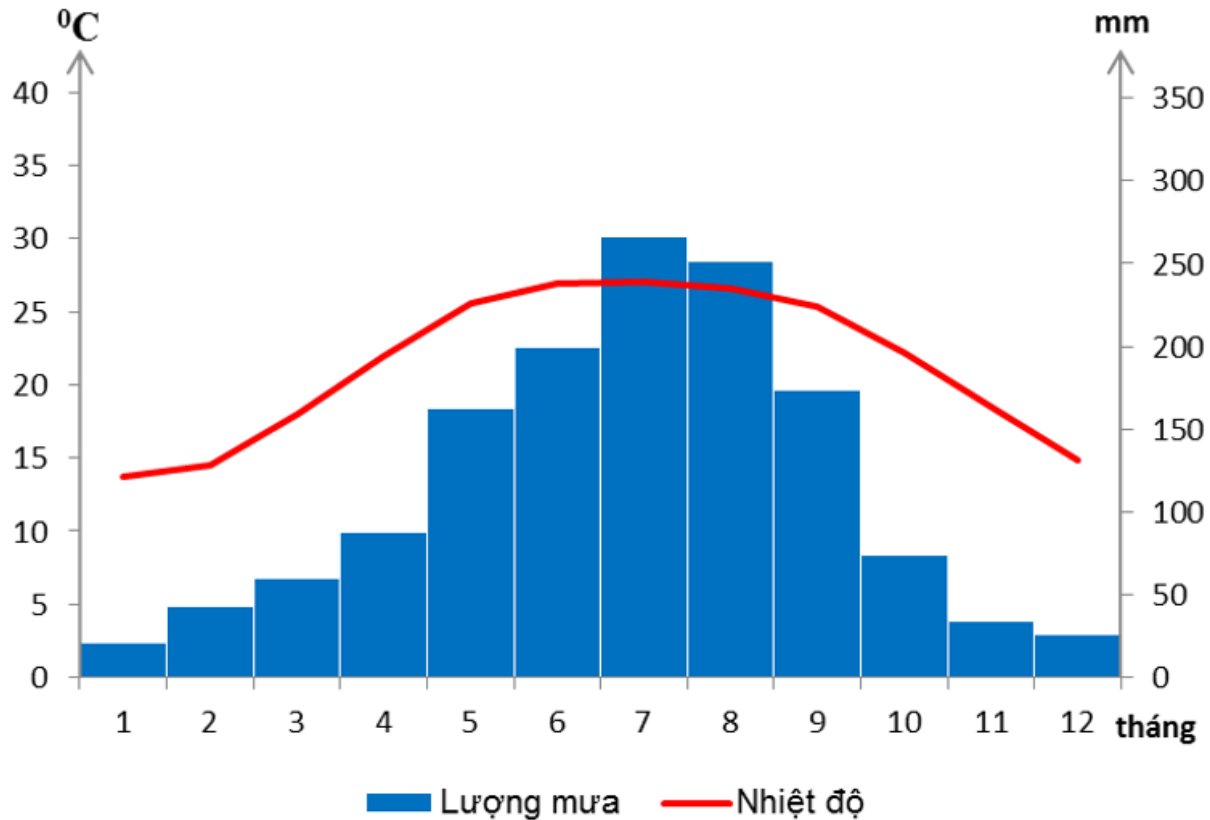
Hà Giang



+ Trạm Hà Giang: nhiệt độ trung bình năm là 22,5°C.

+ Tổng lượng mưa là 2362mm.

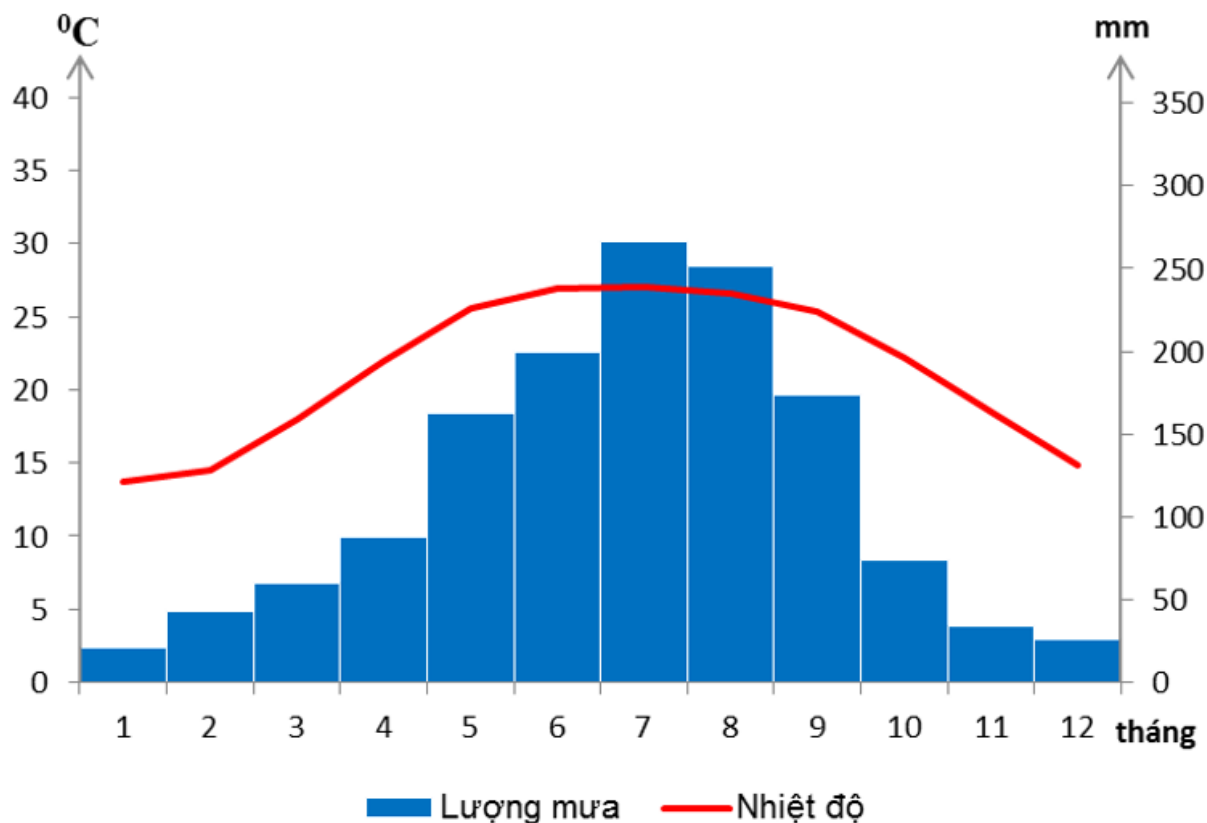
Lạng Sơn



+ Trạm Lạng Sơn: nhiệt độ trung bình năm là 21,3°C.

+ Tổng lượng mưa năm là 1400mm.

Lạng Sơn



+ Trạm Hà Nội: Nhiệt độ trung bình năm là 23,5°C.

+ Tổng lượng mưa năm là 1676mm.

Bài 5 trang 79 VBT Địa Lí 8:

Điền tên và nơi phân bố của một số khoáng sản nổi bật, một số cảnh quan đẹp nổi tiếng của miền Bắc và Đông Bắc Bắc Bộ vào bảng.

Khoáng sản nổi bật	Cảnh quan đẹp nổi tiếng

Lời giải:

Khoáng sản nổi bật	Cảnh quan đẹp nổi tiếng
Than đá, apatit, quặng sắt, thiếc, vonfram, thủy ngân, đá	Vịnh Hạ Long, VQG Cúc Phương, Ba Vì,

vôi, đất sét,...

Tam Đảo,...