

Nội dung bài viết

1. [Giải VBT Địa Lý lớp 8 Bài 38: Bảo vệ tài nguyên sinh vật Việt Nam](#)

Giải VBT Địa Lý lớp 8 Bài 38: Bảo vệ tài nguyên sinh vật Việt Nam

Bài 1 trang 71 VBT Địa Lí 8:

Hãy nối tên một số loài cây ở ô bên phải sao cho phù hợp với giá trị sử dụng ở ô bên trái.

Cho gỗ tốt	Hồi, pơmu, sơn, thông, cánh kiến,...
Cho tinh dầu, nhựa, ta nanh và chất nhuộm	Ba kích, tam thất, xuyên khung, sa nhân, ngũ gia bì, nhân trần,...
Làm thuốc	Nấm hương, mộc nhĩ, hạt dẻ...
Làm thực phẩm	Đinh, lim, sến, táo, lát hoa, gụ,...

Lời giải:

Cho gỗ tốt	Hồi, pơmu, sơn, thông, cánh kiến,...
Cho tinh dầu, nhựa, ta nanh và chất nhuộm	Ba kích, tam thất, xuyên khung, sa nhân, ngũ gia bì, nhân trần,...
Làm thuốc	Nấm hương, mộc nhĩ, hạt dẻ...
Làm thực phẩm	Đinh, lim, sến, táo, lát hoa, gụ,...

(Note: Red lines in the original image connect the boxes as follows: 'Cho gỗ tốt' to 'Đinh, lim, sến, táo, lát hoa, gụ,...'; 'Cho tinh dầu, nhựa, ta nanh và chất nhuộm' to 'Hồi, pơmu, sơn, thông, cánh kiến,...'; 'Làm thuốc' to 'Ba kích, tam thất, xuyên khung, sa nhân, ngũ gia bì, nhân trần,...'; 'Làm thực phẩm' to 'Nấm hương, mộc nhĩ, hạt dẻ...')

Bài 2 trang 71 VBT Địa Lí 8:

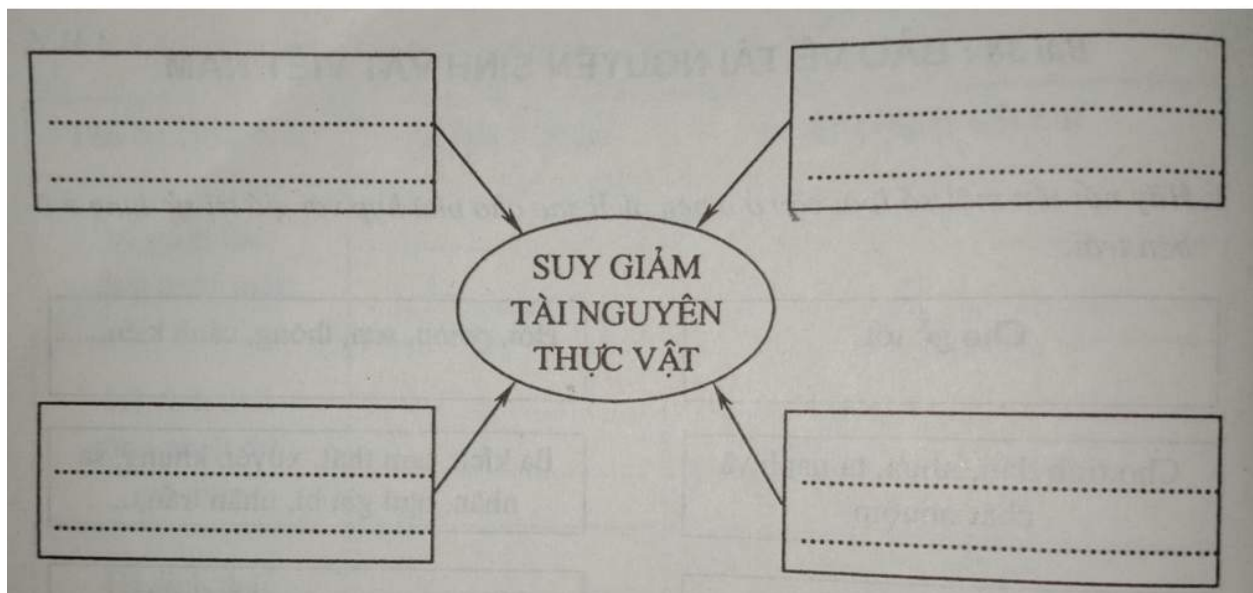
Kể tên một số loại sản phẩm phục vụ con người được sản xuất từ động vật.

Lời giải:

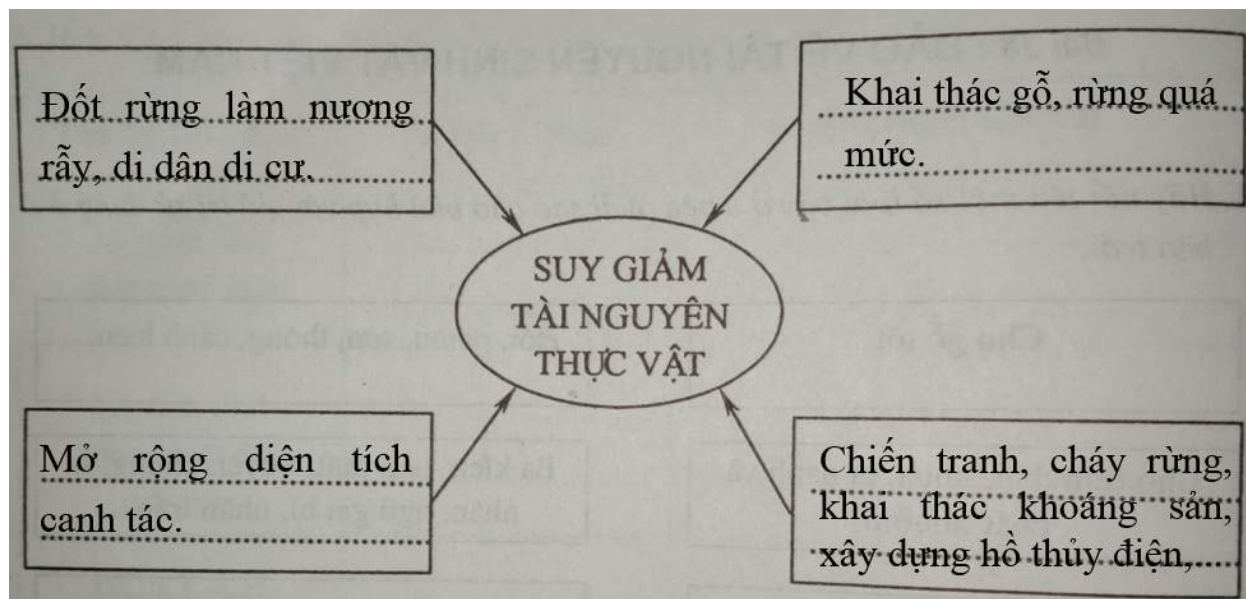
Thực phẩm	Thịt bò khô, trứng, thịt tươi,...
Thuốc	Mật ong, mật gấu,...
Đồ dùng sinh hoạt	Áo len lông cừu, áo lông thú, san hô, ngọc trai,...

Bài 3 trang 71 VBT Địa Lí 8:

Điền vào ô trống của sơ đồ sau một số nguyên nhân làm suy giảm tài nguyên sinh vật nước ta:



Lời giải:



Bài 4 trang 72 VBT Địa Lí 8:

Vẽ biểu đồ thể hiện tỉ lệ che phủ rừng của nước ta qua các năm. Nêu nhận xét.

Đơn vị tính: triệu ha

Năm	1943	1993	2001
Diện tích đất tự nhiên	32,9	32,9	32,9
Diện tích rừng 14,3	8,6	11,8	
Tỉ lệ che phủ rừng (%)			

Lời giải:

a) Vẽ biểu đồ

Xử lí số liệu:

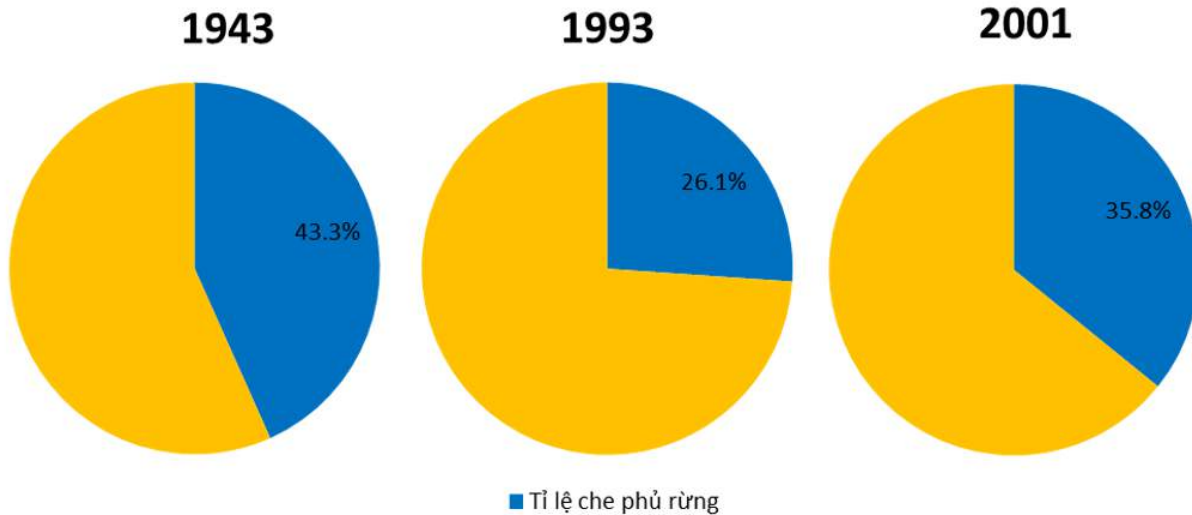
Đơn vị tính: triệu ha

Năm	1943	1993	2001
Diện tích đất tự nhiên	32,9	32,9	32,9
Diện tích rừng	14,3	8,6	11,8

Tỉ lệ che phủ rừng (%)	43,5	26,1	35,9
------------------------	------	------	------

Vẽ biểu đồ

Biểu đồ thể hiện tỉ lệ che phủ rừng của nước ta qua các năm.



b) Nhận xét về xu hướng biến động của tỉ lệ che phủ rừng ở Việt Nam.

- Diện tích rừng nước ta biến động qua các thời kì.
- Giai đoạn 1943 đến 1993 diện tích rừng nước ta giảm sút, giảm từ 43,3% xuống còn 26,1%. Nguyên nhân do chiến tranh, cháy rừng, khai thác rừng quá mức.
- Giai đoạn 1993 đến 2001, diện tích rừng tăng lên 35,8% do nước ta thực hiện các chính sách trồng rừng và bảo vệ rừng, tuy nhiên diện tích và chất lượng rừng chưa thể phục hồi được như năm 1943.