

Nội dung bài viết

1. [Giải VBT Địa Lý lớp 8 Bài 20: Khí hậu và cảnh quan trên Trái Đất](#)

Giải VBT Địa Lý lớp 8 Bài 20: Khí hậu và cảnh quan trên Trái Đất

Bài 1 trang 40 VBT Địa Lí 8:

Quan sát hình 20.1 và hình 20.2 SGK, xác định những đới khí hậu nào có ở các châu lục?

(Đánh dấu x vào cột có nội dung thích hợp)

Các châu lục	Các đới khí hậu		
	Nhiệt đới	Ôn đới	Hàn đới
Châu Á
Châu Âu
Châu Phi
Châu Mĩ
Châu Đại Dương

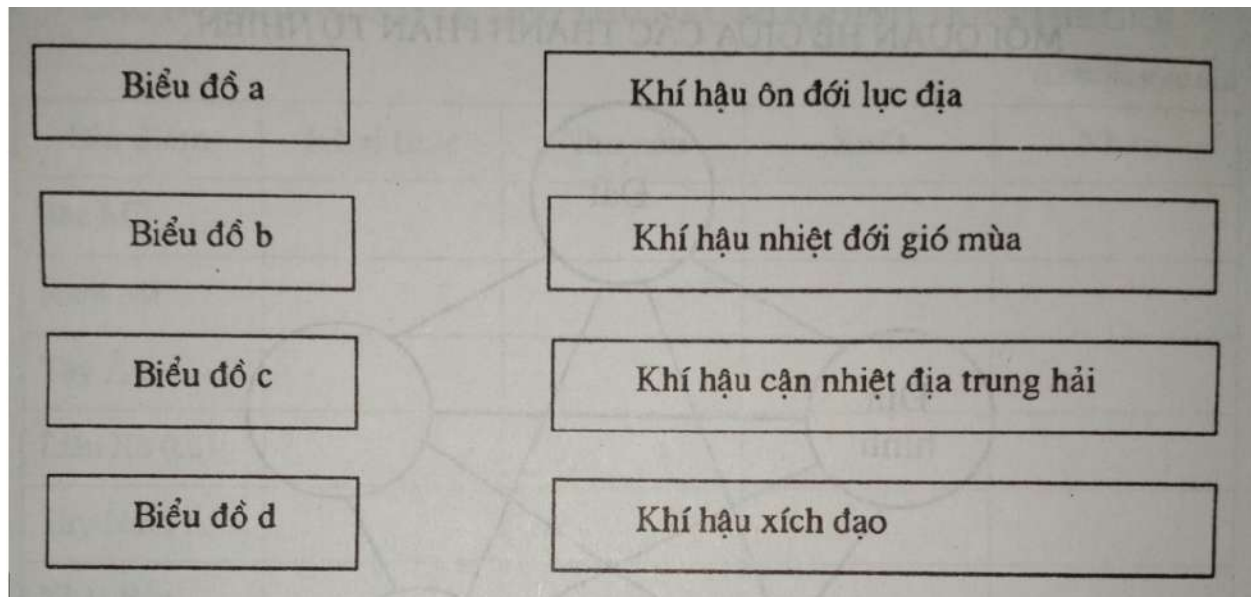
Lời giải:

(Đánh dấu x vào cột có nội dung thích hợp)

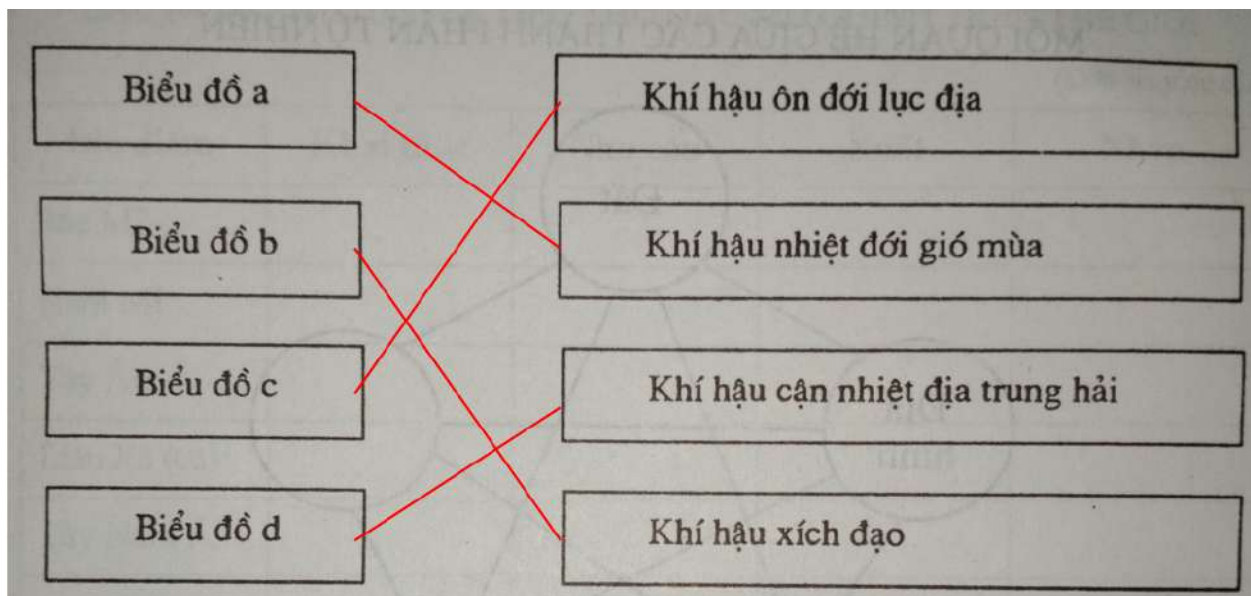
Các châu lục	Các đới khí hậu		
	Nhiệt đới	Ôn đới	Hàn đới
Châu Á X X X
Châu Âu X X
Châu Phi X
Châu Mĩ X X X
Châu Đại Dương X X

Bài 2 trang 41 VBT Địa Lí 8:

Quan sát hình 20.2 SGK, vẽ các mũi tên nối ô bên trái với ô bên phải để xác định các kiểu khí hậu tương ứng với các biểu đồ nhiệt độ và lượng mưa.

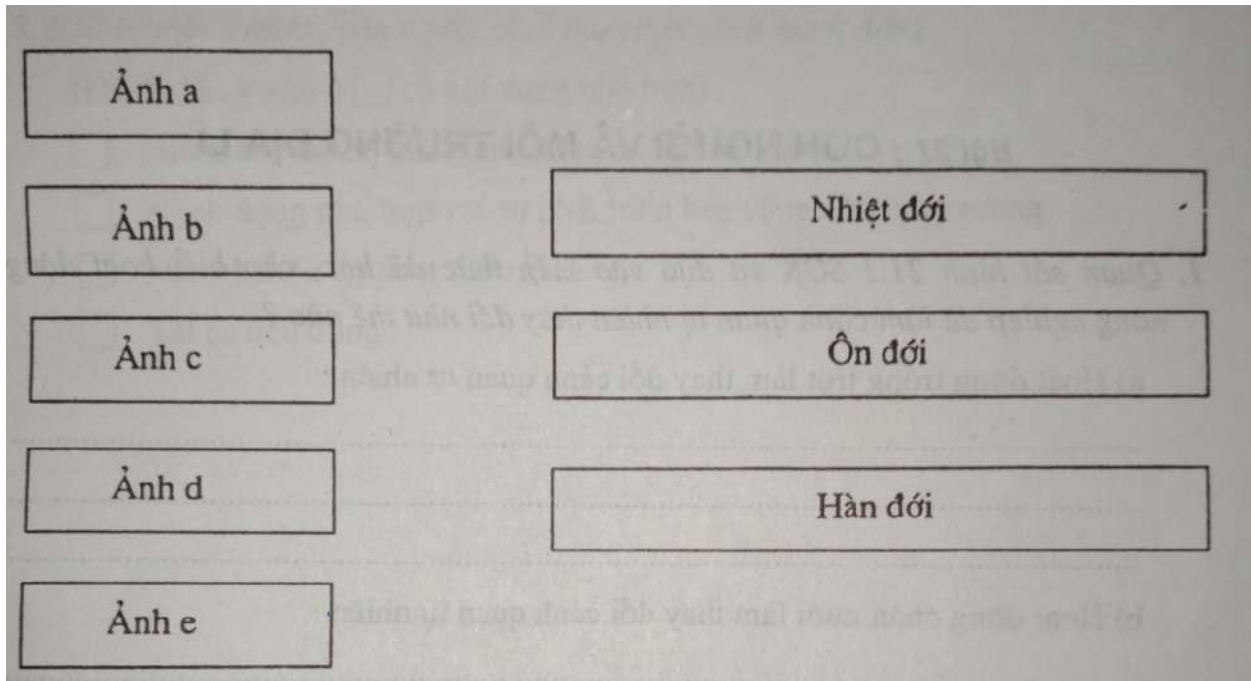


Lời giải:

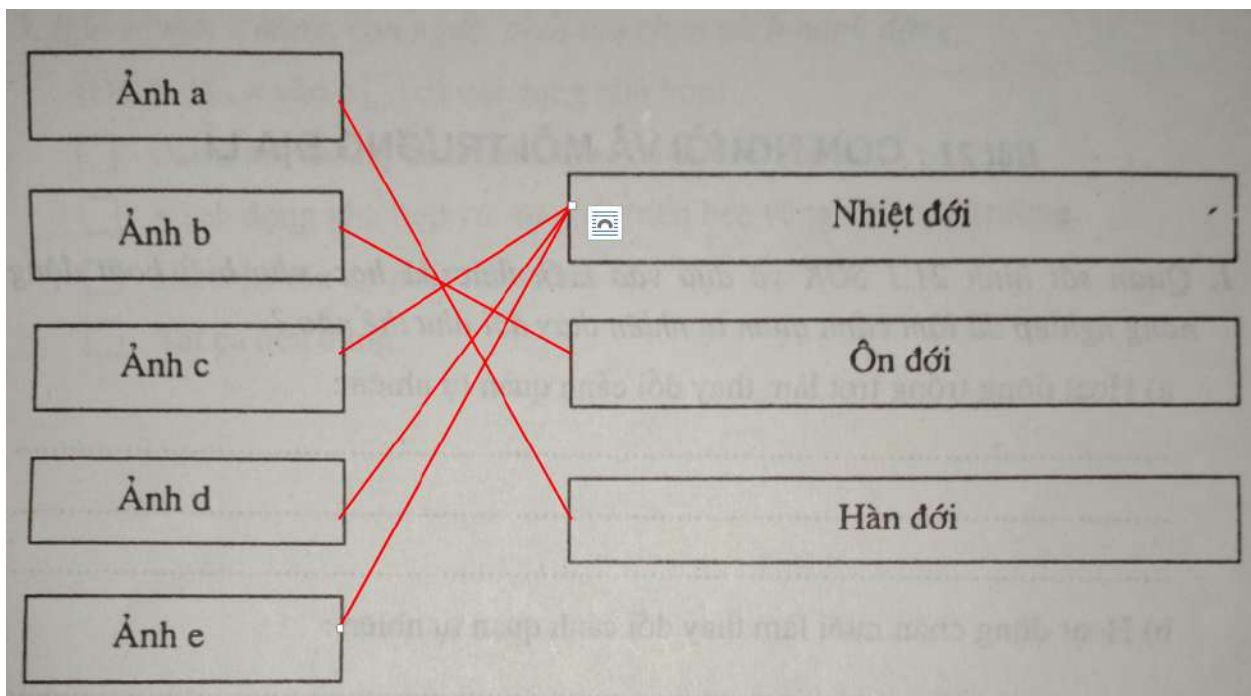


Bài 3 trang 41 VBT Địa Lí 8:

Quan sát hình 20.4 SGK, vẽ các mũi tên nối ô bên trái với ô bên phải để xác định đới khí hậu tương ứng với các cảnh quan trong hình.



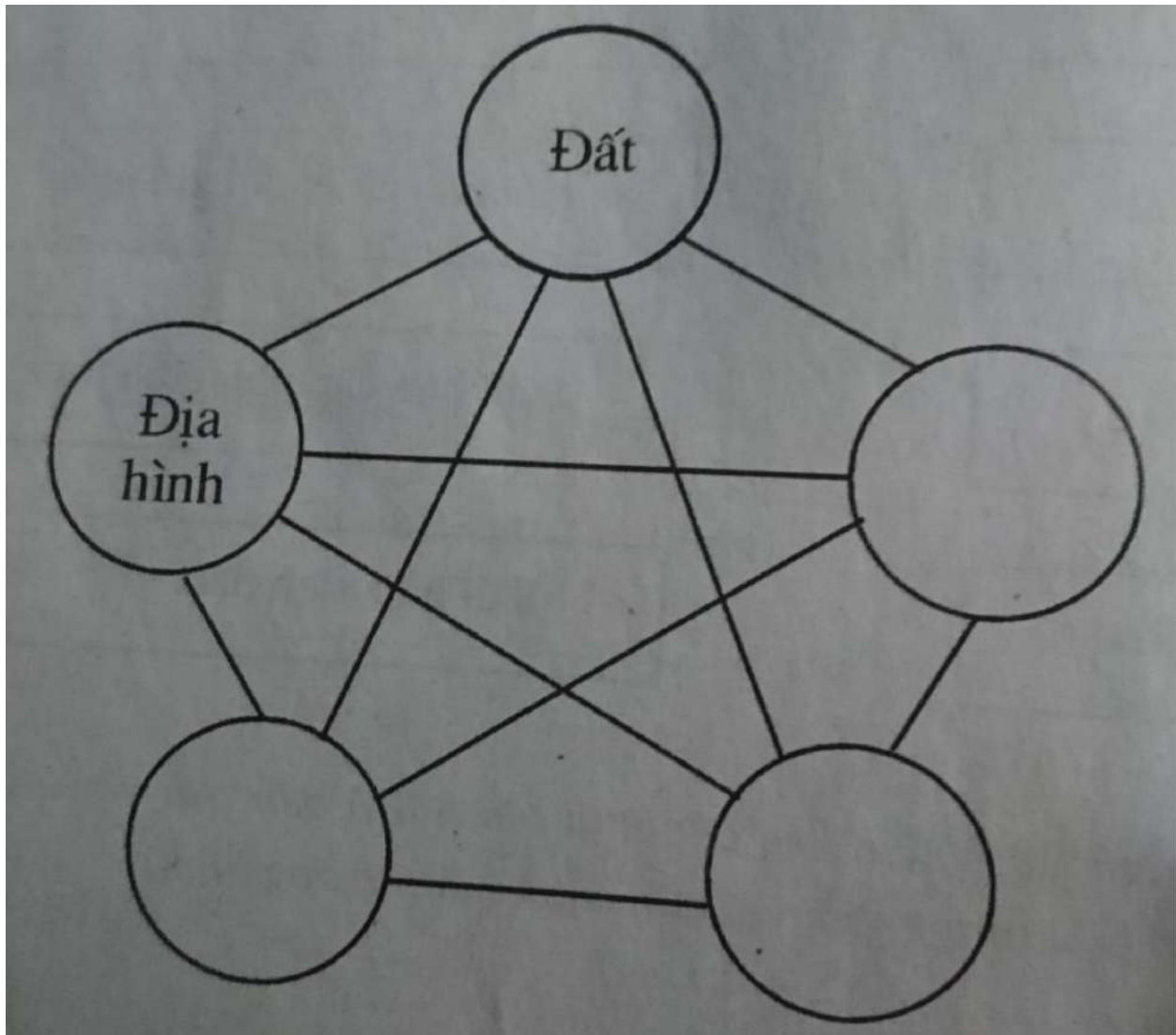
Lời giải:



Bài 4 trang 42 VBT Địa Lí 8:

Hãy điền tên các thành phần tự nhiên cấu tạo nên vỏ Trái Đất và vẽ các mũi tên để hoàn chỉnh sơ đồ sau:

MỐI QUAN HỆ GIỮA CÁC THÀNH PHẦN TỰ NHIÊN



Lời giải:

MỐI QUAN HỆ GIỮA CÁC THÀNH PHẦN TỰ NHIÊN

