


Mời các em học sinh và quý thầy cô tham khảo hướng dẫn Giải vở bài tập toán lớp 2 tập 2 Cánh diều Bài 94: Bài kiểm tra số 4 được đội ngũ chuyên gia biên soạn đầy đủ và ngắn gọn dưới đây. Hi vọng sẽ giúp các em học sinh nắm tốt kiến thức bài học, bổ sung cho mình các kỹ năng thực hành giải bài tập một cách chính xác nhất.

***Giải VBT Toán 2 Bài 94: Bài kiểm tra số 4 sách Cánh diều***

**Bài 1.** Khoanh vào chữ đặt trước đáp án đúng:

a)



Hình trên có số ô vuông là:

- A. 84            B. 804            C. 408            D. 840

b) Số 895 được viết thành:

- A.  $8 + 9 + 5$   
 B.  $5 + 9 + 8$   
 C.  $800 + 90 + 5$   
 D.  $500 + 90 + 8$

**Trả lời:**

a) Chọn B. 804

b) Chọn C.  $800 + 90 + 5$

**Bài 2.** Viết tiếp vào chỗ chấm:

Cho một đường gấp khúc gồm ba đoạn thẳng có độ dài lần lượt là 27 cm, 15 cm, 25 cm. Độ dài đường gấp khúc đó là .....

**Trả lời:**

Cho một đường gấp khúc gồm ba đoạn thẳng có độ dài lần lượt là 27 cm, 15 cm, 25 cm. Độ dài đường gấp khúc đó là **67 cm**.

**Bài 3.** Đặt tính rồi tính:

$263 + 322$

$735 - 313$

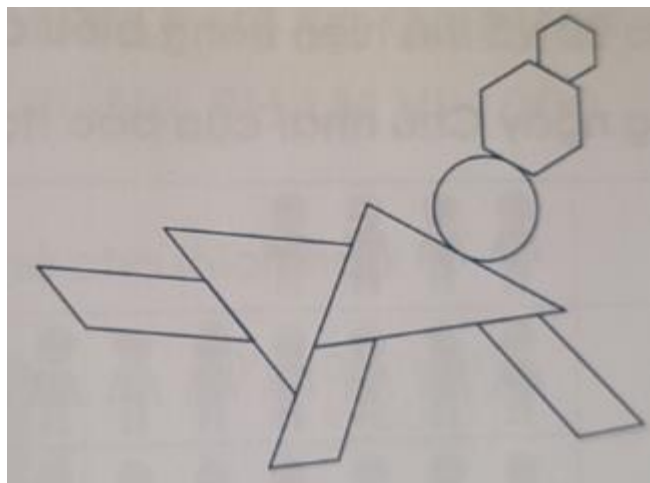
$905 + 76$

$858 - 709$

**Trả lời:**

263	735	905	858
+	-	+	-
322	313	76	709
<hr/>	<hr/>	<hr/>	<hr/>
585	422	981	149

**Bài 4.** a) Hình sau có ..... hình tứ giác



b) Khoanh vào chữ đặt trước đáp án đúng:

Chiều dài chiếc băng lớp khoảng:

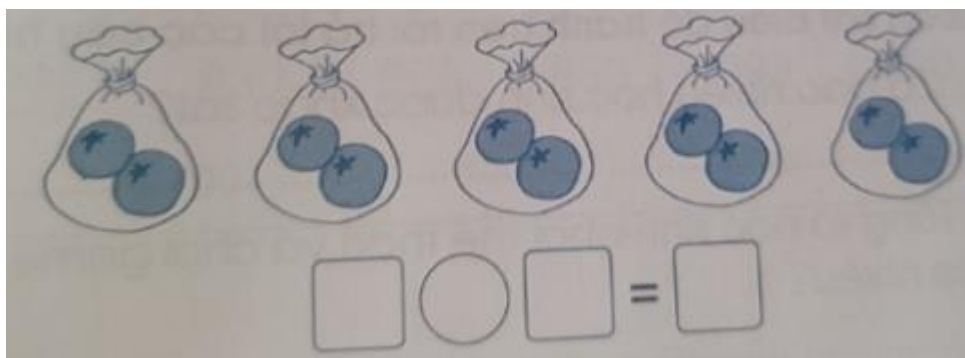
- A. 2 cm                      B. 2 dm                      C. 2 m

**Trả lời:**

a) Hình sau có 3 hình tứ giác

b) Chọn C. 2 m

**Bài 5.** a) Viết phép nhân thích hợp với tranh vẽ:



b) Viết số hoặc phép chia thích hợp:

Có 15 bông hoa cắm đều vào 3 lọ, mỗi lọ có .... bông hoa.

.... .... = ....

**Trả lời:**

a) Phép nhân:  $2 \times 5 = 10$

b) Có 15 bông hoa cắm đều vào 3 lọ, mỗi lọ có 5 bông hoa.

$15 : 3 = 5$

**Bài 6.** Duy khảo sát các hoạt động trong ngày Chủ nhật của các bạn lớp 2D và thể hiện trong biểu đồ tranh như sau:

Hoạt động trong ngày Chủ nhật của các học sinh lớp 2D:



Quan sát biểu đồ tranh trên rồi trả lời các câu hỏi:

- Có bao nhiêu học sinh được khảo sát?
- Tổng số học sinh chơi thể thao và chơi game bằng bao nhiêu?

**Trả lời:**

- Có 37 học sinh được khảo sát
- Tổng số học sinh chơi thể thao và chơi game bằng:  $10 + 9 = 19$

**Bài 7.** Thuyền thứ nhất có 305 người, thuyền thứ hai có nhiều hơn thuyền thứ nhất 86 người. Hỏi thuyền thứ hai có bao nhiêu người?

**Trả lời:**

Số người thuyền thứ hai có là:

$$305 + 86 = 391 \text{ (người)}$$

Đáp số: 391 người.