



Mời các em học sinh và quý thầy cô tham khảo hướng dẫn Giải vở bài tập toán lớp 2 tập 2 Cánh diều Bài 90: Thu thập - Kiểm đếm được đội ngũ chuyên gia biên soạn đầy đủ và ngắn gọn dưới đây. Hi vọng sẽ giúp các em học sinh nắm tốt kiến thức bài học, bổ sung cho mình các kỹ năng thực hành giải bài tập một cách chính xác nhất.

Giải VBT Toán 2 Bài 90: Thu thập - Kiểm đếm sách Cánh diều

Bài 1. Số?



Trả lời:



Bài 2. Kiểm đếm số lượng từng loại con vật: châu chấu, chuồn chuồn, bọ rùa và ghi lại kết quả (theo mẫu):

Mẫu: Ong ### | 6

Châu chấu:.....


Chuồn chuồn:.....

Bọ rùa:.....

Trả lời:

- Châu chấu:  5
- Chuồn chuồn:  3
- Bọ rùa:  11

Bài 3. a) Kiểm đếm số lượng từng loại trái cây: na, thăng long, dâu tây, dứa và ghi lại kết quả (theo mẫu):



b) Loại trái cây có nhiều nhất là:

Loại trái cây có ít nhất là:

Trả lời:

a)

- Na:  5
- Thanh long:  8
- Dâu tây:  12
- Dứa:  4

b) Loại trái cây có nhiều nhất là: dâu tây

Loại trái cây có ít nhất là: dứa

Bài 4. Một người theo dõi thời tiết đã ghi lại thời tiết trong tháng 6 như sau:

	1	2	3	4	5	6	7	8	9	10
Tháng 6										
	11	12	13	14	15	16	17	18	19	20
										
	21	22	23	24	25	26	27	28	29	30
										

a) Hãy kiểm đếm và ghi lại kết quả:

Số ngày nắng:

Số ngày mưa:

Số ngày nhiều mây:

b) Viết lại nhận xét về số ngày nắng trong tháng trên:

.....

Trả lời:

a) Kiểm đếm:

Số ngày nắng: 12

Số ngày mưa: 8

Số ngày nhiều mây: 10

b) Nhận xét:

Số ngày nắng trong tháng nhiều hơn so với số ngày mưa, ngày nhiều mây

Bài 5. Trò chơi "Oẳn tù tì"

Em và bạn thực hiện nhiều lần, kiểm đếm và ghi lại kết quả mỗi lần chơi (theo mẫu)