


Mời các em học sinh và quý thầy cô tham khảo hướng dẫn Giải vở bài tập toán lớp 2 tập 2 Cánh diều Bài 53: Phép nhân, dấu nhân được đội ngũ chuyên gia biên soạn đầy đủ và ngắn gọn dưới đây. Hi vọng sẽ giúp các em học sinh nắm tốt kiến thức bài học, bổ sung cho mình các kỹ năng thực hành giải bài tập một cách chính xác nhất.

Giải VBT Toán 2 Bài 53: Phép nhân, dấu nhân sách Cánh diều

Bài 1. Xem hình rồi nói và viết phép nhân (theo mẫu):


Mẫu:



$2 \times 4 = 2 + 2 + 2 + 2 = 8$
 $2 \times 4 = 8$

$2 \times 4 = ?$

a)




$4 \times 3 = 4 + 4 + 4 = 12$

x =

$4 \times 3 = ?$

b)




$5 \times 2 = 5 + 5 = 10$

x =

$5 \times 2 = ?$

c)



$6 \times 3 = 6 + 6 + 6 = 18$

x =

$6 \times 3 = ?$

Trả lời:

a) $4 \times 3 = 12$

b) $5 \times 2 = 10$

c) $6 \times 3 = 18$

Bài 2. Chuyển tổng các số hạng bằng nhau thành phép nhân (theo mẫu):

Mẫu: $7 + 7 + 7 = 21$

$7 \times 3 = 21$

a) $2 + 2 + 2 = 6$ b) $10 + 10 + 10 + 10 = 40$

c) $9 + 9 = 18$ d) $5 + 5 + 5 + 5 + 5 + 5 = 30$

Trả lời:

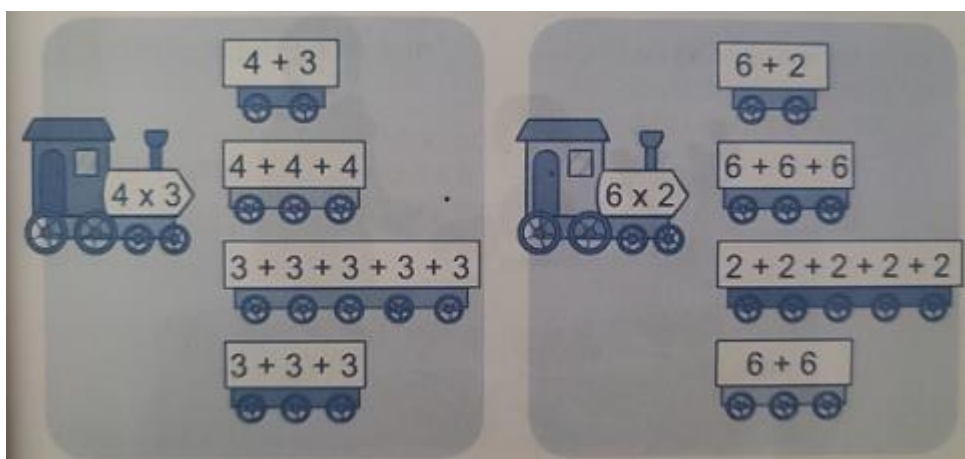
a) $2 + 2 + 2 = 6$ b) $10 + 10 + 10 + 10 = 40$

$2 \times 3 = 6$ $10 \times 4 = 40$

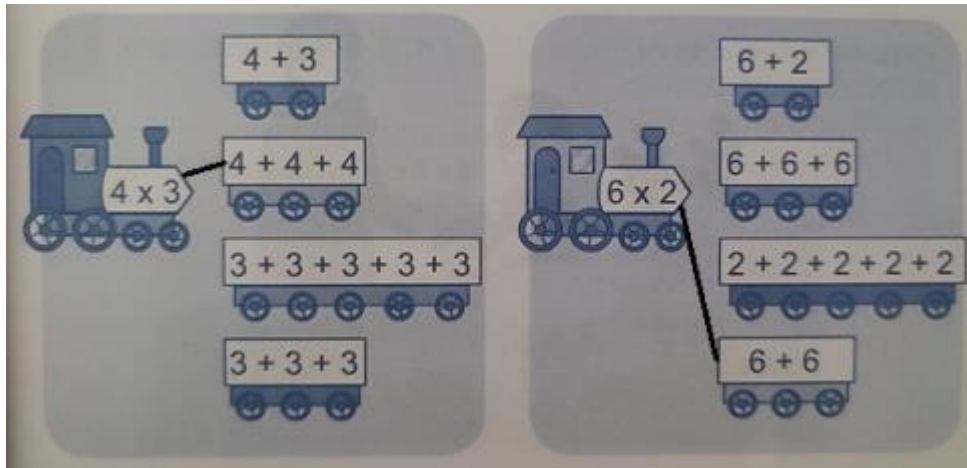
c) $9 + 9 = 18$ d) $5 + 5 + 5 + 5 + 5 + 5 = 30$

$9 \times 2 = 18$ $5 \times 6 = 30$

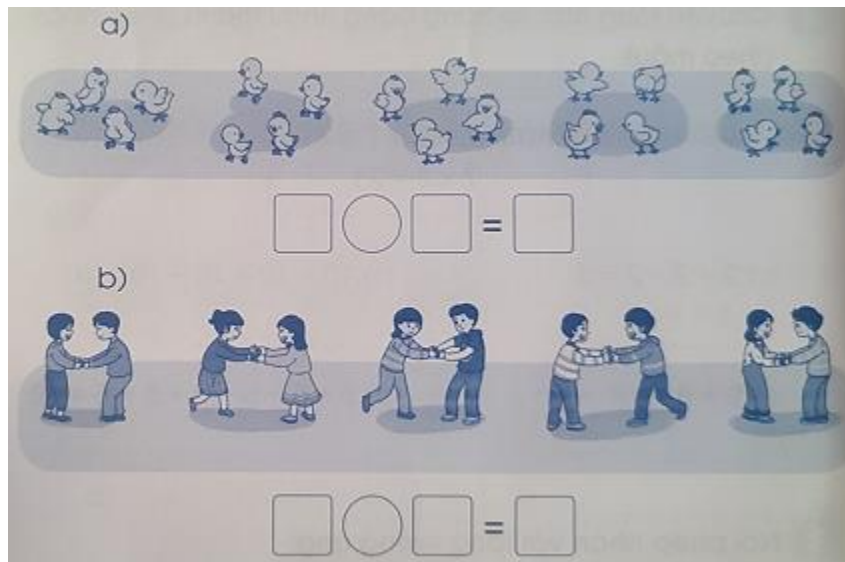
Bài 3. Nối phép nhân với tổng tương ứng:



Trả lời:



Bài 4. Viết phép nhân thích hợp với mỗi tranh vẽ:



Trả lời:

a) $4 \times 5 = 20$

b) $2 \times 5 = 10$

Bài 5. Xem tranh rồi viết một tình huống có phép nhân:



Trả lời:

- TH1: Mẹ cắm hai bình hoa, mỗi bình hoa có 5 bông => Phép nhân: $2 \times 5 = 10$
- TH2: Mẹ có 4 đĩa quýt, mỗi đĩa quýt có 5 quả => Phép nhân $4 \times 5 = 20$
- TH3: Mẹ có ba cặp bánh chưng, mỗi cặp có 2 cái => Phép nhân $3 \times 2 = 6$