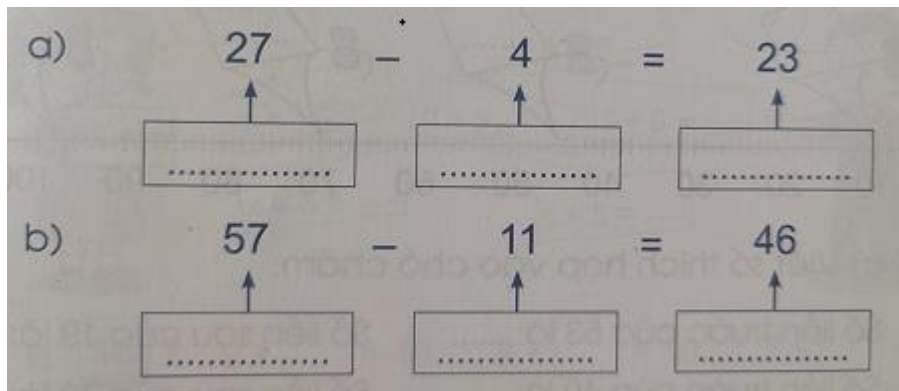


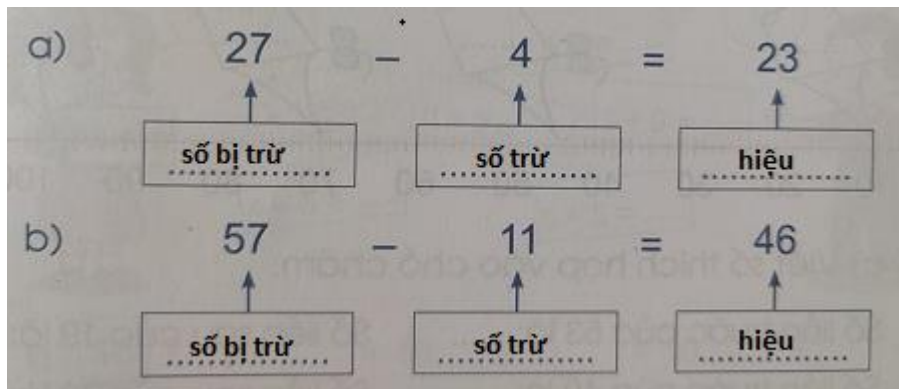
Mời các em học sinh và quý thầy cô tham khảo hướng dẫn Giải vở bài tập toán lớp 2 tập 1 cánh diều Bài 6: Số bị trừ - Số trừ - Hiệu được đội ngũ chuyên gia biên soạn đầy đủ và ngắn gọn dưới đây. Hi vọng sẽ giúp các em học sinh nắm tốt kiến thức bài học, bổ sung cho mình các kỹ năng thực hành giải bài tập một cách chính xác nhất.

Giải VBT Toán 2 Bài 6: Số bị trừ - Số trừ - Hiệu cánh diều

Bài 1. Viết từ "số bị trừ", "số trừ" hoặc "hiệu" thích hợp vào chỗ chấm:



Trả lời:



Bài 2. Tìm hiệu, biết:

a) Số bị trừ là 12, số trừ là 2:


b) Số bị trừ là 60, số trừ là 20:

Trả lời:

a) Hiệu là: $12 - 2 = 10$

b) Hiệu là: $60 - 20 = 40$

Bài 3. a) Tô màu vào những ngôi sao ghi phép tính có số trừ là 4.



b) Ghi lại những phép tính trong hình vẽ ở câu a có hiệu bằng 5:

Trả lời:

a) Tô màu vào các ngôi sao có phép tính sau:

- $10 - 4$
- $7 - 4$
- $14 - 4$
- $9 - 4$
- $5 - 4$

b) Những phép tính có hiệu bằng 5 là:

- $8 - 3$
- $9 - 4$