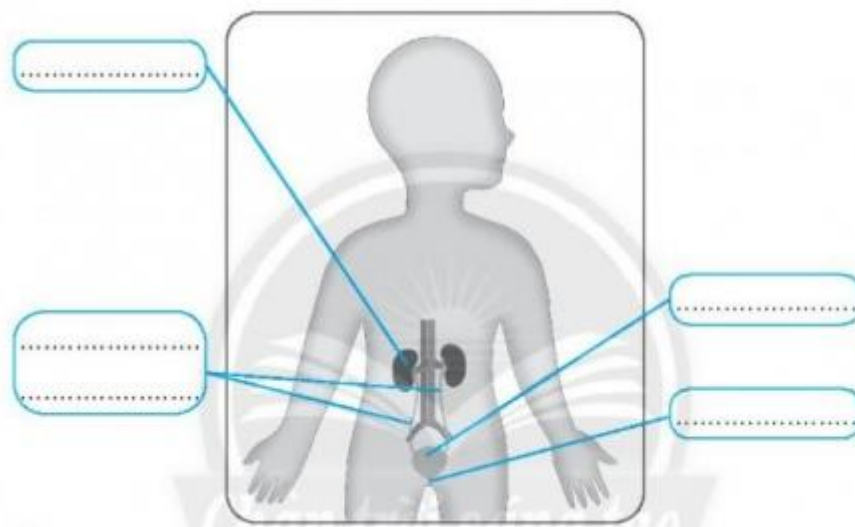


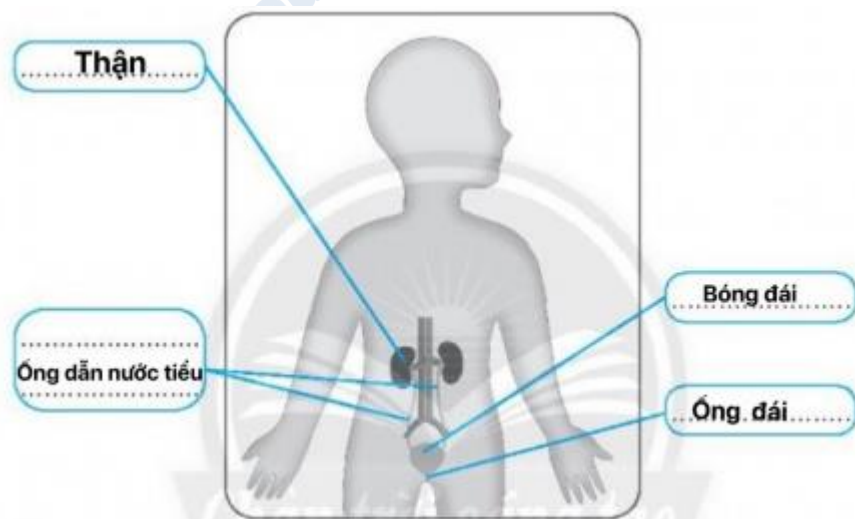
Hướng dẫn giải bài tập trang 92 đến 95 **Bài 23: Cơ quan bài tiết nước tiểu** giáo khoa môn **Tự nhiên và xã hội lớp 2** bộ sách Chân trời sáng tạo chương trình mới được trình bày ngắn gọn, dễ hiểu sẽ hỗ trợ các em học sinh học tập tốt nhất. Mời các bạn cùng tham khảo.

Câu 1 SGK TNXH lớp 2 bài 23

Viết vào chỗ (...) tên các bộ phận của cơ quan bài tiết nước tiểu.



Trả lời:



Câu 2 bài 23 SGK Tự nhiên xã hội lớp 2

Nối các ô chữ ở cột A với cột B sao cho phù hợp.

A	B
Thận	dẫn nước tiểu ra ngoài cơ thể.
Ống dẫn nước tiểu	lọc máu để tạo thành nước tiểu.
Bóng đái	đưa nước tiểu từ thận xuống bóng đái.
Ống đái	chứa nước tiểu.

Trả lời:

A	B
Thận	dẫn nước tiểu ra ngoài cơ thể.
Ống dẫn nước tiểu	lọc máu để tạo thành nước tiểu.
Bóng đái	đưa nước tiểu từ thận xuống bóng đái.
Ống đái	chứa nước tiểu.

Câu 3 SGK Tự nhiên và xã hội lớp 2 bài 23

Chọn từ thích hợp để điền vào chỗ (...)

- nước tiểu thận độc hại bài tiết nước tiểu cột sống

.....là cơ quan có hình hạt đậu ở hai bên của..... Nó giữ vai trò quan trọng trong hoạt động của cơ quan.....Nhờ có thận mà cơ thể con

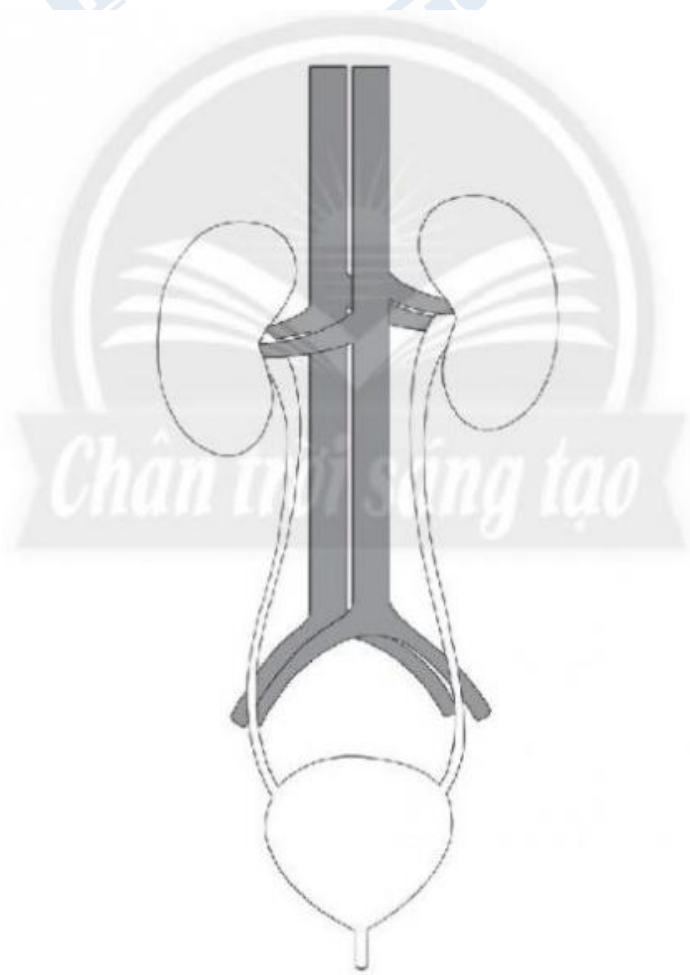
người có thể thải các chất dư thừa, ra ngoài cơ thể dưới dạng

Trả lời:

Thận là cơ quan có hình hạt đậu ở hai bên của cột sống. Nó giữ vai trò quan trọng trong hoạt động của cơ quan bài tiết nước tiểu. Nhờ có thận mà cơ thể con người có thể thải các chất dư thừa, độc hại ra ngoài cơ thể dưới dạng nước tiểu

Câu 4 bài 23 SGK TN&XH 2

Tô màu các bộ phận của cơ quan bài tiết nước tiểu có trong hình sau.



Trả lời:

- HS tự tô màu

Trên đây là nội dung giải Bài 23: Cơ quan bài tiết nước tiểu trang 92 - 95 SGK Tự nhiên xã hội lớp 2 Chân trời sáng tạo chi tiết nhất. Ngoài ra các bạn có thể tham khảo thêm hàng loạt bài học khác miễn phí đã được đăng tải tại chuyên trang của chúng tôi.