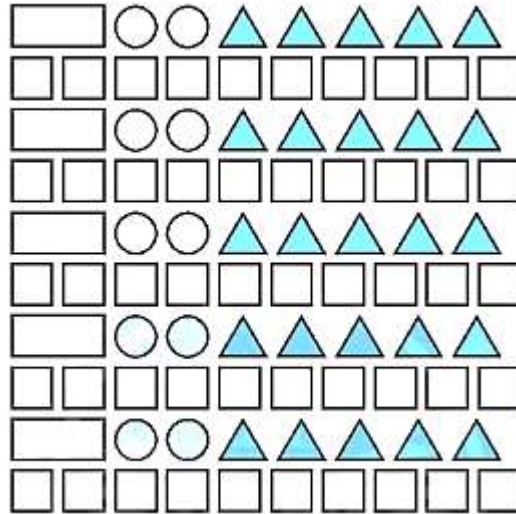


Giải vở bài tập Toán 1: Em làm được những gì? - Chân Trời Sáng Tạo

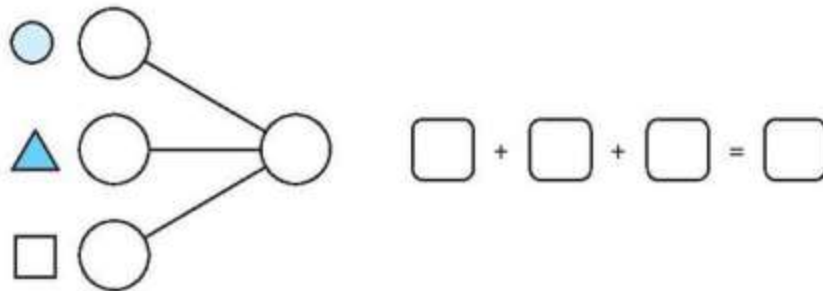
Bài 1 (trang 71 vở bài tập Toán lớp 1 Tập 2): Quan sát các hình phẳng sau



a) Đếm số hình mỗi loại:

Hình chữ nhật	Hình tròn	Hình tam giác	Hình vuông	Tất cả

b) Số?

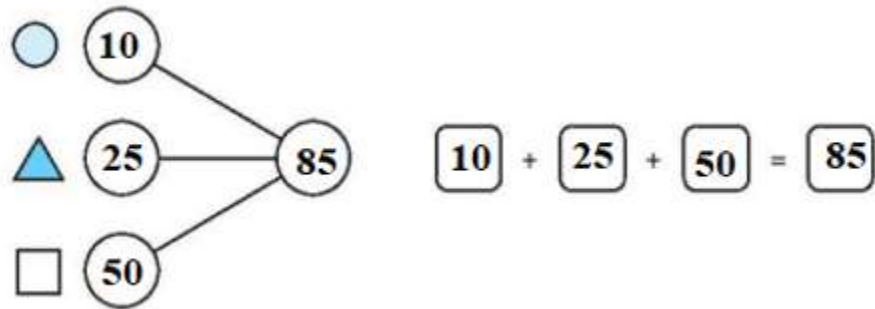


Lời giải

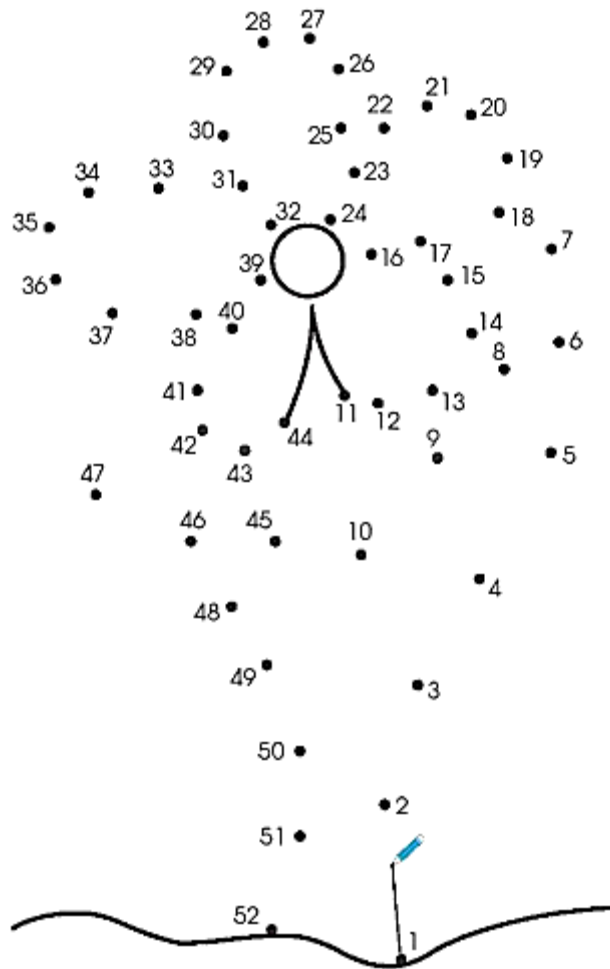
a) Đếm số hình mỗi loại:

Hình chữ nhật	Hình tròn	Hình tam giác	Hình vuông	Tất cả
5	10	25	50	90

b) Số?



Bài 2 (trang 72 vở bài tập Toán lớp 1 Tập 2): Nối lần lượt các số từ bé đến lớn rồi tô màu:

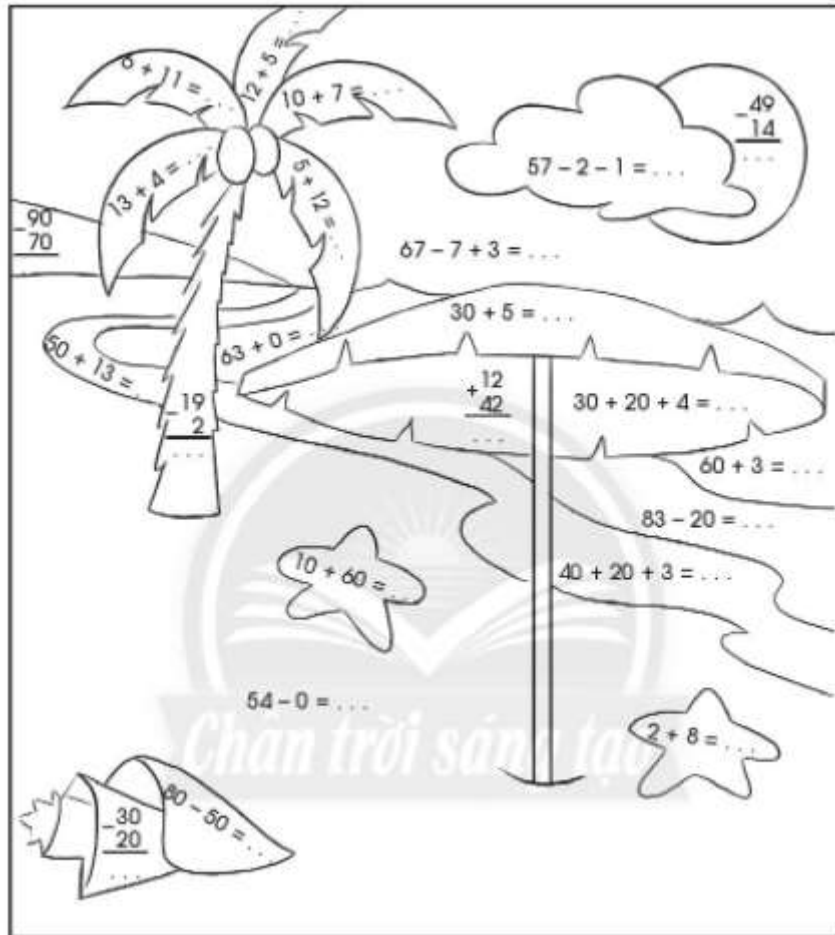


Lời giải

Học sinh nối và tô màu.

Bài 3 (trang 73 vở bài tập Toán lớp 1 Tập 2):

a) Tính:



b) Tô màu theo kết quả:

17 : xanh lá

54 : hồng

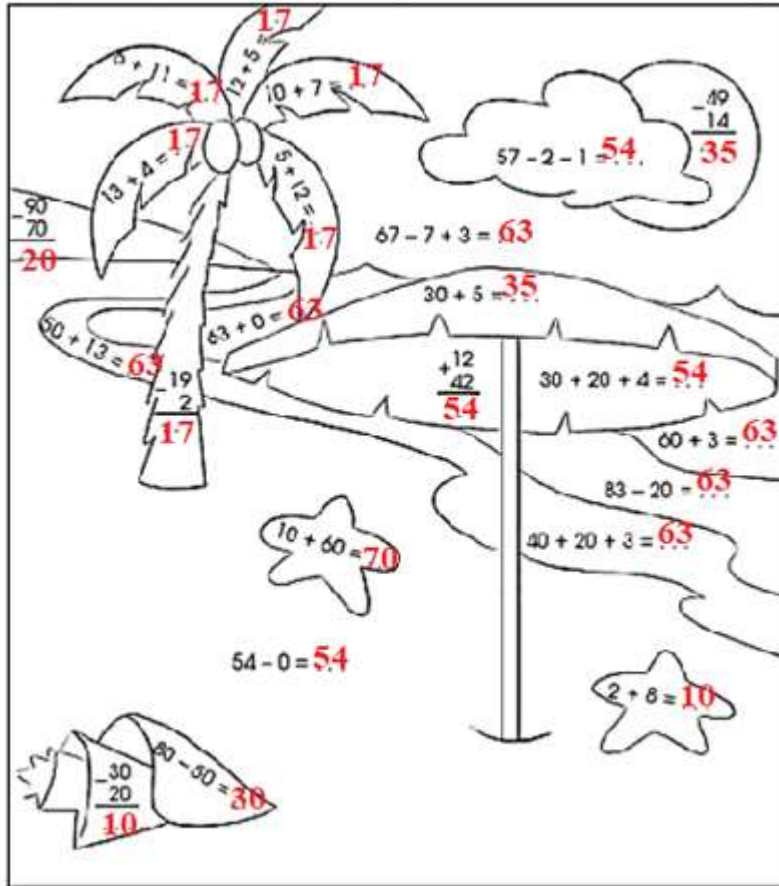
35: đỏ

63: xanh dương

Số tròn chục: vàng

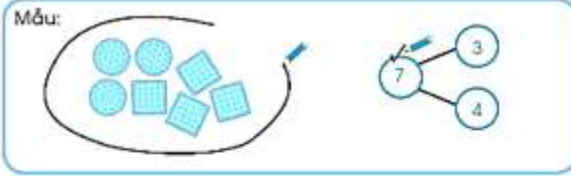
Lời giải

Thực hiện các phép tính:




Bài 4 (trang 74 vở bài tập Toán lớp 1 Tập 2): Đây là tất cả? (làm theo mẫu)


Mẫu:




a)



b)

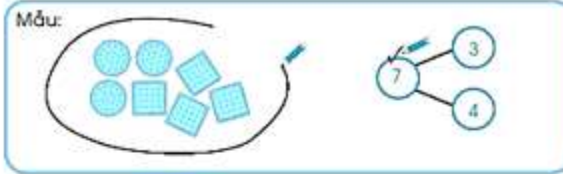


c)

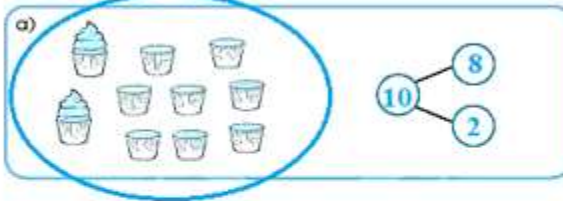


Lời giải


Mẫu:




a)



b)



c)



Bài 5 (trang 75 vở bài tập Toán lớp 1 Tập 2): Nhận ra tất cả trong bài toán:

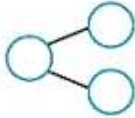
Mẫu:

Có 3 con mèo vàng và 5 con mèo mướp. Hỏi tất cả có bao nhiêu con mèo?



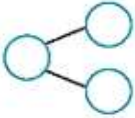
b)

Hùng có 6 lá cờ, Cường có 4 lá cờ. Hỏi cả hai bạn có bao nhiêu lá cờ?



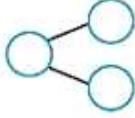
a)

An có 9 cái kẹo, An cho Hoà 4 cái kẹo. Hỏi An còn lại bao nhiêu cái kẹo?



c)

Trong hộp có 15 cái bánh và kẹo, trong đó có 3 cái bánh. Hỏi có bao nhiêu cái kẹo?



Lời giải

Mẫu:
 Có 3 con mèo vàng và 5 con mèo mướp. Hỏi (tất cả) có bao nhiêu con mèo?

b)
 Hùng có 6 lá cờ. Cường có 4 lá cờ. Hỏi cả hai bạn có bao nhiêu lá cờ?

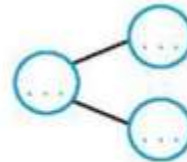
a)
 An có 9 cái kẹo. An cho Hoà 4 cái kẹo. Hỏi An còn lại bao nhiêu cái kẹo?

c)
 Trong hộp có 15 cái bánh và kẹo, trong đó có 3 cái bánh. Hỏi có bao nhiêu cái kẹo?

Bài 6 (trang 76 vở bài tập Toán lớp 1 Tập 2): Viết vào chỗ chấm ở tóm tắt và sơ đồ tách – gộp số. Giải bài toán (viết phép tính, nói câu trả lời):

a)
 Mẹ mua 12 cái bánh, ba mua thêm 6 cái bánh. Hỏi ba và mẹ mua tất cả bao nhiêu cái bánh?

Tóm tắt
 Mẹ : ... cái bánh
 Ba : ... cái bánh
 Tất cả: ... cái bánh



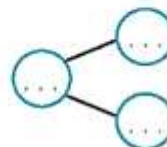
Giải

.....

Trả lời: Ba và mẹ mua tất cả cái bánh

b)
 Trong chuồng có 25 con gà, trong đó có 14 con gà trống. Hỏi có bao nhiêu con gà mái?

Tóm tắt
 Có : ... con
 Gà trống:
 Gà mái :?



Giải

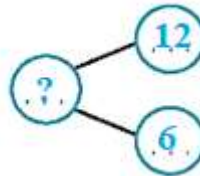
.....

Trả lời: Có con gà mái

Lời giải

a)

Mẹ: 12 cái bánh
 Ba: 6 cái bánh
 Tất cả: ? cái bánh



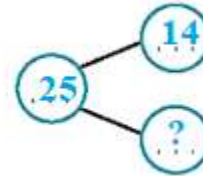
Bài giải

$$12 + 6 = 18$$

Trả lời: Ba và mẹ mua tất cả 18 cái bánh

b)

Có: 25 con gà
 Gà trống : 14 con
 Gà mái: ? con

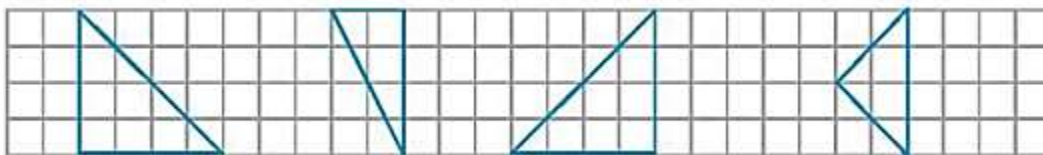


Bài giải

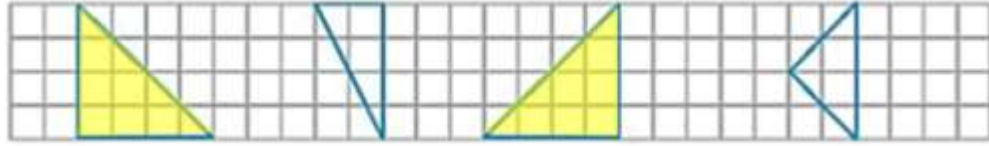
$$25 - 14 = 11$$

Trả lời: Có 11 con gà mái

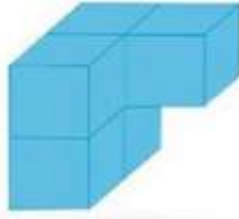
Bài 7 (trang 77 vở bài tập Toán lớp 1 Tập 2): Tô màu hai hình ghép lại được hình vuông:




Lời giải



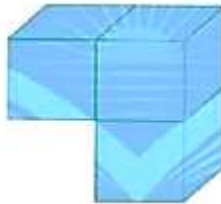
Bài 8 (trang 77 vở bài tập Toán lớp 1 Tập 2): Khoanh vào chữ cái trước ý trả lời đúng:



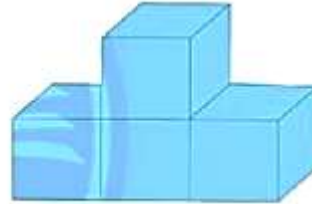
Khối hình nào dưới đây ghép với hình trên để được khối lập phương?



A.



B.



C.

Lời giải

Khoanh vào B.

Bài 9 (trang 77 vở bài tập Toán lớp 1 Tập 2): Con vật nào tìm thấy hoa?



A. Ong

B. Chim ruồi

C. Bướm


Lời giải

Khoanh vào B.

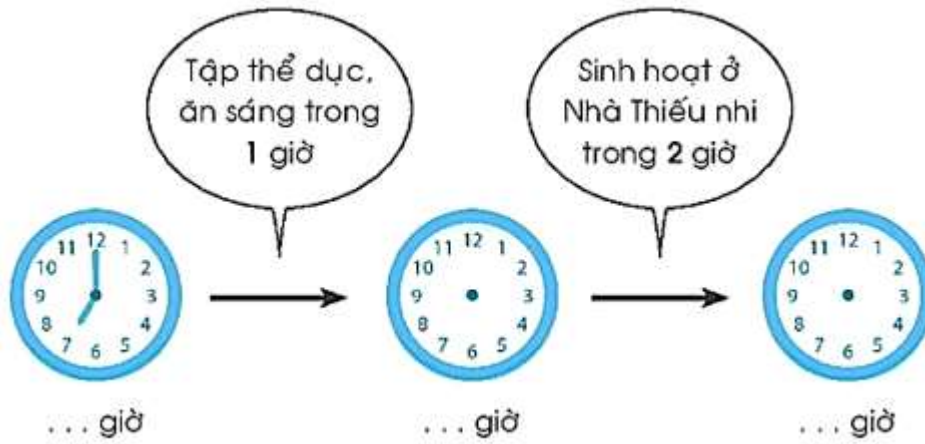
Bài 10 (trang 78 vở bài tập Toán lớp 1 Tập 2): Đo bằng thước thẳng rồi so sánh số đo:

Đồ dùng	của em	của bạn	
Đồ chuốt bút chì dài	3 cm	2 cm	3 cm <input type="text" value=">"/> 2 cm
Bút chì dài cm <input type="text"/> ... cm
Cục gôm (tẩy) dài cm <input type="text"/> ... cm
Chiều dài Vở Bài tập Toán 1 cm <input type="text"/> ... cm

Lời giải

Đồ dùng	của em	của bạn	
Đồ chuốt bút chì dài	3 cm	2 cm	3 cm <input type="text" value=">"/> 2 cm
Bút chì dài	3cm	3cm	3 cm <input type="text" value="="/> 3 cm
Cục gôm (tẩy) dài	3 cm	2 cm	3 cm <input type="text" value=">"/> 2 cm
Chiều dài Vở Bài tập Toán 1	19 cm	19 cm	19 cm <input type="text" value="="/> 19 cm

Bài 11 (trang 78 vở bài tập Toán lớp 1 Tập 2): Sáng chủ nhật của An. Viết số vào chỗ chấm. Vẽ kim phút và kim giờ phù hợp:



Lời giải

