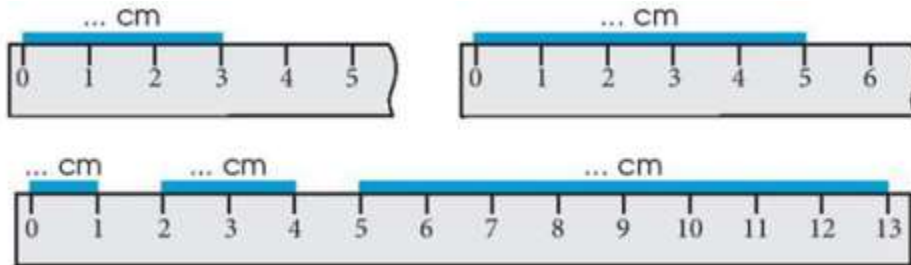
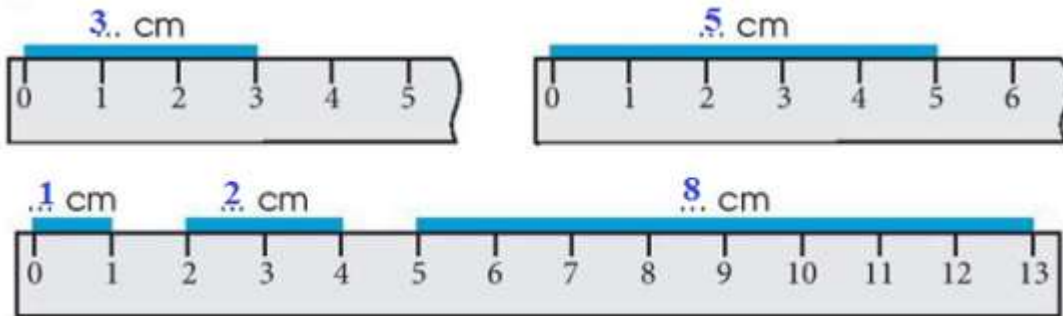


Giải vở bài tập Toán 1: Xăng - ti - mét. Đơn vị đo độ dài - Chân Trời Sáng Tạo


Bài 1 (trang 68 vở bài tập Toán lớp 1 Tập 2): Viết số đo



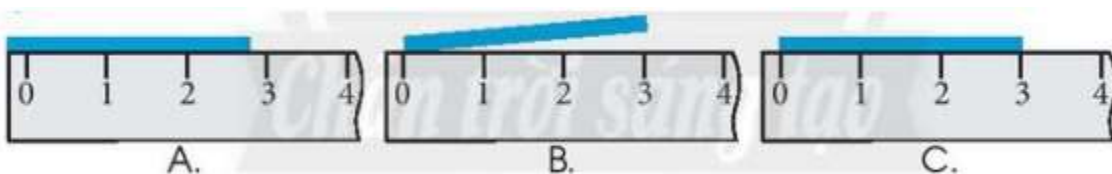
Lời giải



Bài 2 (trang 68 vở bài tập Toán lớp 1 Tập 2): Tập viết:



Bài 3 (trang 68 vở bài tập Toán lớp 1 Tập 2): Khoanh vào chữ cái dưới hình đặt thước đo đúng:



Lời giải

Khoanh vào C

Bài 4 (trang 68 vở bài tập Toán lớp 1 Tập 2): Đo bằng búng ngón trỏ rồi đo bằng thước thẳng

a) Khoảng búng ngón trỏ cm.



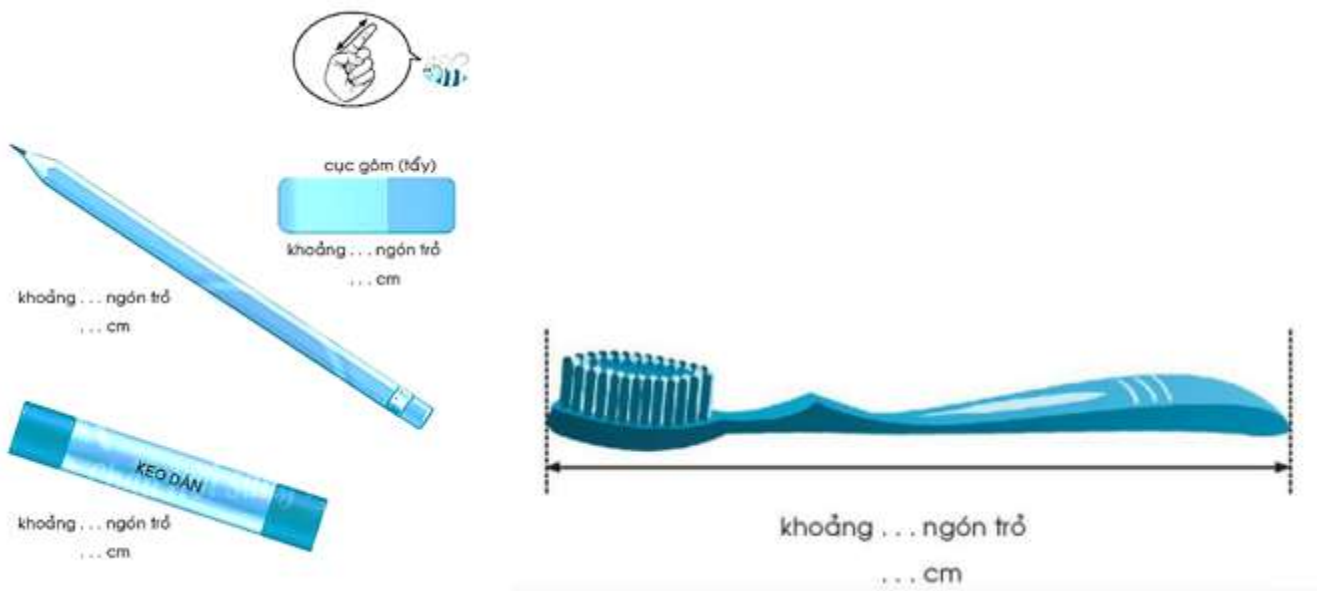
b) Khoảng búng ngón trỏ cm.



Lời giải

Học sinh tự thực hiện.

Bài 5 (trang 69 vở bài tập Toán lớp 1 Tập 2): Ước lượng theo ngón trỏ rồi đo:



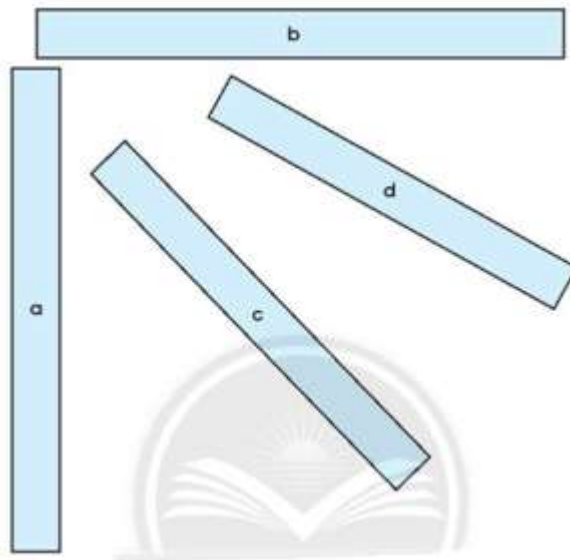
Lời giải

HD: Em tự ước lượng độ dài theo ngón trỏ của mình.

Bài 6 (trang 70 vở bài tập Toán lớp 1 Tập 2):

Ước lượng bằng mắt rồi dùng thước đo.


Các mảnh giấy theo thứ tự từ dài nhất đến ngắn nhất là:



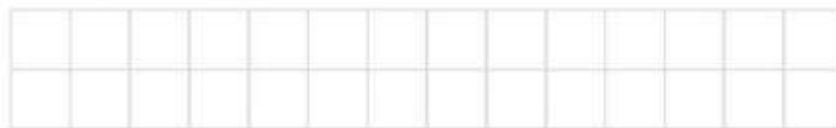
Lời giải

Các mảnh giấy theo thứ tự từ dài nhất đến ngắn nhất là: d, c, b, a

Bài 7 (trang 70 vở bài tập Toán lớp 1 Tập 2): Mẹ cắt băng giấy thành hai mảnh như sau:



Em hãy vẽ băng giấy lúc chưa cắt.



Lời giải

Các em tự vẽ: