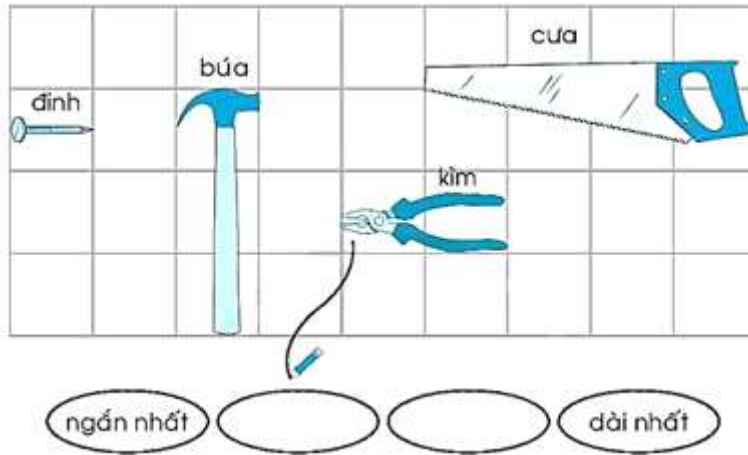


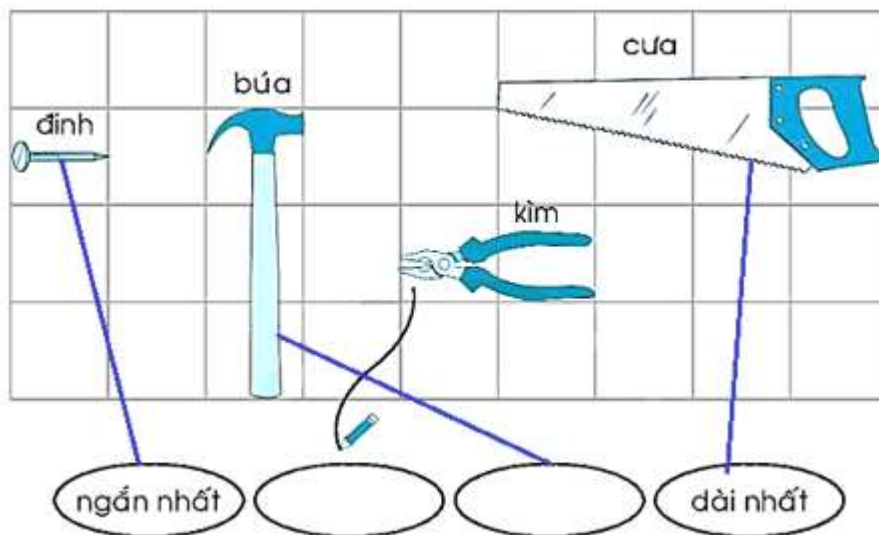
**Giải vở bài tập Toán 1: Đo độ dài - Chân Trời Sáng Tạo**

**Bài 1 (trang 66 vở bài tập Toán lớp 1 Tập 2):** Nói theo mẫu để sắp thứ tự từ ngắn đến dài

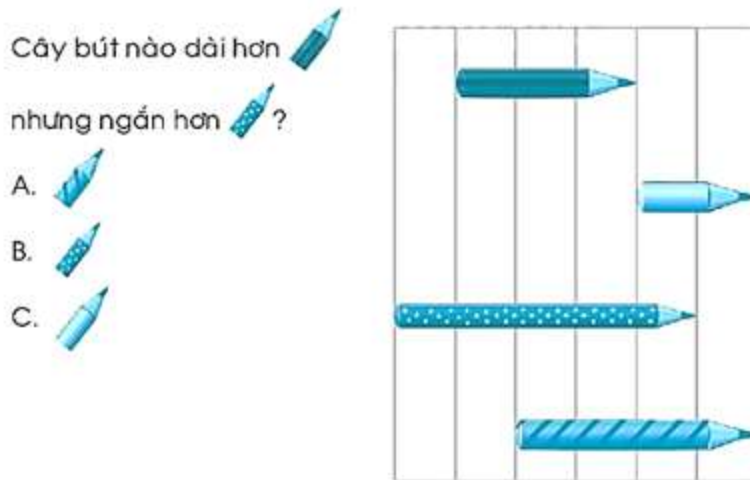


**Lời giải**

Sắp thứ tự từ ngắn đến dài:




**Bài 2 (trang 66 vở bài tập Toán lớp 1 Tập 2):** Khoanh vào chữ cái trước ý trả lời đúng?



**Lời giải**

Khoanh vào A

**Bài 3 (trang 67 vở bài tập Toán lớp 1 Tập 2):** Ước lượng, đo, viết số đo bàn học của em:



|            | Ước lượng                   | Đo                |
|------------|-----------------------------|-------------------|
| Chiều dài  | khoảng<br>.....<br>gang tay | .....<br>gang tay |
| Chiều rộng | khoảng<br>.....<br>gang tay | .....<br>gang tay |
| Chiều cao  | khoảng<br>.....<br>gang tay | .....<br>gang tay |

**Lời giải**

|            | Ước lượng                     | Đo                  |
|------------|-------------------------------|---------------------|
| Chiều dài  | khoảng<br>..9...<br>gang tay  | ..10...<br>gang tay |
| Chiều rộng | khoảng<br>..4...<br>gang tay  | ..5...<br>gang tay  |
| Chiều cao  | khoảng<br>..11...<br>gang tay | ..11...<br>gang tay |

**Bài 4 (trang 67 vở bài tập Toán lớp 1 Tập 2):**



Hành lang ngoài lớp học dài khoảng ..... bước chân.

**Lời giải**

Em ước lượng hành lang lớp học của mình rồi tự điền vào chỗ trống.

**Bài 5 (trang 67 vở bài tập Toán lớp 1 Tập 2):**



1 vòng sân trường dài khoảng ..... bước chân

**Lời giải**

1 vòng sân trường dài khoảng 250 bước chân.