

Giải vở bài tập Toán 1: Kiểm tra giữa học kì 2 - Chân Trời Sáng Tạo

A. TRẮC NGHIỆM

Khoanh vào chữ cái trước ý trả lời đúng

Câu 1 (trang 62 vở bài tập Toán lớp 1 Tập 2):

Sáng chủ nhật, mỗi bạn làm một việc. Người làm lâu nhất là A. Bạn ở hình a B. Bạn ở hình b C. Bạn ở hình c	a)	
	b)	
	c)	

Lời giải

Bạn ở hình a) làm việc từ 8 giờ đến 10 giờ hết 2 giờ.

Bạn ở hình b) làm việc từ 9 giờ đến 10 giờ hết 1 giờ.

Bạn ở hình c) làm việc từ 7 giờ đến 10 giờ hết 3 giờ.

Vì $1 \text{ giờ} < 2 \text{ giờ} < 3 \text{ giờ}$ nên bạn ở hình c làm việc lâu nhất.

Chọn C.

Câu 2 (trang 62 vở bài tập Toán lớp 1 Tập 2): Hình vẽ sau có bao nhiêu cái lon:

A. 10.

B. 11.

C. 21.



Lời giải

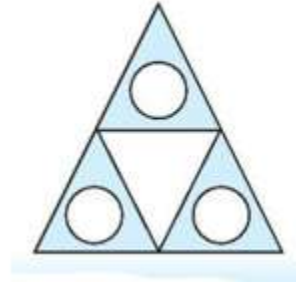
Hình vẽ có 21 cái lon.

Chọn C.

Câu 3 (trang 62 vở bài tập Toán lớp 1 Tập 2):

Hình vẽ bên có:

- A. 3 hình tròn và 1 hình tam giác.
- B. 3 hình tròn và 4 hình tam giác.
- C. 3 hình tròn và 5 hình tam giác.

**Lời giải**

Hình vẽ bên có 3 hình tròn và 5 hình tam giác.

Chọn C.

B. TỰ LUẬN**I. Đúng ghi Đ, sai ghi S:**

Câu 1 (trang 63 vở bài tập Toán lớp 1 Tập 2): 95 đọc là:

- Chín mươi năm - Chín mươi lăm

Sáu mươi bảy viết là:

- 67 607

Lời giải

- Chín mươi năm S - Chín mươi lăm Đ

Sáu mươi bảy viết là:

- 67 Đ 607 S

Câu 2 (trang 63 vở bài tập Toán lớp 1 Tập 2):

$$\begin{array}{r} 86 \\ - 35 \\ \hline 51 \end{array} \quad \square$$

$$\begin{array}{r} 47 \\ - 21 \\ \hline 68 \end{array} \quad \square$$

$$\begin{array}{r} 52 \\ + 4 \\ \hline 92 \end{array} \quad \square$$

$$\begin{array}{r} 3 \\ + 66 \\ \hline 69 \end{array} \quad \square$$

Lời giải

$$\begin{array}{r} 86 \\ - 35 \\ \hline 51 \end{array} \quad \boxed{\text{Đ}}$$

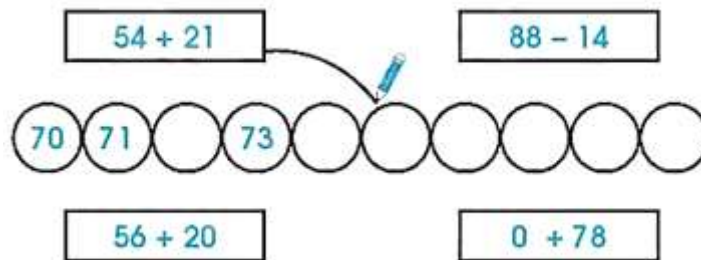
$$\begin{array}{r} 47 \\ - 21 \\ \hline 68 \end{array} \quad \boxed{\text{S}}$$

$$\begin{array}{r} 52 \\ + 4 \\ \hline 92 \end{array} \quad \boxed{\text{S}}$$

$$\begin{array}{r} 3 \\ + 66 \\ \hline 69 \end{array} \quad \boxed{\text{Đ}}$$

II. Làm theo các yêu cầu sau:

Câu 3 (trang 63 vở bài tập Toán lớp 1 Tập 2): Nói (theo mẫu):



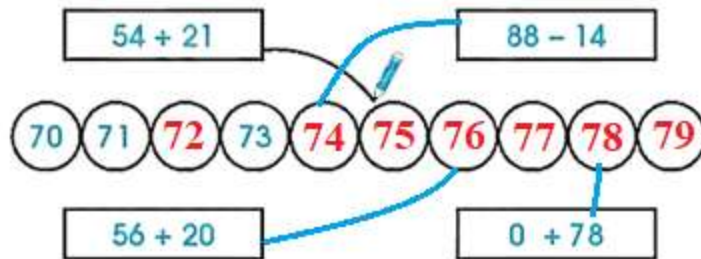
Lời giải

$$54 + 21 = 65$$

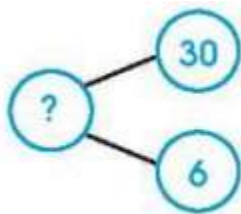
$$88 - 14 = 74$$

$$56 + 20 = 76$$

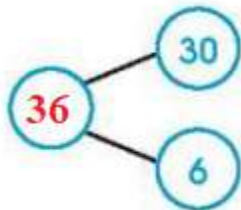
$$0 + 78 = 78$$



Câu 4 (trang 63 vở bài tập Toán lớp 1 Tập 20): Viết phép tính phù hợp với sơ đồ tách – gộp số:



Lời giải



$$30 + 6 = 36$$

$$6 + 30 = 36$$

$$30 = 36 - 6$$

$$6 = 36 - 30$$

Câu 5 (trang 63 vở bài tập Toán lớp 1 Tập 2): Đặt tính rồi tính:

$94 - 32$	$5 + 52$

Lời giải

$$\begin{array}{r} 94 \\ - 32 \\ \hline 62 \end{array}$$

$$\begin{array}{r} 5 \\ + 52 \\ \hline 57 \end{array}$$