

Nội dung bài viết

1. [Giải Luyện tập trang 100, 101 - Ôn tập hình học và đo lường trang 100 Toán lớp 1 Kết nối tri thức](#)
2. [Giải Luyện tập trang 102, 103 - Ôn tập hình học và đo lường trang 100 Toán lớp 1 Kết nối tri thức](#)

Giải Luyện tập trang 100, 101 - Ôn tập hình học và đo lường trang 100 Toán lớp 1 Kết nối tri thức

Bài 1 trang 100 SGK Toán lớp 1 tập 2 :

a) Những hình nào dưới đây là khối lập phương?



A.



B.



C.



D.

b) Những hình nào dưới đây là khối hộp chữ nhật?



A.



B.



C.



D.

Hướng dẫn giải

a)



A.

B.

C.

D.

b)





A.


B.

C.

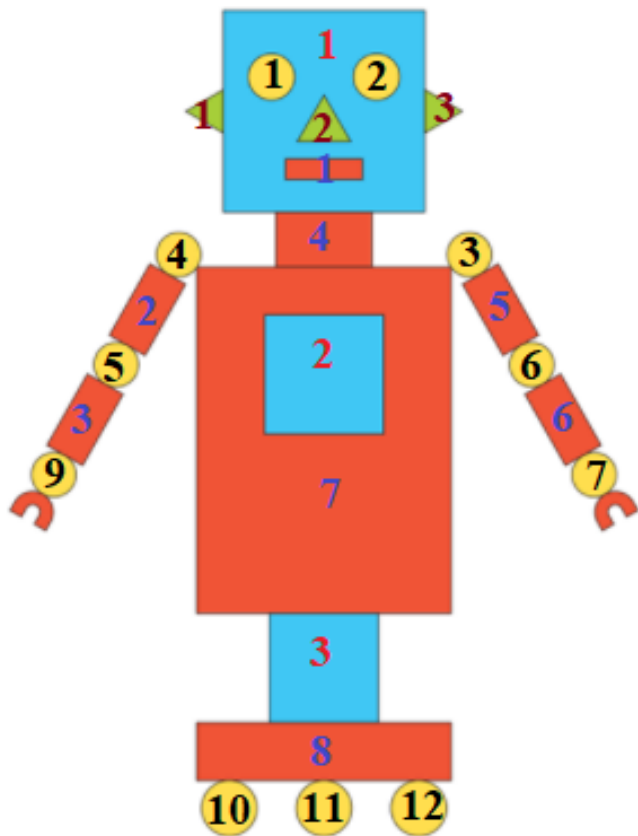
D.





Bài 2 trang 100 SGK Toán lớp 1 tập 2 : Xem hình sau rồi tìm số thích hợp.

Hình	Số hình
	?
	?
	?
	?

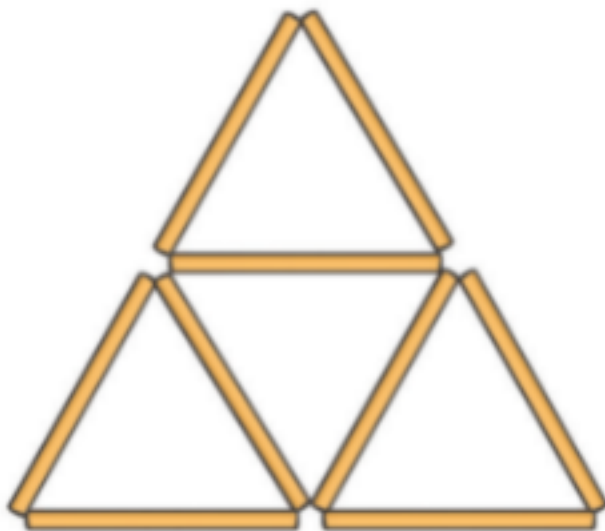


Hướng dẫn giải



Hình	Số hình
	3
	8
	12
	3

Bài 3 trang 101 SGK Toán lớp 1 tập 2 :



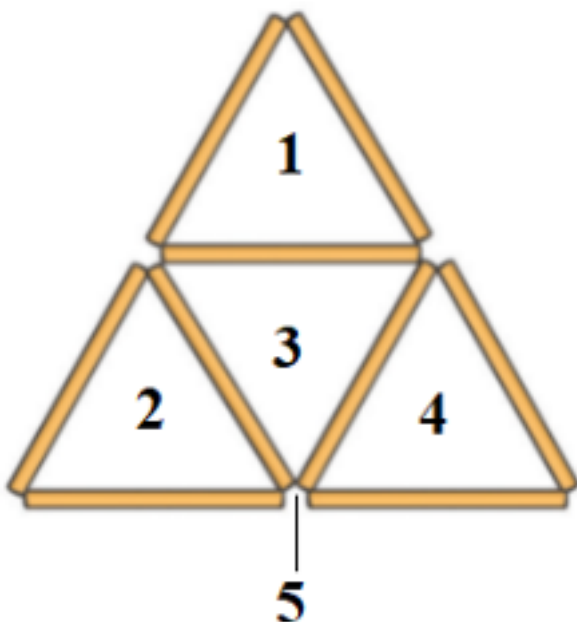
- Lấy 9 que tính xếp thành hình bên.
- Hình bên có mấy hình tam giác?

c) Nhắc ra 2 que tính để hình còn lại có 2 hình tam giác.

Hướng dẫn giải

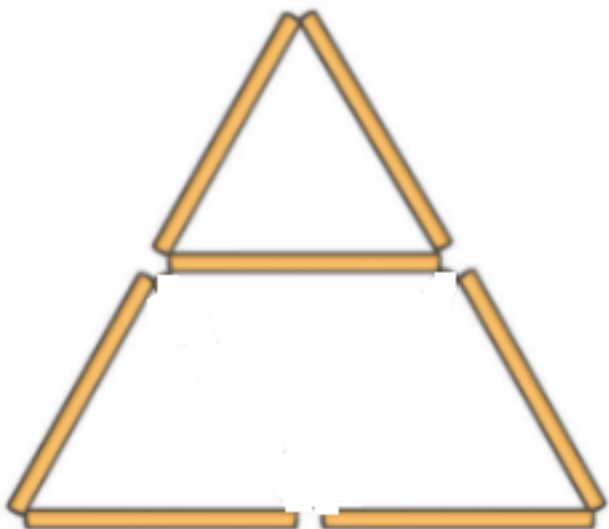
a) Học sinh tự thực hiện.

b)



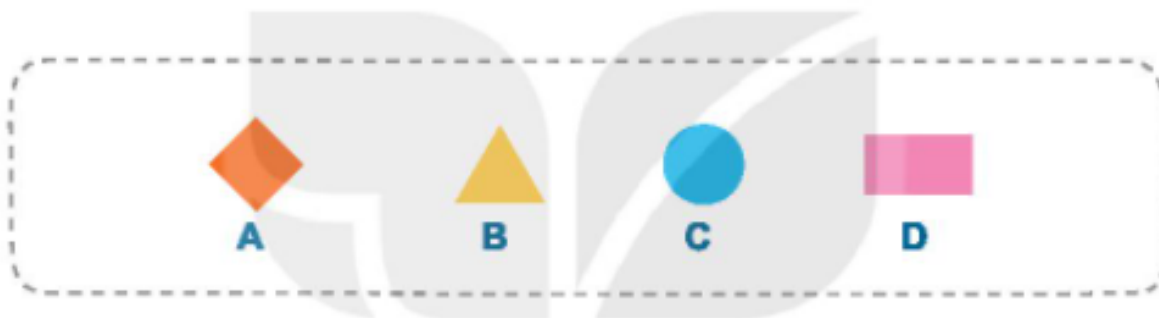
Có tất cả 5 hình tam giác.

c) Nhắc ra 2 que tính để hình còn lại có 2 hình tam giác (như hình vẽ)

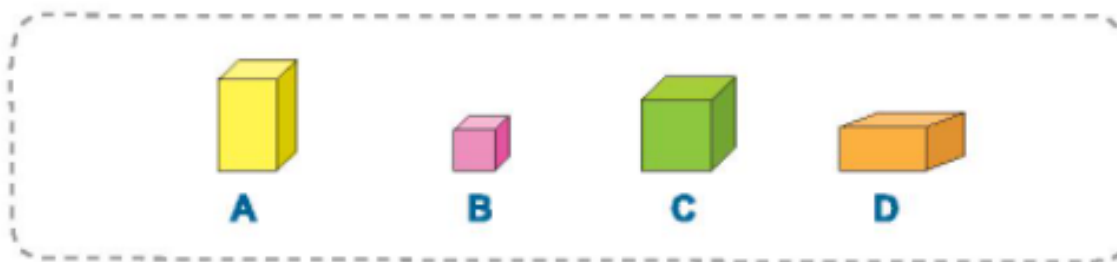


Bài 4 trang 101 SGK Toán lớp 1 tập 2 : Tìm hình thích hợp đặt vào dấu “?”.

a)



b)



Hướng dẫn giải

a) Quy luật: Hình thoi; Tam giác; Hình tròn; Hình chữ nhật

Hình đi điền vào dấu “?” là Hình chữ nhật.

Chọn D.

b) Quy luật: Hình hộp chữ nhật màu vàng; Hình lập phương màu tím; Hình lập phương màu xanh; Hình hộp chữ nhật màu cam.

Hình đi điền vào dấu “?” là: Hình lập phương màu xanh

Chọn C.

Giải Luyện tập trang 102, 103 - Ôn tập hình học và đo lường trang 100 Toán lớp 1 Kết nối tri thức

Bài 1 trang 102 SGK Toán lớp 1 tập 2 : Chọn đồng hồ thích hợp vào mỗi bức tranh.



Viết tập thể dục lúc 6 giờ sáng.



Viết đi học lúc 7 giờ sáng.



Viết ăn trưa lúc 12 giờ.



Viết tập bơi lúc 5 giờ chiều.



Viết chơi đàn lúc 8 giờ tối.



Viết đi ngủ lúc 9 giờ tối.

Hướng dẫn giải



Bài 2 trang 102 SGK Toán lớp 1 tập 2 : Chọn câu trả lời đúng.

a) Trong một tuần, nếu ngày 20 là thứ Hai thì ngày 22 là thứ mấy?

A. Thứ Tư B. Thứ Năm C. Thứ Sáu

b) Nếu hôm qua là thứ Ba thì ngày mai là thứ mấy?

A. Thứ Tư B. Thứ Năm C. Thứ Sáu

Hướng dẫn giải

a)

Ngày 20 là thứ Hai.

Ngày 21 là thứ Ba.

Ngày 22 là thứ Tư.

Chọn A.

b)


Hôm qua là thứ Ba.

Hôm nay là thứ Tư.

Ngày mai là thứ Năm.

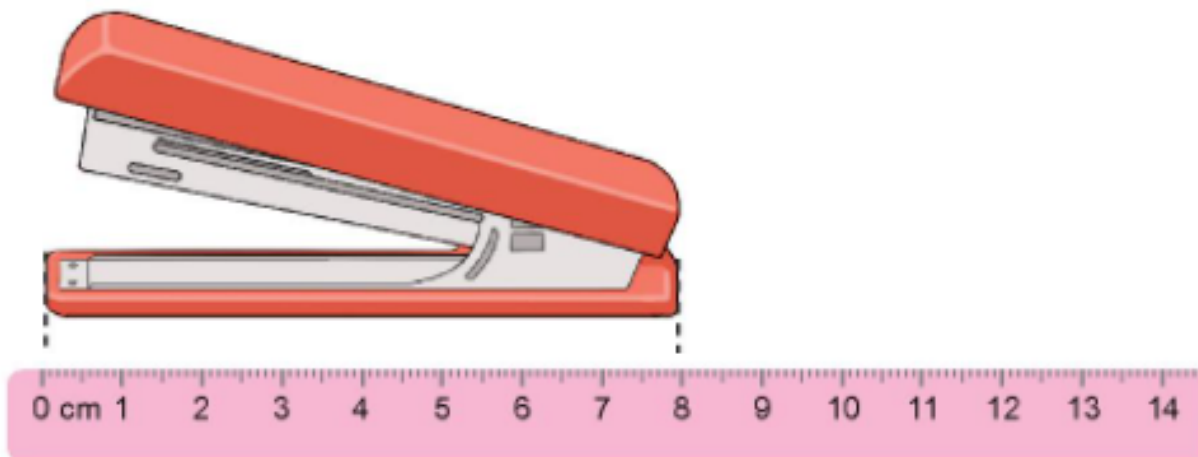
Chọn B.

Bài 3 trang 103 SGK Toán lớp 1 tập 2 : Đo độ dài mỗi đồ vật sau với đơn vị là xăng-ti-mét.



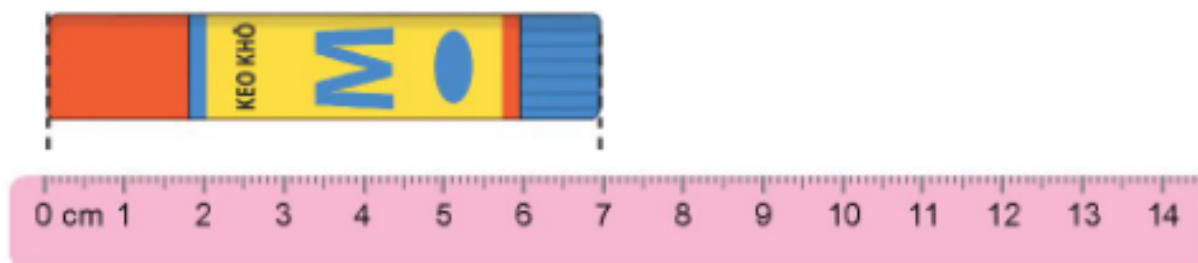
Hướng dẫn giải

a)



Cái dập ghim dài 8cm.

b)



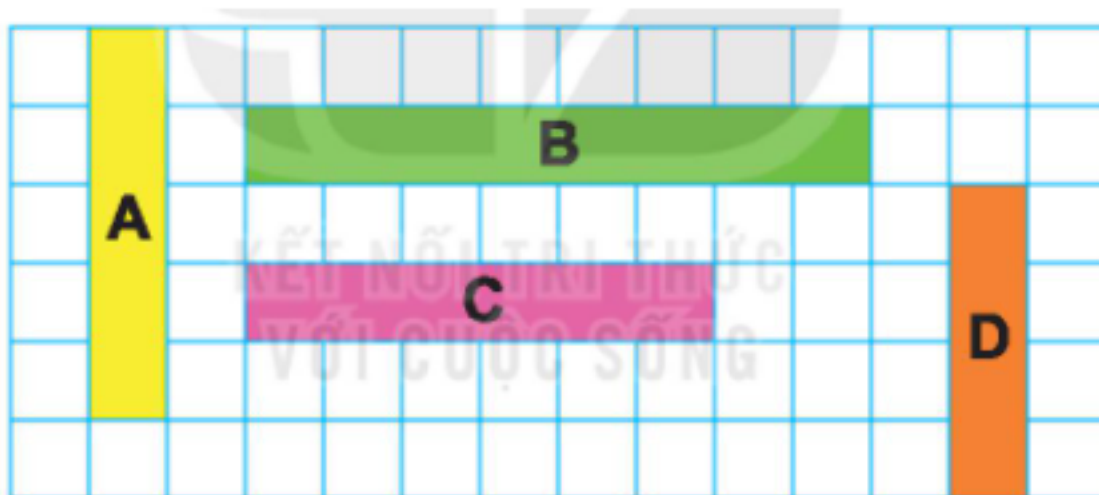
Lọ keo khô dài 7cm.

c)



Bàn chải đánh răng dài 13cm.

Bài 4 trang 103 SGK Toán lớp 1 tập 2 : Trong hình dưới đây, băng giấy nào dài nhất, băng giấy nào ngắn nhất?



Hướng dẫn giải

Băng giấy A dài 5 ô vuông.

Băng giấy B dài 8 ô vuông.

Băng giấy C dài 6 ô vuông.

Băng giấy D dài 4 ô vuông.

Vì $4 < 5 < 6 < 8$ nên băng giấy B dài nhất, băng giấy D ngắn nhất.

Bài 5 trang 103 SGK Toán lớp 1 tập 2 : Chọn câu trả lời đúng.

a) Gang tay của em dài khoảng:

- A. 10cm B. 1cm C. 5cm

b) Bàn học của em dài khoảng:

- A. 6cm B. 6 gang tay C. 20cm

c) Bảng lớp học dài khoảng:

- A. 3 sải tay B. 3 gang tay C. 30cm

Hướng dẫn giải

a) Gang tay của em dài khoảng 5cm.

Chọn C.

b) Bàn học của em dài khoảng 6 gang tay.

Chọn B.

c) Bảng lớp học dài khoảng 3 sải tay.

Chọn A.