

Nội dung bài viết

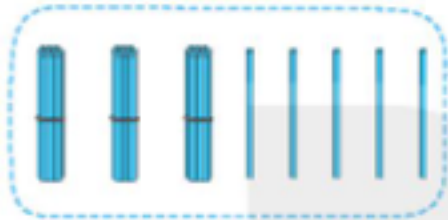
1. [Giải Luyện tập trang 94, 95 - Ôn tập các số và phép tính trong phạm vi 100 Toán lớp 1 Kết nối tri thức](#)
2. [Giải Luyện tập trang 96, 97 - Ôn tập các số và phép tính trong phạm vi 100 Toán lớp 1 Kết nối tri thức](#)
3. [Giải Luyện tập trang 98, 99 - Ôn tập các số và phép tính trong phạm vi 100 Toán lớp 1 Kết nối tri thức](#)

Giải Luyện tập trang 94, 95 - Ôn tập các số và phép tính trong phạm vi 100 Toán lớp 1 Kết nối tri thức

Bài 1 trang 94 SGK Toán lớp 1 tập 2 :

	Chục	Đơn vị	Viết số	Đọc số
	3	5	35	ba mươi lăm
	Chục	Đơn vị	Viết số	Đọc số
	4	4	?	bốn mươi tư
	Chục	Đơn vị	Viết số	Đọc số
	?	?	61	sáu mươi mốt
	Chục	Đơn vị	Viết số	Đọc số
	8	0	?	tám mươi
	Chục	Đơn vị	Viết số	Đọc số
	?	?	53	năm mươi ba

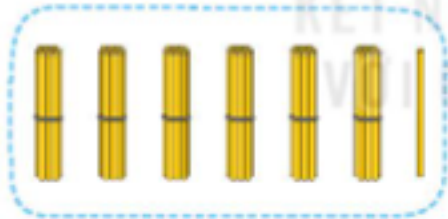
Hướng dẫn giải



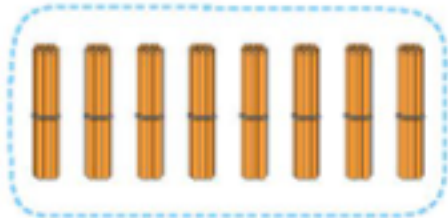
Chục	Đơn vị	Viết số	Đọc số
3	5	35	ba mươi lăm



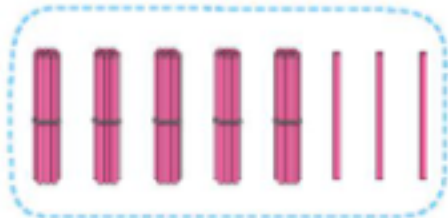
Chục	Đơn vị	Viết số	Đọc số
4	4	44	bốn mươi tư



Chục	Đơn vị	Viết số	Đọc số
6	1	61	sáu mươi mốt



Chục	Đơn vị	Viết số	Đọc số
8	0	80	tám mươi



Chục	Đơn vị	Viết số	Đọc số
5	3	53	năm mươi ba

Bài 2 trang 95 SGK Toán lớp 1 tập 2 :

a)



b)

$$47 = 40 + 7$$

$$53 = 50 + ?$$

$$69 = ? + 9$$

$$96 = ? + ?$$

Hướng dẫn giải

a)



b)

$$47 = 40 + 7$$

$$53 = 50 + 3$$

$$69 = 60 + 9$$

$$96 = 90 + 6$$

Bài 3 trang 95 SGK Toán lớp 1 tập 2 : Độ dài một bước chân của Mai, Việt, Nam lần lượt là 32 cm, 30 cm, 34 cm.

a) Ai có bước chân dài nhất?

b) Ai có bước chân ngắn nhất?

Hướng dẫn giải

Độ dài một bước chân của Mai là 32cm.

Độ dài một bước chân của Việt là 30cm.

Độ dài một bước chân của Nam là 34cm.

So sánh: $30\text{cm} < 32\text{cm} < 34\text{cm}$

a) Nam có bước chân dài nhất.

b) Việt có bước chân ngắn nhất.

Bài 4 trang 95 SGK Toán lớp 1 tập 2 : Bạn Việt ghép hai trong ba tấm thẻ như hình vẽ để được các số có hai chữ số. Việt có thể ghép được những số nào?



Hướng dẫn giải

Từ các tấm thẻ 3, 0, 7 ta có thể ghép được các số có hai chữ số là: 30; 37; 70; 73

Giải Luyện tập trang 96, 97 - Ôn tập các số và phép tính trong phạm vi 100 Toán lớp 1 Kết nối tri thức

Bài 1 trang 96 SGK Toán lớp 1 tập 2 :

a) Tính nhẩm:

$80 + 10$

$90 - 10$

$30 + 40$

$70 - 40$

$60 + 20$

$80 - 20$

b) Đặt tính rồi tính:

$32 + 15$

$71 + 24$

$40 + 39$

$76 - 42$

$36 - 21$

$47 - 22$

Hướng dẫn giải

a)

$80 + 10 = 90$

$90 - 10 = 80$

$30 + 40 = 70$

$70 - 40 = 30$

$60 + 20 = 80$

$80 - 20 = 60$

b) Đặt tính rồi tính:

$$\begin{array}{r} 32 \\ + 15 \\ \hline 47 \end{array}$$

$$\begin{array}{r} 71 \\ + 24 \\ \hline 95 \end{array}$$


$$\begin{array}{r} 40 \\ + 39 \\ \hline 79 \end{array}$$

$$\begin{array}{r} 76 \\ - 42 \\ \hline 34 \end{array}$$





$$\begin{array}{r} 36 \\ - 21 \\ \hline 15 \end{array}$$

$$\begin{array}{r} 47 \\ - 22 \\ \hline 25 \end{array}$$

Bài 2 trang 96 SGK Toán lớp 1 tập 2 : Hai phép tính nào có cùng kết quả?



KẾT NỐI TRI THỨC
VỚI CUỘC SỐNG.



Hướng dẫn giải

Thực hiện phép tính:

$$35 + 12 = 47$$

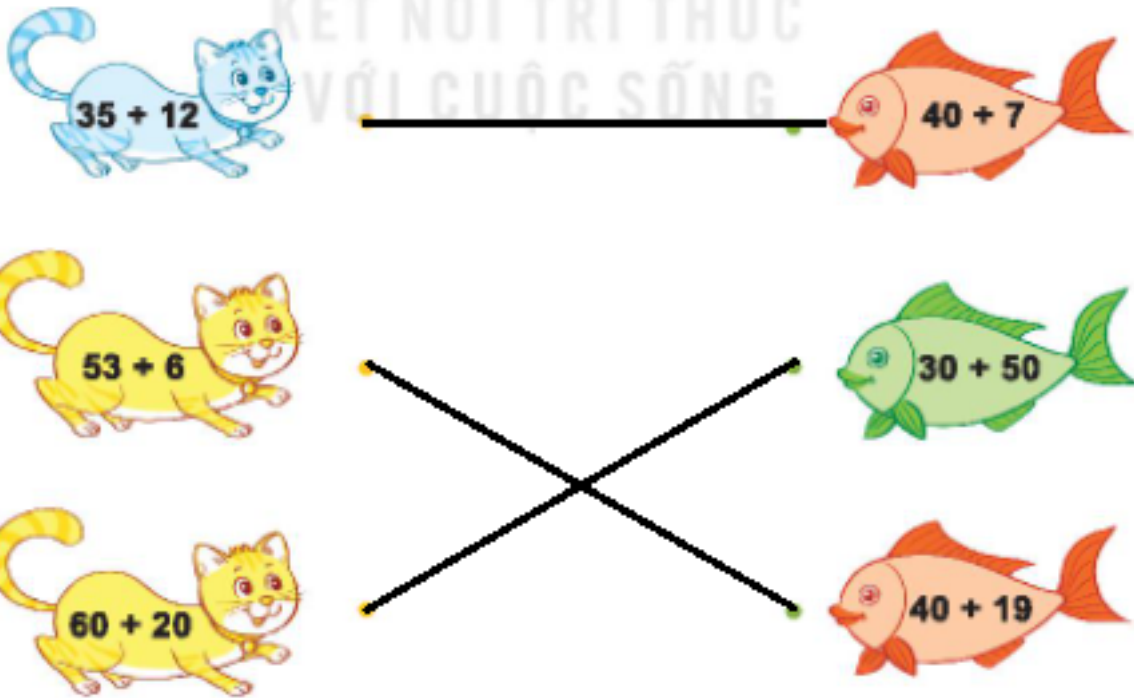
$$53 + 6 = 59$$

$$60 + 20 = 80$$

$$40 + 7 = 47$$

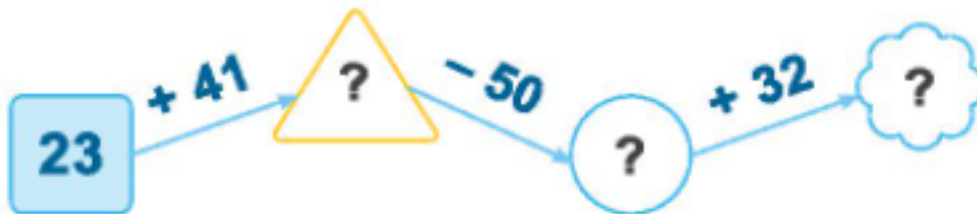
$$30 + 50 = 80$$

$$40 + 19 = 59$$



Bài 3 trang 96 SGK Toán lớp 1 tập 2 : Số?

a)



b)



Hướng dẫn giải

a)



b)



Bài 4 trang 96 SGK Toán lớp 1 tập 2 : Số?



Phép tính	40 - 10	66 - 16	38 - 8	53 - 3
Kết quả	30	?	?	?

Hướng dẫn giải

Phép tính	40 – 10	66 – 16	38 – 8	53 – 3
Kết quả	30	50	30	50

Giải Luyện tập trang 98, 99 - Ôn tập các số và phép tính trong phạm vi 100 Toán lớp 1 Kết nối tri thức

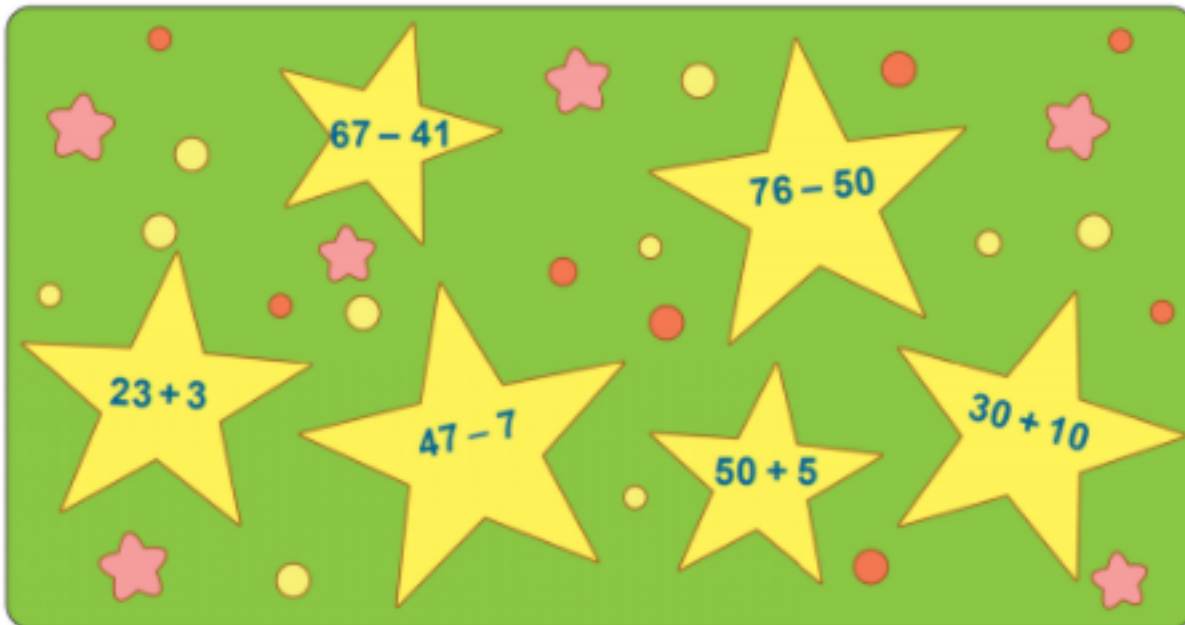
Bài 1 trang 98 SGK Toán lớp 1 tập 2 : Số?

$\begin{array}{r} 4 \text{ ?} \\ + 3 \text{ 5} \\ \hline \text{?} \text{ 6} \end{array}$	$\begin{array}{r} \text{?} \text{ ?} \\ + 2 \text{ 4} \\ \hline 7 \text{ 6} \end{array}$	$\begin{array}{r} 7 \text{ ?} \\ - 2 \text{ 3} \\ \hline \text{?} \text{ 4} \end{array}$	$\begin{array}{r} 8 \text{ 5} \\ - \text{?} \text{ ?} \\ \hline 3 \text{ 1} \end{array}$
--	--	--	--

Hướng dẫn giải

$\begin{array}{r} 4 \text{ 1} \\ + 3 \text{ 5} \\ \hline 7 \text{ 6} \end{array}$	$\begin{array}{r} 5 \text{ 2} \\ + 2 \text{ 4} \\ \hline 7 \text{ 6} \end{array}$	$\begin{array}{r} 7 \text{ 7} \\ - 2 \text{ 3} \\ \hline 5 \text{ 4} \end{array}$	$\begin{array}{r} 8 \text{ 5} \\ - 5 \text{ 4} \\ \hline 3 \text{ 1} \end{array}$
---	---	---	---

Bài 2 trang 98 SGK Toán lớp 1 tập 2 :



- a) Tìm kết quả phép tính trong mỗi ngôi sao.
- b) Tìm những ngôi sao khi phép tính có kết quả lớn hơn 26.

Hướng dẫn giải

- a) Thực hiện phép tính trong mỗi ngôi sao:

$$67 - 41 = 26$$

$$76 - 50 = 26$$

$$23 + 3 = 26$$

$$47 - 7 = 40$$

$$50 + 5 = 55$$

$$30 + 10 = 40$$

- b) Những ngôi sao khi phép tính có kết quả lớn hơn 26 là: $47 - 7$; $50 + 5$; $30 + 10$

Bài 3 trang 99 SGK Toán lớp 1 tập 2 : Lớp em chăm sóc 75 cây hoa hồng trong vườn của trường. Sau một thời gian, sáng nay đã có 53 cây nở hoa. Hỏi còn bao nhiêu cây hoa hồng chưa nở hoa?



Em hãy nêu câu trả lời.

Hướng dẫn giải

Phép tính: $74 - 53 = 21$

Số cây hoa hồng chưa nở hoa là:

$$74 - 53 = 21 \text{ (cây)}$$

Đáp số: 21 cây hoa hồng

Bài 4 trang 99 SGK Toán lớp 1 tập 2 : Trong một buổi cắm trại, lớp 1A có 32 bạn, lớp 1B có 35 bạn cùng tham gia. Hỏi cả lớp có bao nhiêu bạn cùng tham gia buổi cắm trại?



Em hãy nêu câu trả lời.

Hướng dẫn giải

Số bạn tham gia buổi tham gia buổi cắm trại là:

$$32 + 35 = 67 \text{ (bạn)}$$

Đáp số: 67 bạn