

Nội dung bài viết

1. [Giải Luyện tập trang 64, 65 - Luyện tập chung Toán lớp 1 Kết nối tri thức](#)
2. [Giải Luyện tập trang 66, 67 - Luyện tập chung Toán lớp 1 Kết nối tri thức](#)
3. [Giải Luyện tập trang 68, 69 - Luyện tập chung Toán lớp 1 Kết nối tri thức](#)
4. [Giải Luyện tập trang 70, 71 - Luyện tập chung Toán lớp 1 Kết nối tri thức](#)

Giải Luyện tập trang 64, 65 - Luyện tập chung Toán lớp 1 Kết nối tri thức

Bài 1 trang 64 SGK Toán lớp 1 tập 2 :

a) Tính:

$20 + 5$

$36 + 1$

$57 - 40$

$74 - 24$

b) Tính nhẩm:

$20 + 30$

$40 + 10$

$70 - 20$

$90 - 40$

Hướng dẫn giải

a)

$$\begin{array}{r} 20 \\ + 5 \\ \hline 25 \end{array}$$

$$\begin{array}{r} 36 \\ + 1 \\ \hline 37 \end{array}$$

$$\begin{array}{r} 57 \\ - 40 \\ \hline 17 \end{array}$$

$$\begin{array}{r} 74 \\ - 24 \\ \hline 50 \end{array}$$

b)

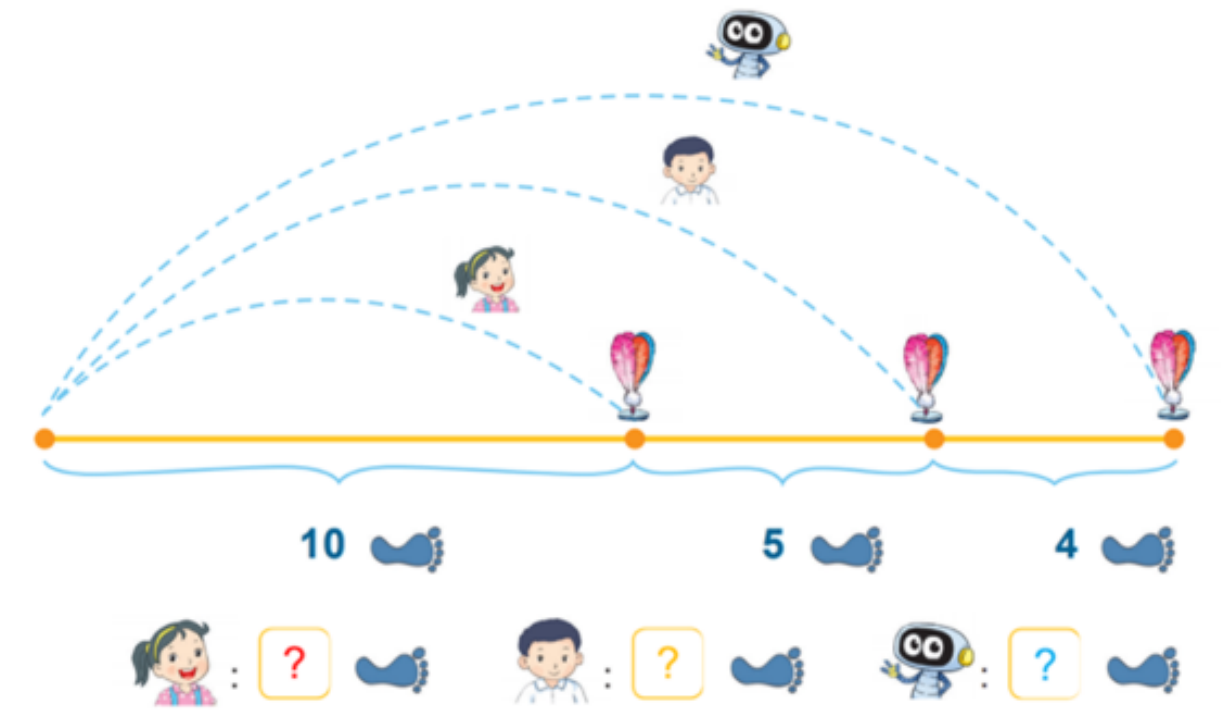
$$\begin{array}{r} 20 \\ + 30 \\ \hline 50 \end{array}$$

$$\begin{array}{r} 40 \\ + 10 \\ \hline 50 \end{array}$$

$$\begin{array}{r} 70 \\ - 20 \\ \hline 50 \end{array}$$

$$\begin{array}{r} 90 \\ - 40 \\ \hline 50 \end{array}$$

Bài 2 trang 64 SGK Toán lớp 1 tập 2 : Mai, Việt và Rô-bốt chơi đá cầu. Em hãy tìm số bước chân thích hợp.



Hướng dẫn giải

Số bước chân của bạn Mai là 10 bước chân.

Số bước chân của bạn Việt là:

$$10 + 5 = 15 \text{ (bước chân)}$$


Số bước chân của bạn Rô-bốt là:

$$10 + 5 + 4 = 19 \text{ (bước chân)}$$






Bài 3 trang 65 SGK Toán lớp 1 tập 2 : Chú ếch nào được ăn hoa mướp?

Tớ đi theo các ô có số bằng $20 + 40$.



Tớ đi theo các ô có số bé hơn 60.



| | | | | |
|----|----|----|----|---|
| 60 | 93 | 23 | 60 | 61 |
| 60 | 95 | 60 | 60 |  |
| 86 | 60 | 60 | 13 | 89 |
| 23 | 40 | 50 | 57 |  |
| 54 | 72 | 79 | 77 | 99 |

Hướng dẫn giải

Tớ đi theo các ô có số bằng $20 + 40$.

Tớ đi theo các ô có số bé hơn 60.

Chú ếch màu vàng ăn được hoa mướp.

Bài 4 trang 65 SGK Toán lớp 1 tập 2 : Anh Khoai phải sắp xếp các đốt tre thành phép tính đúng. Nhưng do vội quá nên anh xếp nhầm hai đốt tre. Em hãy xếp lại giúp anh Khoai nhé!



Hướng dẫn giải

$$98 - 75 = 23$$



Giải Luyện tập trang 66, 67 - Luyện tập chung Toán lớp 1 Kết nối tri thức

Bài 1 trang 66 SGK Toán lớp 1 tập 2 : Đặt tính rồi tính:

$23 + 5$

$67 + 2$

$48 - 3$

$95 - 41$

Hướng dẫn giải

$$\begin{array}{r} 23 \\ + 5 \\ \hline 28 \end{array}$$

$$\begin{array}{r} 67 \\ + 2 \\ \hline 69 \end{array}$$

$$\begin{array}{r} 48 \\ - 3 \\ \hline 45 \end{array}$$

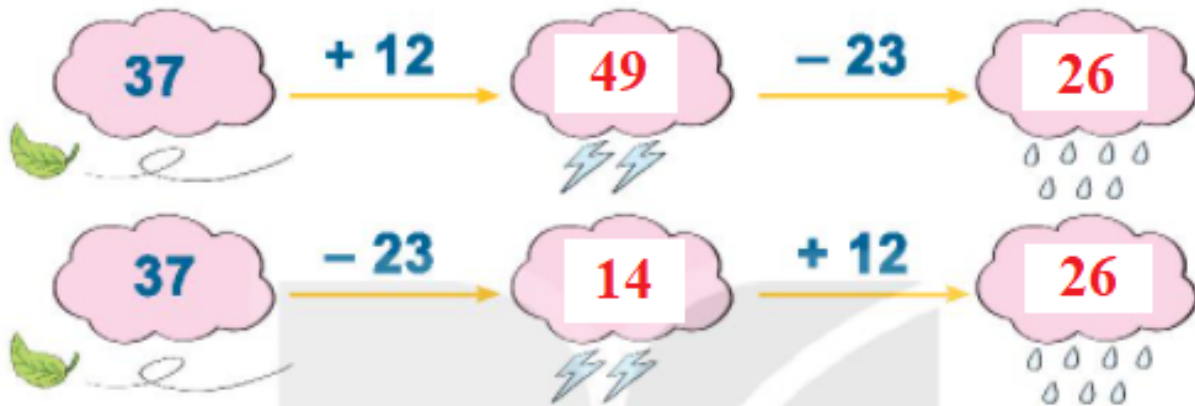
$$\begin{array}{r} 95 \\ - 41 \\ \hline 54 \end{array}$$

Bài 2 trang 66 SGK Toán lớp 1 tập 2 : Số?



Hướng dẫn giải

Thực hiện các phép tính trên sơ đồ



Bài 3 trang 66 SGK Toán lớp 1 tập 2 : Số?



Hướng dẫn giải



Bài 4 trang 66 SGK Toán lớp 1 tập 2 : Trên cây thị có 74 quả. Gió lay làm rụng 21 quả. Hỏi trên cây còn lại bao nhiêu quả thị?



Em hãy nêu câu trả lời.

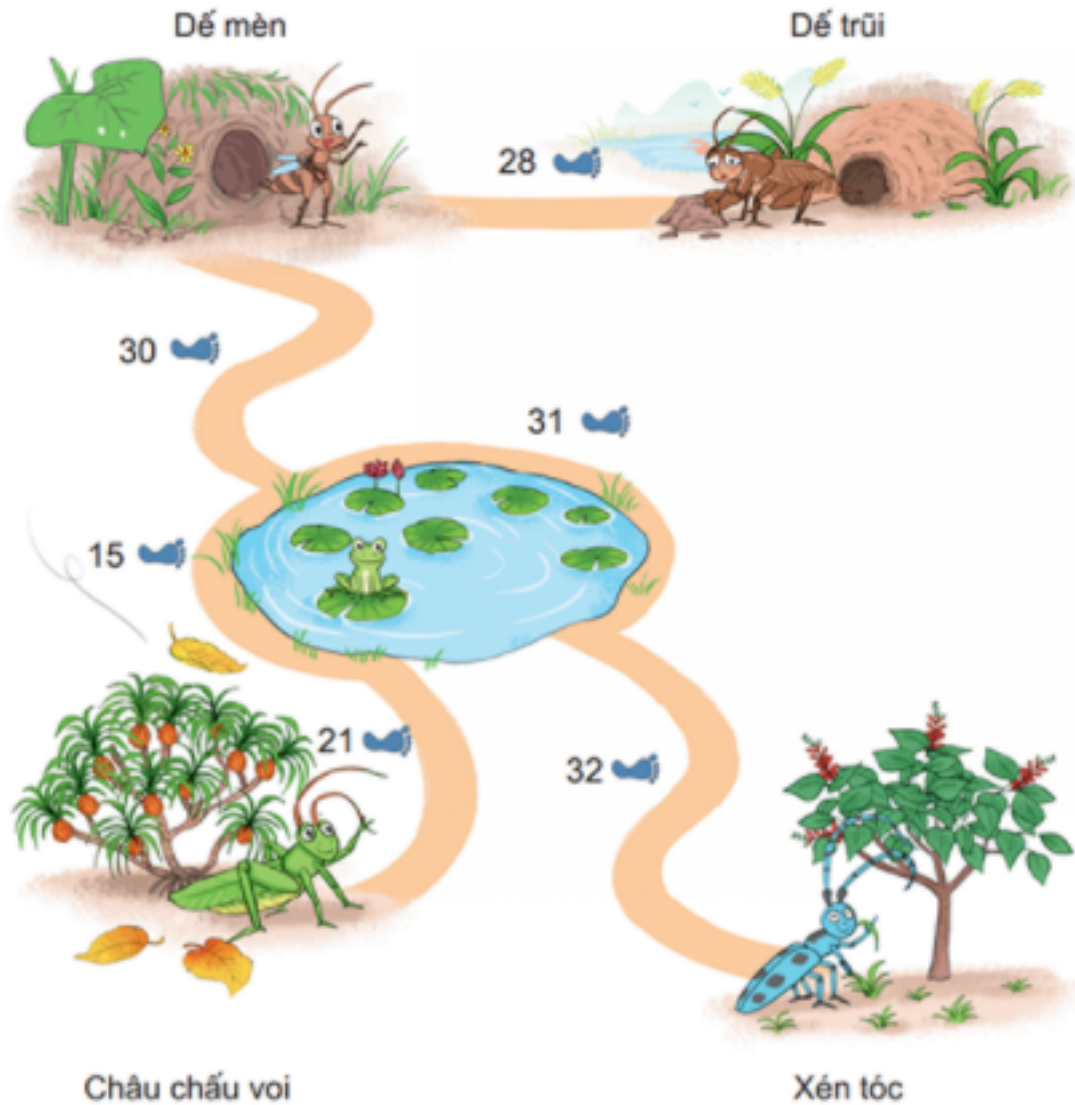
Hướng dẫn giải

Trên cây còn lại số quả thị là:

$$74 - 21 = 53 \text{ (quả)}$$

Đáp số: 53 quả thị

Bài 5 trang 67 SGK Toán lớp 1 tập 2 : Dế mèn phiêu lưu kí.



a) Xem tranh rồi tính:

- Từ nhà đế mèn đến nhà bác xén tóc dài bao nhiêu bước chân?
- Từ nhà đế mèn đến nhà châu chấu voi dài bao nhiêu bước chân?

b) Nhà ai gần nhà đế mèn nhất?

Hướng dẫn giải

a)

Từ nhà đế mèn đến nhà xén tóc dài số bước chân là:

$$30 + 31 + 32 = 93 \text{ (bước chân)}$$

Từ nhà dế mèn đến nhà châu châu voi dài số bước chân là:

$$30 + 15 + 21 = 66 \text{ (bước chân)}$$

b)

Từ nhà dế trũi đến nhà dế mèn dài 28 bước chân.

Từ nhà châu châu voi đến nhà dế mèn dài 66 bước chân.

Từ nhà xén tóc đến nhà dế mèn dài 93 bước chân.

Vì $28 < 66 < 93$ nên từ nhà dế trũi đến nhà dế mèn là gần nhất.

Giải Luyện tập trang 68, 69 - Luyện tập chung Toán lớp 1 Kết nối tri thức

Bài 1 trang 68 SGK Toán lớp 1 tập 2 : Đặt tính rồi tính:

$$31 + 7$$

$$23 + 64$$

$$86 - 15$$

$$95 - 3$$

Hướng dẫn giải

$$\begin{array}{r} 31 \\ + 7 \\ \hline 38 \end{array}$$

$$\begin{array}{r} 23 \\ + 64 \\ \hline 87 \end{array}$$

$$\begin{array}{r} 86 \\ - 15 \\ \hline 71 \end{array}$$

$$\begin{array}{r} 95 \\ - 3 \\ \hline 92 \end{array}$$

Bài 2 trang 68 SGK Toán lớp 1 tập 2 : Trong hai ngày, tráng sĩ uống hết 49 bầu nước. Ngày thứ nhất, tráng sĩ uống hết 25 bầu nước. Hỏi ngày thứ hai, tráng sĩ uống hết bao nhiêu bầu nước?



Em hãy nêu câu trả lời.

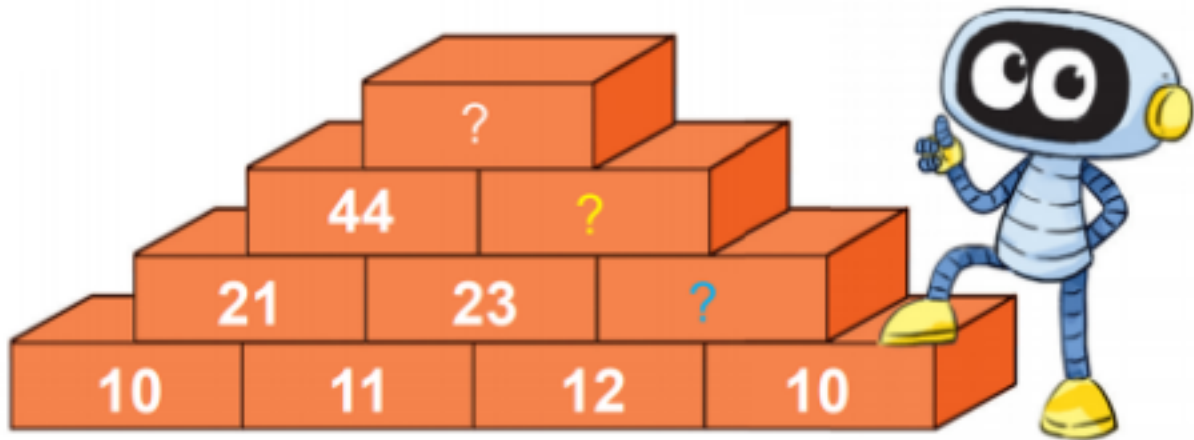
Hướng dẫn giải

Ngày thứ hai, tráng sĩ uống hết:

$49 - 25 = 24$ (bài nước)

Đáp số: 24 bài nước

Bài 3 trang 68 SGK Toán lớp 1 tập 2 : Số?



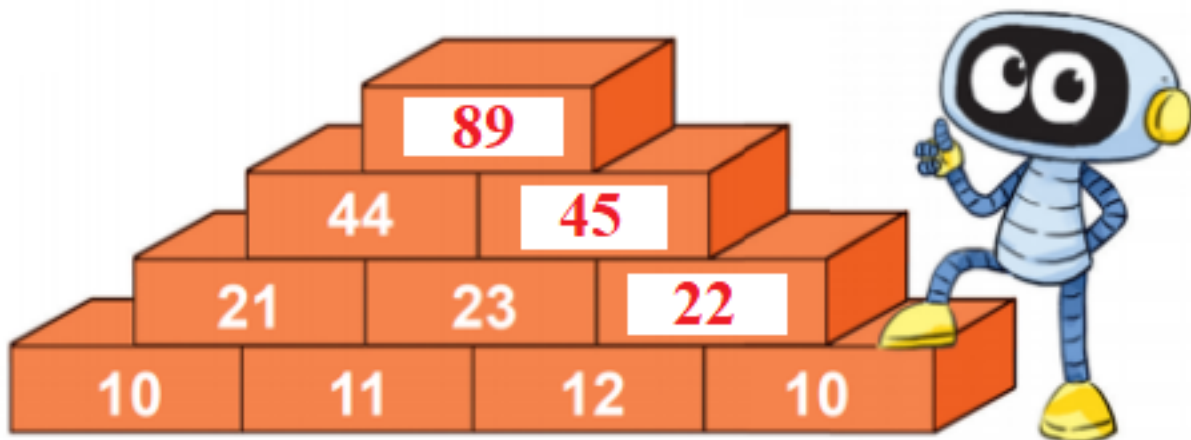
Hướng dẫn giải

Thực hiện phép tính cộng:

$12 + 10 = 22$

$23 + 22 = 45$

$44 + 45 = 89$



Bài 4 trang 69 SGK Toán lớp 1 tập 2 : Tính:



Hướng dẫn giải

$23 + 15 = 38$

$47 - 11 = 36$

$30 + 40 = 70$

$$61 + 3 = 64$$

$$40 + 5 = 45$$

$$64 - 20 = 44$$

$$14 + 5 = 19$$

$$20 + 70 = 90$$

Giải Luyện tập trang 70, 71 - Luyện tập chung Toán lớp 1 Kết nối tri thức

Bài 1 trang 70 SGK Toán lớp 1 tập 2 : Tính:

$$25 + 40$$

$$41 + 8$$

$$99 - 9$$

$$65 - 62$$

Hướng dẫn giải

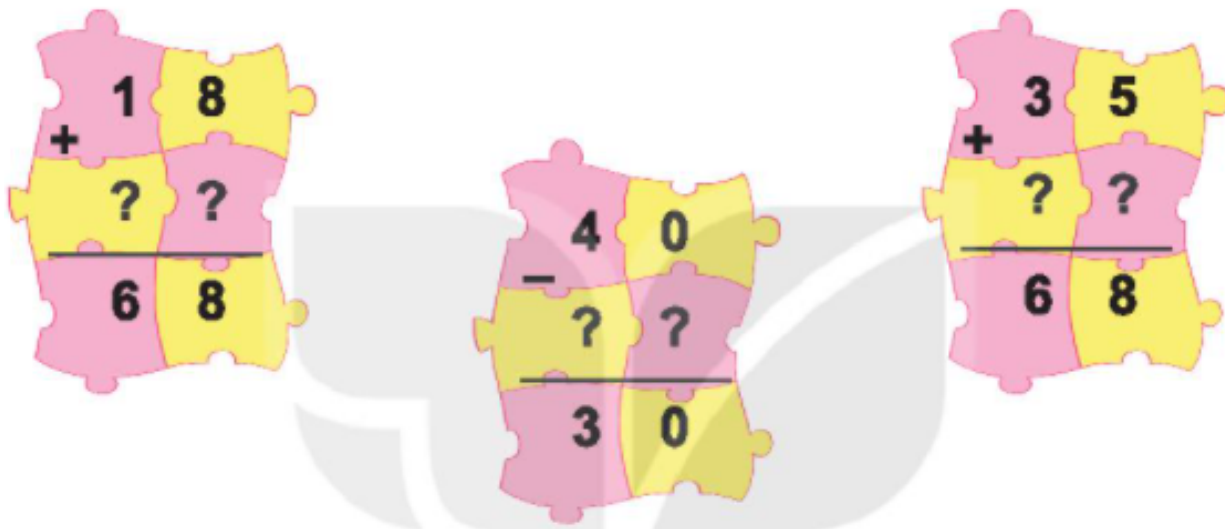
$$\begin{array}{r} 25 \\ + 40 \\ \hline 65 \end{array}$$

$$\begin{array}{r} 41 \\ + 8 \\ \hline 49 \end{array}$$

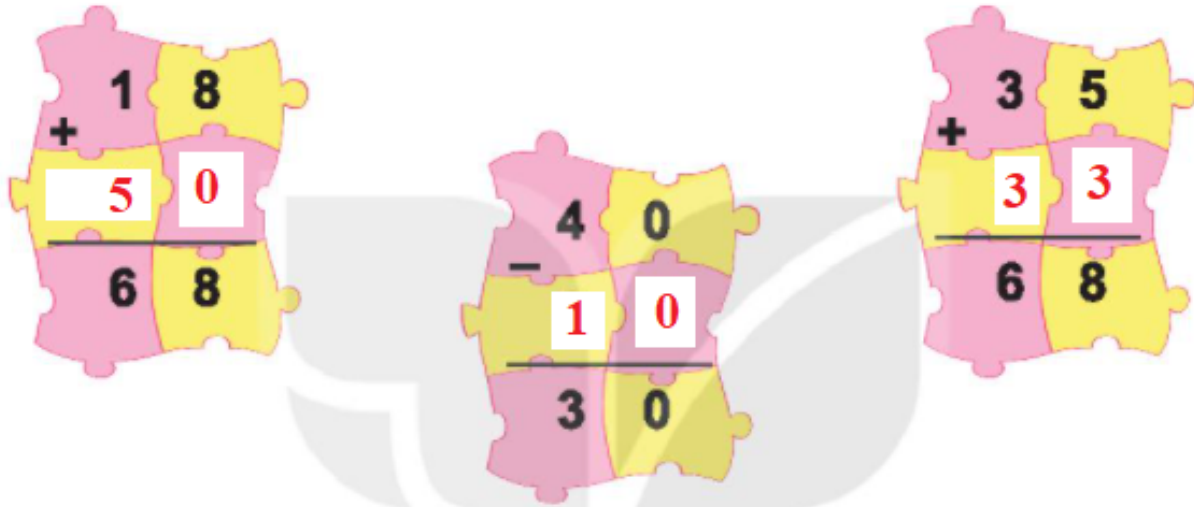
$$\begin{array}{r} 99 \\ - 9 \\ \hline 90 \end{array}$$

$$\begin{array}{r} 65 \\ - 62 \\ \hline 3 \end{array}$$

Bài 2 trang 70 SGK Toán lớp 1 tập 2 : Số?



Hướng dẫn giải



Bài 3 trang 70 SGK Toán lớp 1 tập 2 : Số quả thông ở hai bên bằng nhau. Hỏi trong túi màu đỏ có bao nhiêu quả thông?



? **?** **?** **=** **?**

Em

hãy nêu câu trả lời.

Hướng dẫn giải

Trong túi màu đỏ có số quả thông là:

$$45 + 33 = 78 \text{ (quả)}$$

Đáp số: 78 quả thông

Bài 4 trang 71 SGK Toán lớp 1 tập 2 : Tính:

a) $20 + 40 + 1$

b) $15 - 2 - 1$

c) $40 + 15 + 2$

Hướng dẫn giải

a) $20 + 40 + 1 = 60 + 1 = 61$

b) $15 - 2 - 1 = 13 - 1 = 12$

c) $40 + 15 + 2 = 55 + 4 = 59$

Bài 5 trang 71 SGK Toán lớp 1 tập 2 : Trên ga có 3 đoàn tàu:

a) Đoàn tàu A có 10 toa. Đoàn tàu B có 12 toa. Hỏi cả hai đoàn tàu có bao nhiêu toa?


$$? ? ? = ?$$

Em hãy nêu câu trả lời.

b) Đoàn tàu C có 15 toa chở khách và chở hàng. Trong đó, có 3 toa chở hàng. Hỏi đoàn tàu C có bao nhiêu toa chở khách?


$$? ? ? = ?$$

Em hãy nêu câu trả lời.

Hướng dẫn giải

a) Cả hai đoàn tàu có số toa là:

$$10 + 12 = 22 \text{ (toa)}$$

Đáp số: 22 toa tàu


$$10 + 12 = 22$$

b) Đoàn tàu C có số toa chở khách là:

$$15 - 3 = 12 \text{ (toa)}$$

Đáp số: 12 toa chở khách