

Nội dung bài viết

1. [Giải Hoạt động trang 58, 59 - Phép trừ số có hai chữ số cho số có hai chữ số Toán lớp 1 Kết nối tri thức](#)
2. [Giải Luyện tập trang 60, 61 - Phép trừ số có hai chữ số cho số có hai chữ số Toán lớp 1 Kết nối tri thức](#)
3. [Giải Luyện tập trang 62 - Phép trừ số có hai chữ số cho số có hai chữ số Toán lớp 1 Kết nối tri thức](#)

Giải Hoạt động trang 58, 59 - Phép trừ số có hai chữ số cho số có hai chữ số Toán lớp 1 Kết nối tri thức

Bài 1 trang 58 SGK Toán lớp 1 tập 2 :

$\begin{array}{r} 57 \\ - 34 \\ \hline \end{array}$	$\begin{array}{r} 68 \\ - 41 \\ \hline \end{array}$	$\begin{array}{r} 72 \\ - 52 \\ \hline \end{array}$	$\begin{array}{r} 95 \\ - 71 \\ \hline \end{array}$	$\begin{array}{r} 60 \\ - 30 \\ \hline \end{array}$
---	---	---	---	---

Hướng dẫn giải

$\begin{array}{r} 57 \\ - 34 \\ \hline 23 \end{array}$	$\begin{array}{r} 68 \\ - 41 \\ \hline 27 \end{array}$	$\begin{array}{r} 72 \\ - 52 \\ \hline 20 \end{array}$	$\begin{array}{r} 95 \\ - 71 \\ \hline 24 \end{array}$	$\begin{array}{r} 60 \\ - 30 \\ \hline 30 \end{array}$
--	--	--	--	--

Bài 2 trang 59 SGK Toán lớp 1 tập 2 : Đặt tính rồi tính:

$68 - 15$	$79 - 59$	$67 - 50$	$88 - 33$
-----------	-----------	-----------	-----------

Hướng dẫn giải

$$\begin{array}{r} 68 \\ - 15 \\ \hline 53 \end{array}$$

$$\begin{array}{r} 79 \\ - 59 \\ \hline 20 \end{array}$$

$$\begin{array}{r} 67 \\ - 50 \\ \hline 17 \end{array}$$

$$\begin{array}{r} 88 \\ - 33 \\ \hline 55 \end{array}$$

Bài 3 trang 59 SGK Toán lớp 1 tập 2 : Quả dưa nào ghi phép tính có kết quả lớn nhất?



Hướng dẫn giải

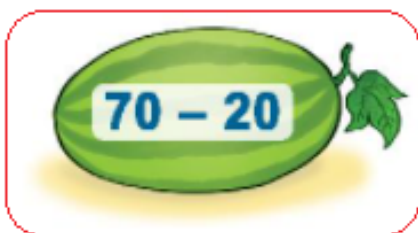
$$70 - 20 = 50$$

$$54 - 14 = 40$$

$$35 - 10 = 25$$

So sánh: $25 < 40 < 50$

Quả dưa ghi phép tính $70 - 20$ có kết quả lớn nhất.



Bài 4 trang 59 SGK Toán lớp 1 tập 2 : Trong vườn cây ăn quả có tất cả 75 cây nhãn và cây vải, trong đó có 25 cây nhãn. Hỏi trong vườn có bao nhiêu cây vải?



Hướng dẫn giải

Trong vườn có số cây vải là:

$$75 - 25 = 50 \text{ (cây)}$$

Đáp số: 50 cây vải

**Giải Luyện tập trang 60, 61 - Phép trừ số có hai chữ số cho số có hai chữ số
Toán lớp 1 Kết nối tri thức**

Bài 1 trang 60 SGK Toán lớp 1 tập 2 : Tính nhẩm (theo mẫu):

$$60 - 20 = ?$$

$$6 \text{ chục} - 2 \text{ chục} = 4 \text{ chục}$$

$$60 - 20 = 40$$



a) $70 - 50$

$$90 - 70$$

$$40 - 10$$

b) $80 - 10$

$$60 - 50$$

$$90 - 20$$

c) $40 - 30$

$$70 - 30$$

$$70 - 40$$

Hướng dẫn giải

a)

*) $70 - 50$

$$7 \text{ chục} - 5 \text{ chục} = 2 \text{ chục}$$

$$70 - 50 = 20$$

*) $90 - 70$

$$9 \text{ chục} - 7 \text{ chục} = 2 \text{ chục}$$

$$90 - 70 = 20$$

$$*) 40 - 10$$

$$4 \text{ chục} - 1 \text{ chục} = 3 \text{ chục}$$

$$40 - 10 = 30$$

b)

$$*) 80 - 10$$

$$8 \text{ chục} - 1 \text{ chục} = 7 \text{ chục}$$

$$80 - 10 = 70$$

$$*) 60 - 50$$

$$6 \text{ chục} - 5 \text{ chục} = 1 \text{ chục}$$

$$60 - 50 = 10$$

$$*) 90 - 20$$

$$9 \text{ chục} - 2 \text{ chục} = 7 \text{ chục}$$

$$90 - 20 = 70$$

c)

$$*) 40 - 30$$

$$4 \text{ chục} - 3 \text{ chục} = 1 \text{ chục}$$

$$40 - 30 = 10$$

$$*) 70 - 30$$

$$7 \text{ chục} - 3 \text{ chục} = 4 \text{ chục}$$

$$70 - 30 = 40$$

$$*) 70 - 40$$

7 chục – 4 chục = 3 chục

$$70 - 40 = 30$$

Bài 2 trang 60 SGK Toán lớp 1 tập 2 : Đặt tính rồi tính:

$$92 - 72$$

$$86 - 64$$

$$65 - 25$$

$$77 - 53$$

Hướng dẫn giải

$$\begin{array}{r} 92 \\ - 72 \\ \hline 20 \end{array}$$


$$\begin{array}{r} 86 \\ - 64 \\ \hline 22 \end{array}$$

$$\begin{array}{r} 65 \\ - 25 \\ \hline 40 \end{array}$$

$$\begin{array}{r} 77 \\ - 53 \\ \hline 24 \end{array}$$

Bài 3 trang 60 SGK Toán lớp 1 tập 2 : Số?

a)



b)

$$\begin{array}{r} 5 \text{ ?} \\ - 2 \ 4 \\ \hline 3 \ 5 \end{array}$$

$$\begin{array}{r} \text{?} \ 7 \\ - 5 \ 1 \\ \hline 4 \ 6 \end{array}$$

$$\begin{array}{r} 6 \ 8 \\ - 2 \ \text{?} \\ \hline \text{?} \ 5 \end{array}$$

$$\begin{array}{r} 8 \ 5 \\ - \ \text{?} \ \text{?} \\ \hline 2 \ 1 \end{array}$$

Hướng dẫn giải

a)

Thực hiện phép tính:

$$\begin{array}{r} 85 \\ - 25 \\ \hline 60 \end{array}$$

$$\begin{array}{r} 60 \\ - 20 \\ \hline 40 \end{array}$$



b)

$$\begin{array}{r} 59 \\ - 24 \\ \hline 35 \end{array}$$

$$\begin{array}{r} 97 \\ - 51 \\ \hline 46 \end{array}$$

$$\begin{array}{r} 68 \\ - 23 \\ \hline 45 \end{array}$$

$$\begin{array}{r} 85 \\ - 64 \\ \hline 21 \end{array}$$

Bài 4 trang 61 SGK Toán lớp 1 tập 2 : Một đồng gạch có 86 viên. Bạn Rô-bốt đã lấy đi 50 viên gạch để xây tường. Hỏi đồng gạch còn lại bao nhiêu viên?



Hướng dẫn giải

Còn lại số viên gạch là:

$$86 - 50 = 36 \text{ (viên gạch)}$$

Đáp số: 36 viên gạch

Giải Luyện tập trang 62 - Phép trừ số có hai chữ số cho số có hai chữ số Toán lớp 1 Kết nối tri thức**Bài 1 trang 62 SGK Toán lớp 1 tập 2 : Đặt tính rồi tính:**

a) $47 + 20$ $67 - 20$ $67 - 47$

b) $56 + 41$ $97 - 56$ $97 - 41$

Hướng dẫn giải

a)

$$\begin{array}{r} 47 \\ + 20 \\ \hline 67 \end{array}$$

$$\begin{array}{r} 67 \\ - 20 \\ \hline 47 \end{array}$$

$$\begin{array}{r} 67 \\ - 47 \\ \hline 20 \end{array}$$

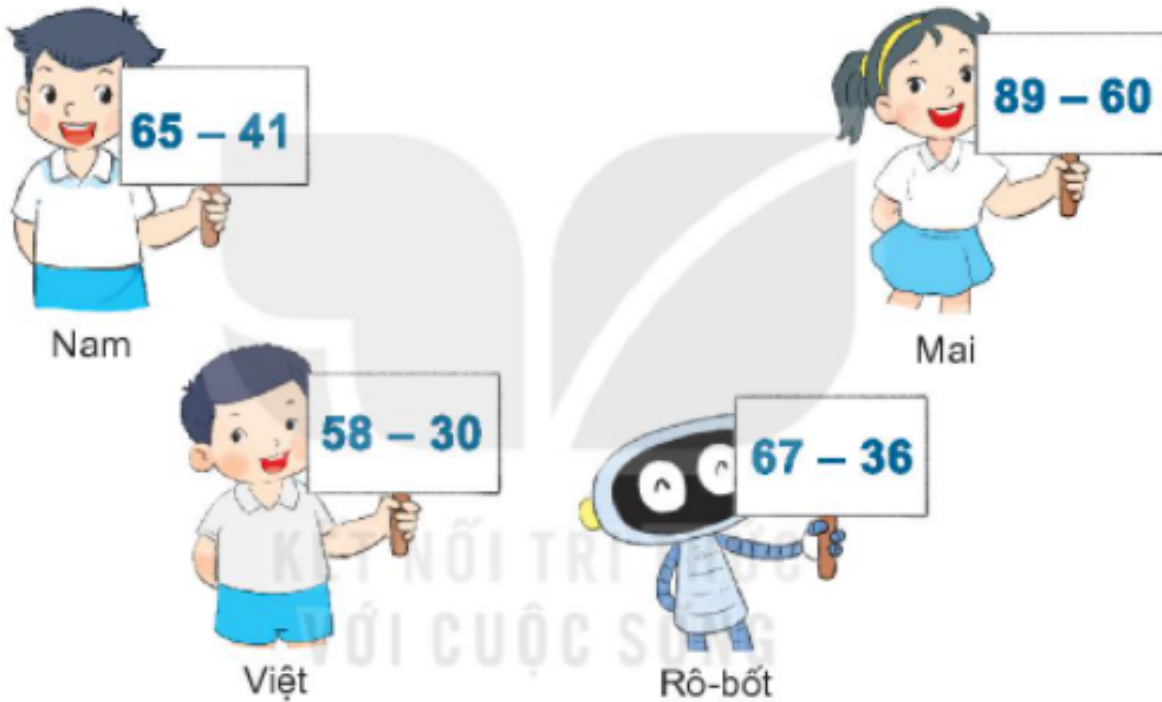
b)

$$\begin{array}{r} 56 \\ + 41 \\ \hline 97 \end{array}$$

$$\begin{array}{r} 97 \\ - 56 \\ \hline 41 \end{array}$$

$$\begin{array}{r} 97 \\ - 41 \\ \hline 56 \end{array}$$

Bài 2 trang 62 SGK Toán lớp 1 tập 2 : Bạn nào cần thẻ ghi phép tính có kết quả lớn nhất?



Hướng dẫn giải

Thực hiện các phép tính:

$$65 - 41 = 24$$

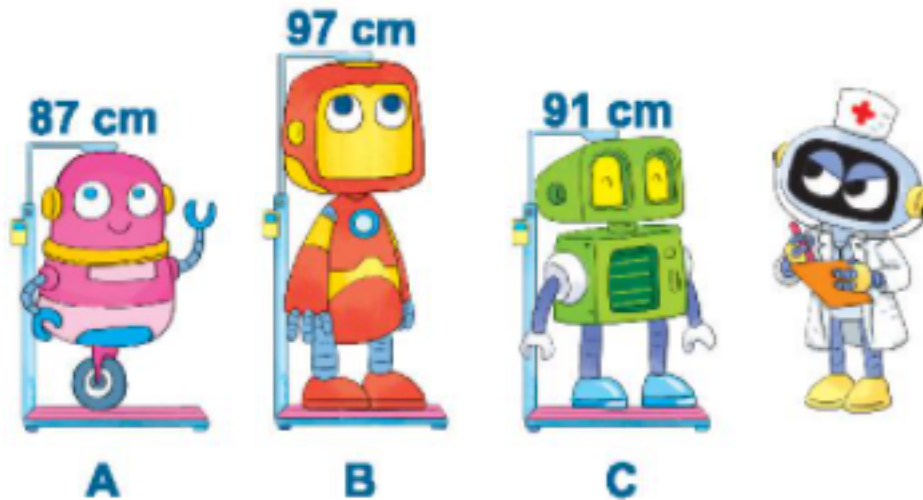
$$89 - 60 = 29$$

$$58 - 30 = 28$$

$$67 - 36 = 31$$

Vì $24 < 28 < 29 < 31$ nên bạn Rô-bốt cần bảng ghi kết quả lớn nhất.

Bài 3 trang 62 SGK Toán lớp 1 tập 2 : Đo chiều cao ba bạn rô-bốt được kết quả như hình vẽ. Hỏi bạn nào cao nhất? Bạn nào thấp nhất?

**Hướng dẫn giải**

Bạn A cao 87cm.

Bạn B cao 97cm.

Bạn C cao 91cm.

Vì $97\text{cm} > 91\text{cm} > 87\text{cm}$ nên bạn B cao nhất, bạn A thấp nhất.