

Nội dung bài viết

1. [Giải Hoạt động trang 48, 49 - Phép cộng số có hai chữ số với số có hai chữ số Toán lớp 1 Kết nối tri thức](#)
2. [Giải Luyện tập trang 50, 51 - Phép cộng số có hai chữ số với số có hai chữ số Toán lớp 1 Kết nối tri thức](#)

Giải Hoạt động trang 48, 49 - Phép cộng số có hai chữ số với số có hai chữ số Toán lớp 1 Kết nối tri thức

Bài 1 trang 48 SGK Toán lớp 1 tập 2 : Tính:

$$\begin{array}{r} 41 \\ + 11 \\ \hline \end{array}$$

$$\begin{array}{r} 15 \\ + 30 \\ \hline \end{array}$$

$$\begin{array}{r} 56 \\ + 31 \\ \hline \end{array}$$

$$\begin{array}{r} 60 \\ + 29 \\ \hline \end{array}$$

Hướng dẫn giải

$$\begin{array}{r} 41 \\ + 11 \\ \hline 52 \end{array}$$

$$\begin{array}{r} 15 \\ + 30 \\ \hline 45 \end{array}$$

$$\begin{array}{r} 56 \\ + 31 \\ \hline 87 \end{array}$$

$$\begin{array}{r} 60 \\ + 29 \\ \hline 89 \end{array}$$

Bài 2 trang 49 SGK Toán lớp 1 tập 2 : Đặt tính rồi tính:

$$13 + 21$$

$$15 + 64$$

$$34 + 40$$

$$83 + 15$$

Hướng dẫn giải

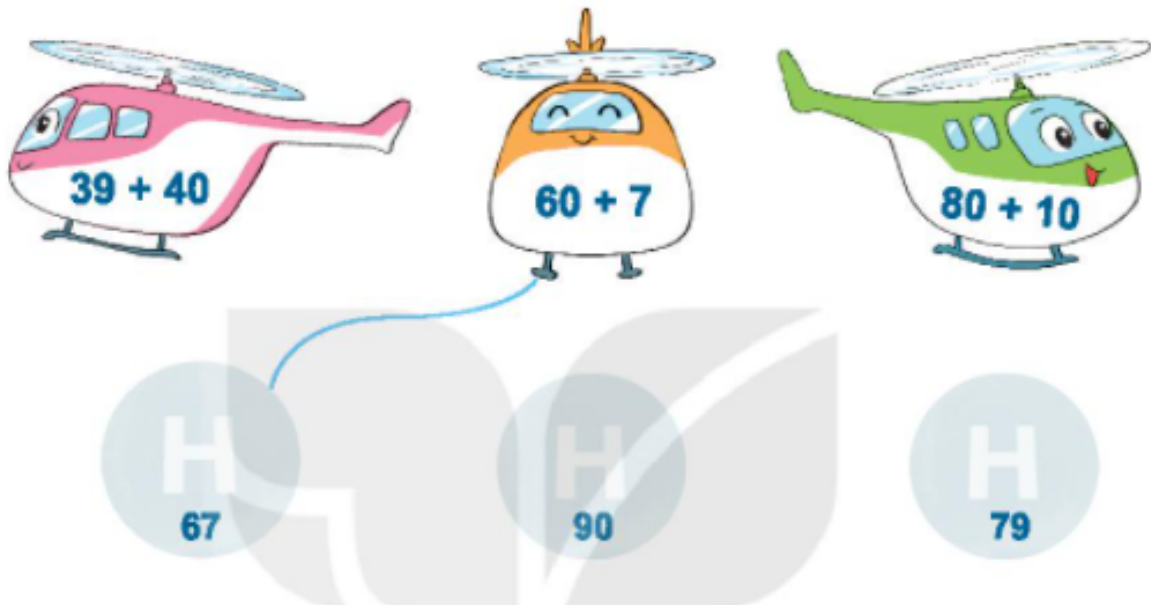
$$\begin{array}{r} 13 \\ + 21 \\ \hline 34 \end{array}$$

$$\begin{array}{r} 15 \\ + 64 \\ \hline 79 \end{array}$$

$$\begin{array}{r} 34 \\ + 40 \\ \hline 74 \end{array}$$

$$\begin{array}{r} 83 \\ + 15 \\ \hline 98 \end{array}$$

Bài 3 trang 49 SGK Toán lớp 1 tập 2 : Tìm chỗ trống cho trục thẳng.

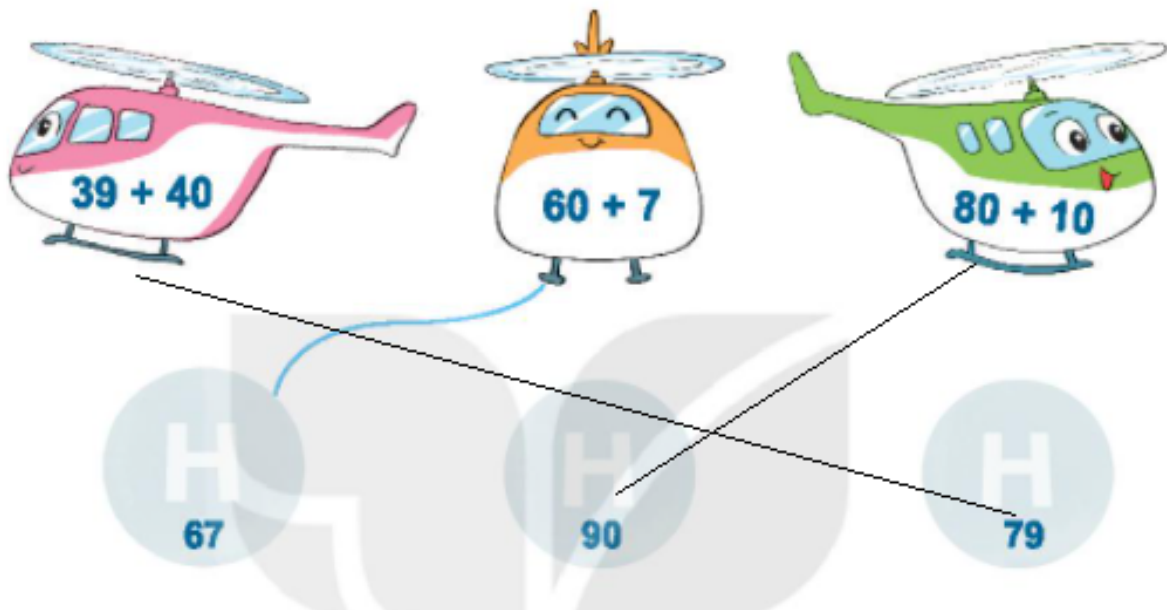


Hướng dẫn giải

$$\begin{array}{r} 39 \\ + 40 \\ \hline 79 \end{array}$$

$$\begin{array}{r} 60 \\ + 7 \\ \hline 67 \end{array}$$

$$\begin{array}{r} 80 \\ + 10 \\ \hline 90 \end{array}$$



Bài 4 trang 49 SGK Toán lớp 1 tập 2 : Có hai cây cà chua trong vườn. Một cây có 10 quả, một cây có 26 quả. Hỏi cả hai cây có bao nhiêu quả cà chua?

$$? + ? = ?$$

Hướng dẫn giải

$$10 + 26 = 36$$

Phép tính:

Cả hai cây có số quả cà chua là:

$$10 + 26 = 36 \text{ (quả)}$$

Đáp số: 36 quả cà chua

*Giải Luyện tập trang 50, 51 - Phép cộng số có hai chữ số với số có hai chữ số
Toán lớp 1 Kết nối tri thức*

Bài 1 trang 50 SGK Toán lớp 1 tập 2 : Đặt tính rồi tính:

$$10 + 47$$

$$23 + 54$$

$$61 + 35$$

$$58 + 41$$

Hướng dẫn giải


$$\begin{array}{r} 10 \\ + 47 \\ \hline 57 \end{array}$$

$$\begin{array}{r} 23 \\ + 54 \\ \hline 77 \end{array}$$

$$\begin{array}{r} 61 \\ + 35 \\ \hline 96 \end{array}$$

$$\begin{array}{r} 58 \\ + 41 \\ \hline 99 \end{array}$$

Bài 2 trang 50 SGK Toán lớp 1 tập 2 : Quả xoài nào ghi phép tính có kết quả bé nhất?



Hướng dẫn giải

$$\begin{array}{r} 2 \\ + 40 \\ \hline 42 \end{array}$$

$$\begin{array}{r} 80 \\ + 3 \\ \hline 83 \end{array}$$

$$\begin{array}{r} 70 \\ + 10 \\ \hline 80 \end{array}$$

Vì $42 < 80 < 83$ nên quả xoài ghi phép tính $80 + 3$ có kết quả lớn nhất, quả xoài ghi phép tính $2 + 40$ có kết quả bé nhất.

Bài 3 trang 50 SGK Toán lớp 1 tập 2 : Trên cây có 15 con chim. Lát sau có thêm 24 con chim bay đến đậu cùng. Hỏi lúc này trên cây có tất cả bao nhiêu con chim?



Hướng dẫn giải

Có tất cả số con chim là:

$$15 + 24 = 39 \text{ (con)}$$


Đáp số: 39 con chim

Bài 4 trang 51 SGK Toán lớp 1 tập 2 : Tính nhẩm (theo mẫu):

$$30 + 20 = ?$$

$$3 \text{ chục} + 2 \text{ chục} = 5 \text{ chục}$$

$$30 + 20 = 50$$



a) $10 + 50$

$20 + 40$

$30 + 30$

b) $30 + 40$

$40 + 30$

$20 + 50$

c) $10 + 20$

$10 + 30$

$10 + 40$

Hướng dẫn giải

a)

*) $10 + 50$

$1 \text{ chục} + 5 \text{ chục} = 6 \text{ chục}$

$10 + 50 = 60$

*) $20 + 40$

$2 \text{ chục} + 4 \text{ chục} = 6 \text{ chục}$

$20 + 40 = 60$

*) $30 + 30$

$3 \text{ chục} + 3 \text{ chục} = 6 \text{ chục}$

$30 + 30 = 60$

b)

*) $30 + 40$

3 chục + 4 chục = 7 chục

$30 + 40 = 70$

*) $40 + 30$

4 chục + 3 chục = 7 chục

$40 + 30 = 70$

*) $20 + 50$

2 chục + 5 chục = 7 chục

$20 + 50 = 70$

c)

*) $10 + 20$

1 chục + 2 chục = 3 chục

$10 + 20 = 30$

*) $10 + 30$

1 chục + 3 chục = 4 chục


$10 + 30 = 40$

*) $10 + 40$

1 chục + 4 chục = 5 chục

$10 + 40 = 50$

Bài 5 trang 51 SGK Toán lớp 1 tập 2 : Tìm số bị rơi mất trong mỗi chiếc lá có dấu “?”:



Hướng dẫn giải

