

Nội dung bài viết

1. [Giải Hoạt động trang 45 - Phép cộng số có hai chữ số với số có một chữ số Toán lớp 1 Kết nối tri thức](#)
2. [Giải Luyện tập trang 46, 47 - Phép cộng số có hai chữ số với số có một chữ số Toán lớp 1 Kết nối tri thức](#)

Giải Hoạt động trang 45 - Phép cộng số có hai chữ số với số có một chữ số Toán lớp 1 Kết nối tri thức

Bài 1 trang 45 SGK Toán lớp 1 tập 2 : Tính:

$$\begin{array}{r} 24 \\ + 3 \\ \hline \dots \end{array}$$

$$\begin{array}{r} 60 \\ + 7 \\ \hline \dots \end{array}$$

$$\begin{array}{r} 82 \\ + 5 \\ \hline \dots \end{array}$$

Hướng dẫn giải

$$\begin{array}{r} 24 \\ + 3 \\ \hline 27 \end{array}$$

$$\begin{array}{r} 60 \\ + 7 \\ \hline 67 \end{array}$$

$$\begin{array}{r} 82 \\ + 5 \\ \hline 87 \end{array}$$

Bài 2 trang 45 SGK Toán lớp 1 tập 2 : Đặt tính rồi tính:

$11 + 8$

$71 + 5$

$94 + 4$

Hướng dẫn giải









$$\begin{array}{r} 11 \\ + 8 \\ \hline 19 \end{array}$$

$$\begin{array}{r} 71 \\ + 5 \\ \hline 76 \end{array}$$

$$\begin{array}{r} 94 \\ + 4 \\ \hline 98 \end{array}$$

Bài 3 trang 45 SGK Toán lớp 1 tập 2 : Tính rồi tìm thức ăn cho mỗi con vật:

KẾT NỐI TRI THỨC
VỚI CUỘC SỐNG

$40 + 9$			98
$76 + 2$			49
$90 + 8$			26
$25 + 1$			78

Hướng dẫn giải

$$\begin{array}{r} 40 \\ + 9 \\ \hline 49 \end{array}$$

$$\begin{array}{r} 76 \\ + 2 \\ \hline 78 \end{array}$$

$$\begin{array}{r} 90 \\ + 8 \\ \hline 98 \end{array}$$

$$\begin{array}{r} 25 \\ + 1 \\ \hline 26 \end{array}$$

*Giải Luyện tập trang 46, 47 - Phép cộng số có hai chữ số với số có một chữ số
Toán lớp 1 Kết nối tri thức*

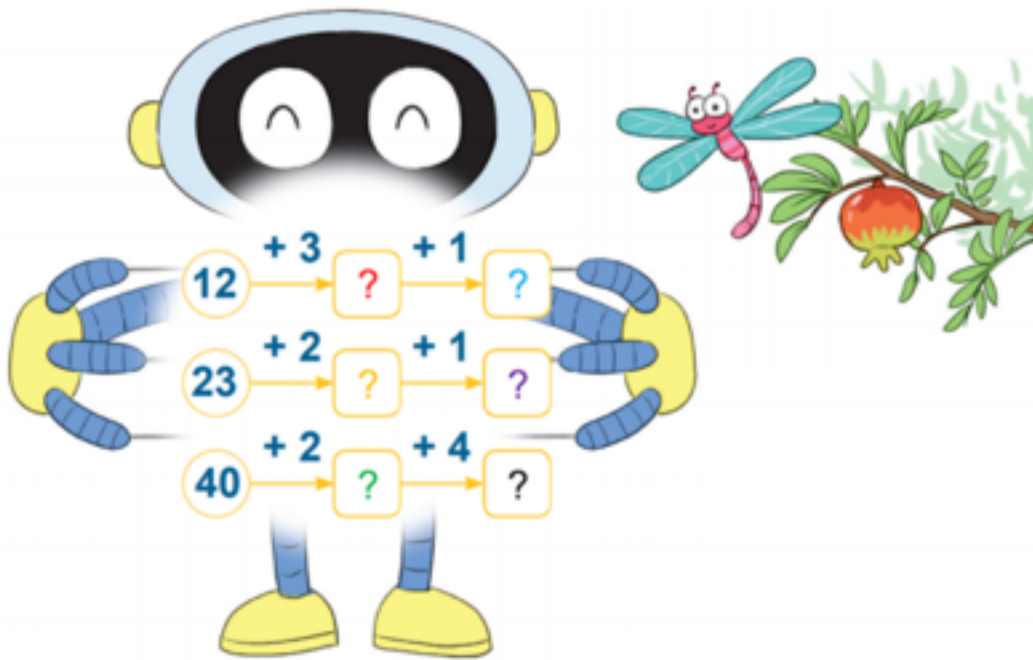
Bài 1 trang 46 SGK Toán lớp 1 tập 2 : Đặt tính rồi tính:

$42 + 4$ $73 + 6$ $34 + 5$

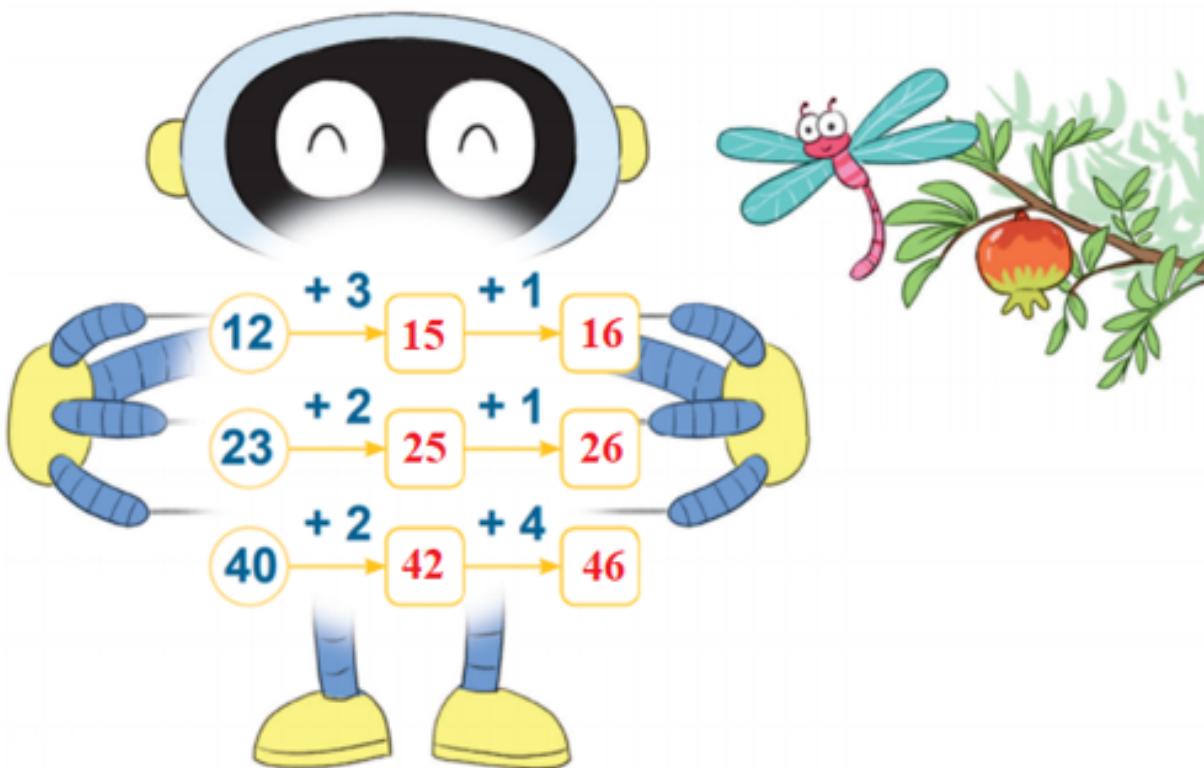
Hướng dẫn giải

$\begin{array}{r} 42 \\ + 4 \\ \hline 46 \end{array}$	$\begin{array}{r} 73 \\ + 6 \\ \hline 79 \end{array}$	$\begin{array}{r} 34 \\ + 5 \\ \hline 39 \end{array}$
---	---	---

Bài 2 trang 46 SGK Toán lớp 1 tập 2 : Số?



Hướng dẫn giải



Bài 3 trang 46 SGK Toán lớp 1 tập 2 : Bạn Mai gấp được 25 chiếc thuyền giấy. Em Mi gấp được 3 chiếc thuyền giấy. Hỏi cả hai chị em gấp được bao nhiêu chiếc thuyền giấy?

$$\boxed{?} + \boxed{?} = \boxed{?}$$

Hướng dẫn giải

Cả hai chị em gấp được số thuyền giấy là:

$$25 + 3 = 28 \text{ (chiếc thuyền giấy)}$$

Đáp số: 28 chiếc thuyền giấy

Bài 4 trang 46 SGK Toán lớp 1 tập 2 : Lá sen chỉ chở được 17 chú ếch con. Trên lá sen đang có 14 chú ếch con.



Tìm đáp án cho hết ếch con lên lá sen.



A.



B.




C.

Hướng dẫn giải

Chọn B.

Bài 5 trang 47 SGK Toán lớp 1 tập 2 : Lấy mỗi số trên vỏ sò màu xanh cộng với một số trên vỏ sò màu vàng để được một số trên vỏ màu cam. Tìm các phép tính đó.



$$? + ? = ?$$

$$? + ? = ?$$

Hướng dẫn giải

Xét

$$40 + 2 = 42$$

$$40 + 3 = 43$$

$$52 + 2 = 53$$

$$52 + 3 = 55$$

Phép tính cần tìm là:

$$40 + 2 = 42$$

$$52 + 3 = 55$$