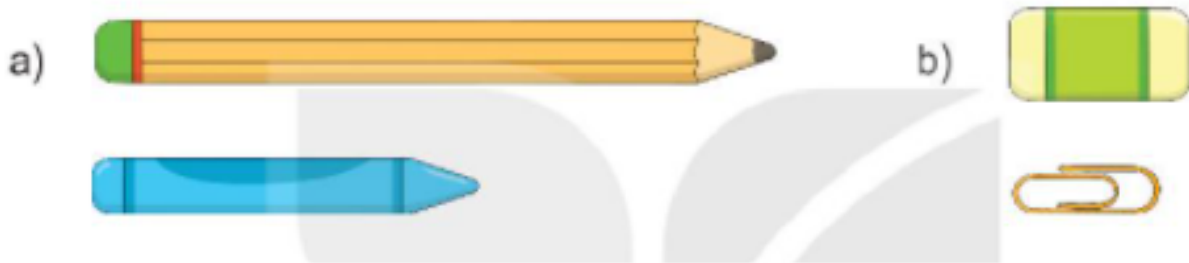


Nội dung bài viết


1. [Giải Luyện tập trang 40, 41 - Luyện tập chung Toán lớp 1 Kết nối tri thức](#)
2. [Giải Luyện tập trang 42, 43 - Luyện tập chung Toán lớp 1 Kết nối tri thức](#)

Giải Luyện tập trang 40, 41 - Luyện tập chung Toán lớp 1 Kết nối tri thức

Bài 1 trang 40 SGK Toán lớp 1 tập 2 : Đồ vật nào dài hơn?



Hướng dẫn giải



Bài 2 trang 40 SGK Toán lớp 1 tập 2 :



a) Bạn nào cao nhất?

b) Bạn nào thấp nhất?

Hướng dẫn giải

a) Bạn Nam cao nhất.

b) Bạn Mi thấp nhất.

Bài 3 trang 40 SGK Toán lớp 1 tập 2 :

a) Ngựa hay hươu cao cỡ cao hơn?

b) Thước hay bút chì dài hơn?

Hướng dẫn giải

Học sinh quan sát hình vẽ.

a) Hươu cao cỡ cao hơn ngựa.

b) Thước dài hơn bút chì.

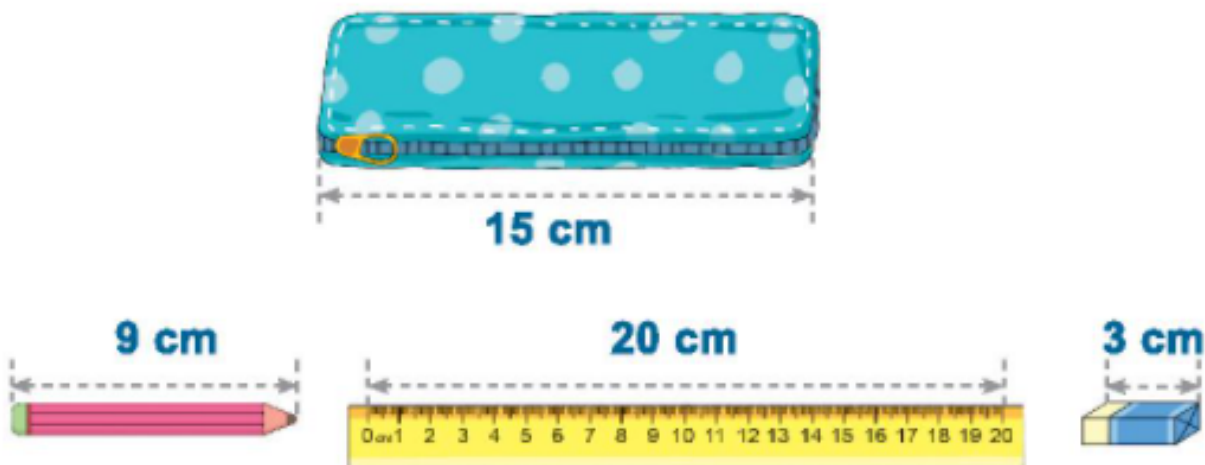
Bài 4 trang 41 SGK Toán lớp 1 tập 2 : Đo độ dài mỗi đồ vật:



Hướng dẫn giải



Bài 5 trang 41 SGK Toán lớp 1 tập 2 : Đồ vật nào dưới đây cho được vào trong hộp bút?



Hướng dẫn giải

Túi bút dài 15cm,

Bút chì dài 9cm.

Thước kẻ dài 20cm.

Cục tẩy dài 3cm.

Vì $9\text{cm} < 15\text{cm}$ nên bút chì cho được vào trong hộp bút.

Vì $20\text{cm} > 15\text{cm}$ nên thước kẻ không cho được vào trong hộp bút.

Vì $3\text{cm} < 15\text{cm}$ nên cục tẩy cho được vào trong hộp bút.

Giải Luyện tập trang 42, 43 - Luyện tập chung Toán lớp 1 Kết nối tri thức

Bài 1 trang 42 SGK Toán lớp 1 tập 2 :



Thỏ, cáo và sóc chạy thi.

Bạn vẽ đích thứ nhất đứng ở bục cao nhất.

Bạn vẽ đích thứ ba đứng ở bục thấp nhất.

Bạn nào vẽ đích thứ nhất?

Bạn nào vẽ đích thứ hai?

Bạn nào vẽ đích thứ ba?


Hướng dẫn giải

Bạn Thỏ về đích thứ nhất.

Bạn Cáo về đích thứ hai.

Bạn Sóc về đích thứ ba.

Bài 2 trang 42 SGK Toán lớp 1 tập 2 : Các cây được trồng cách đều nhau.



Cáo đứng gần thỏ hay sóc?

Hướng dẫn giải

Cáo đứng cách Thỏ 2 cây.

Cáo đứng cách Sóc 5 cây.

Vì $2 < 5$ nên Cáo đứng gần Thỏ hơn.

Bài 3 trang 42 SGK Toán lớp 1 tập 2 : Bạn sóc đang ở vị trí A.



Bạn sóc đi đến chỗ hạt dẻ theo đường nào ngắn hơn?

Hướng dẫn giải

Bạn Sóc đi đến chỗ hạt dẻ theo đường màu vàng cần 10 bước chân.

Bạn Sóc đi đến chỗ hạt dẻ theo đường màu xanh cần 8 bước chân.

Vì $8 < 10$ nên bạn Sóc đi đến chỗ hạt dẻ theo đường màu xanh ngắn hơn.

Bài 4 trang 42 SGK Toán lớp 1 tập 2 :

a) Đo độ dài mỗi bút chì:

? cm



A

? cm



B

? cm



C

? cm



D

? cm



E

b) Trong

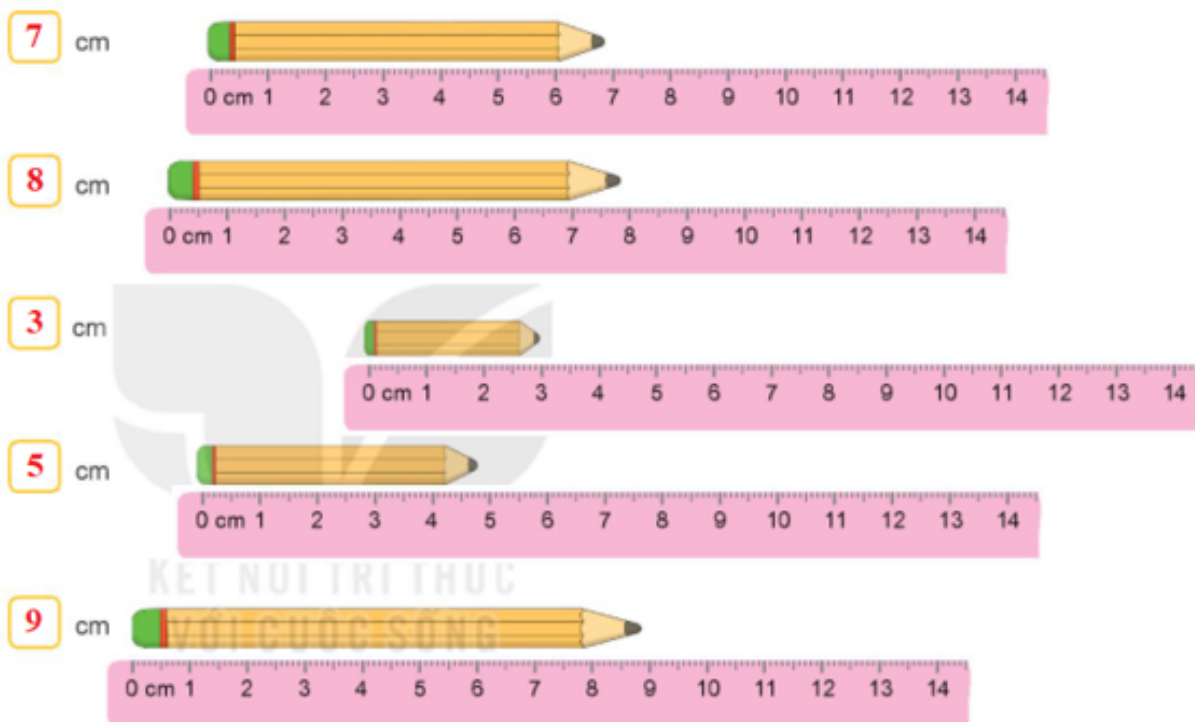
các bút chì ở trên:

- Bút chì nào dài nhất?

- Bút chì nào ngắn nhất?

Hướng dẫn giải

a)



b) Vì $3\text{cm} < 5\text{cm} < 7\text{cm} < 8\text{cm} < 9\text{cm}$ nên bút chì A ngắn nhất, bút chì D dài nhất.