


Nội dung bài viết

1. [Giải Hoạt động trang 37 - Thực hành ước lượng và đo độ dài Toán lớp 1 Kết nối tri thức](#)
2. [Giải Luyện tập trang 38, 39 - Thực hành ước lượng và đo độ dài Toán lớp 1 Kết nối tri thức](#)

***Giải Hoạt động trang 37 - Thực hành ước lượng và đo độ dài Toán lớp 1 Kết nối tri thức***

**Bài 1 trang 37 SGK Toán lớp 1 tập 2 : Số?**



Bảng dài khoảng 4 sải tay.

Đo chiều dài bảng của lớp em bằng sải tay.

Bảng lớp em dài khoảng ? sải tay

**Hướng dẫn giải**

Bảng lớp em dài khoảng 4 sải tay.

**Bài 2 trang 37 SGK Toán lớp 1 tập 2 : Số?**



Đo phòng học lớp em bằng bước chân.

Một chiều phòng học lớp em dài khoảng ? bước chân.

### Hướng dẫn giải

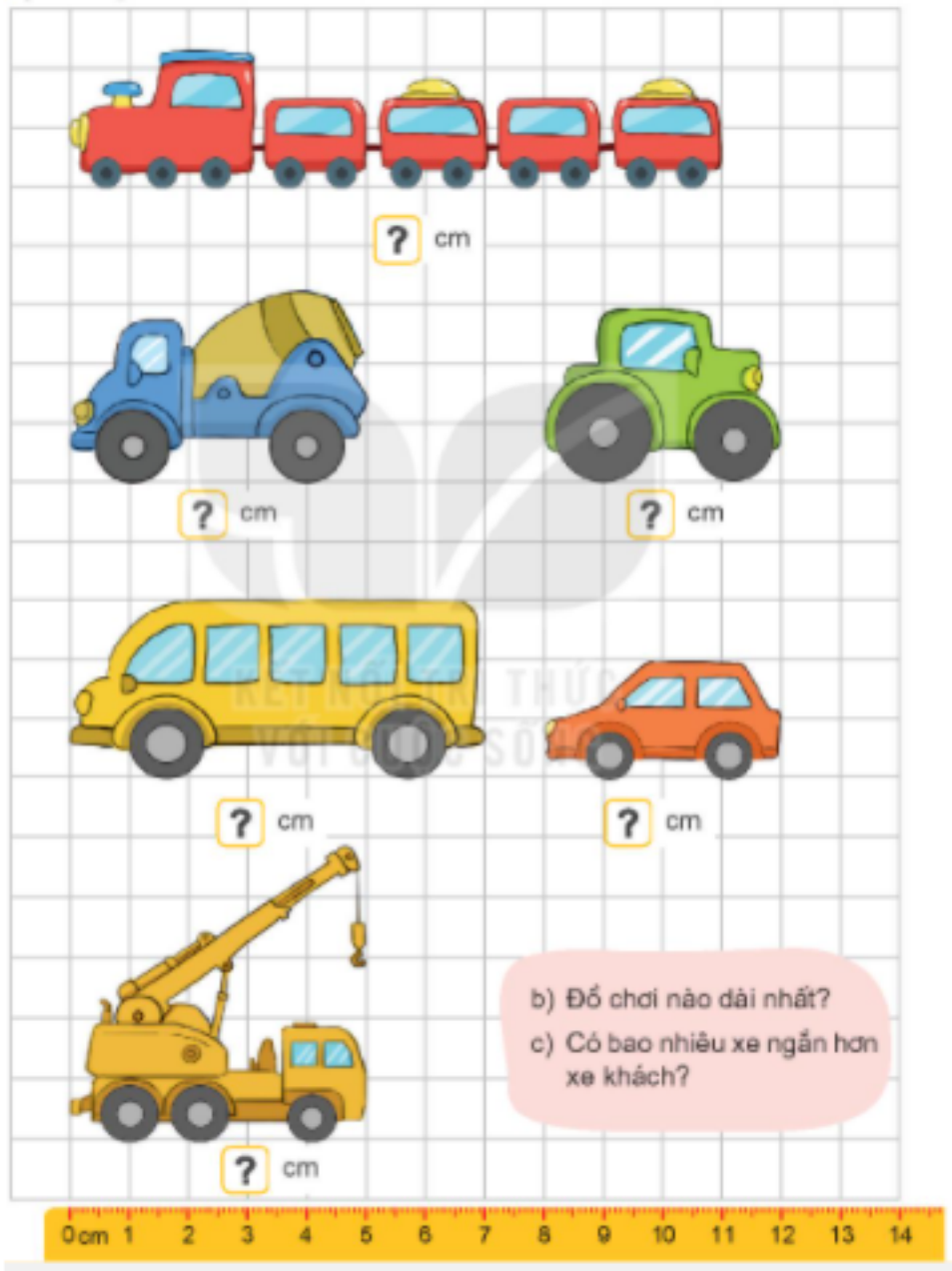
Học sinh đo chiều dài phòng học của lớp mình.

Một chiều phòng học lớp em dài khoảng 18 bước chân.

***Giải Luyện tập trang 38, 39 - Thực hành ước lượng và đo độ dài Toán lớp 1  
Kết nối tri thức***

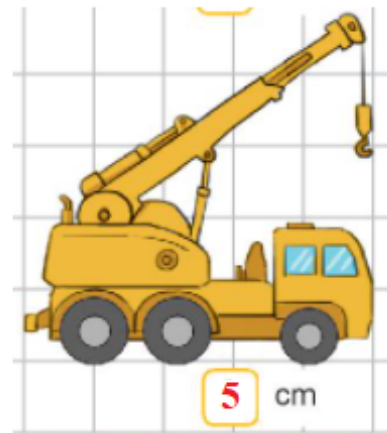
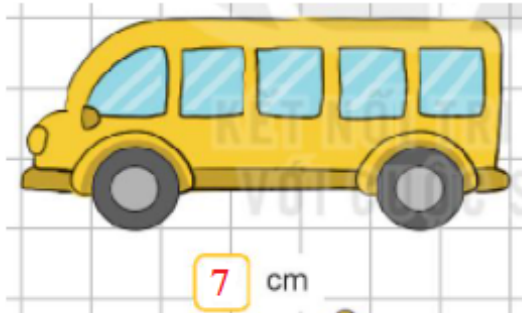
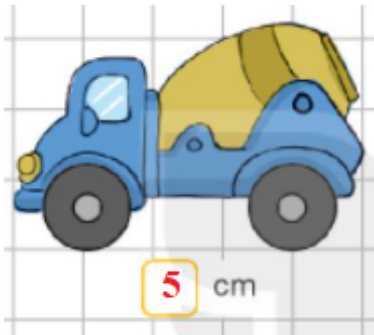
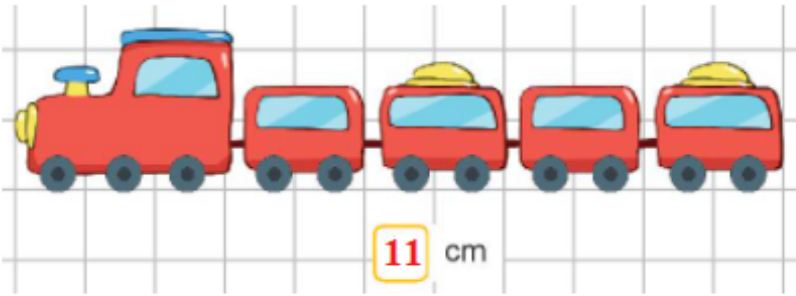
**Bài 1 trang 38 SGK Toán lớp 1 tập 2 :**

a) Nêu độ dài của mỗi đồ chơi.



**Hướng dẫn giải**

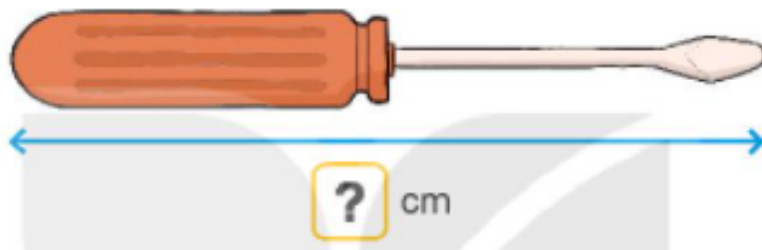
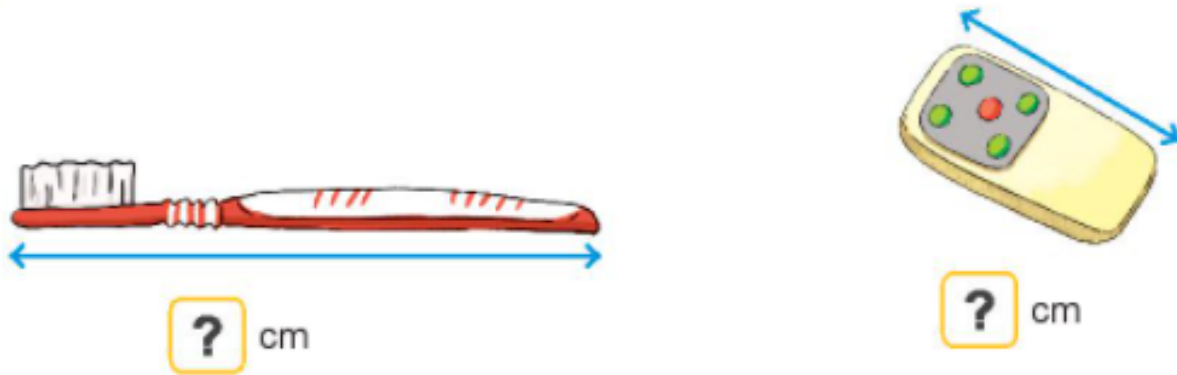
Quan sát hình vẽ:



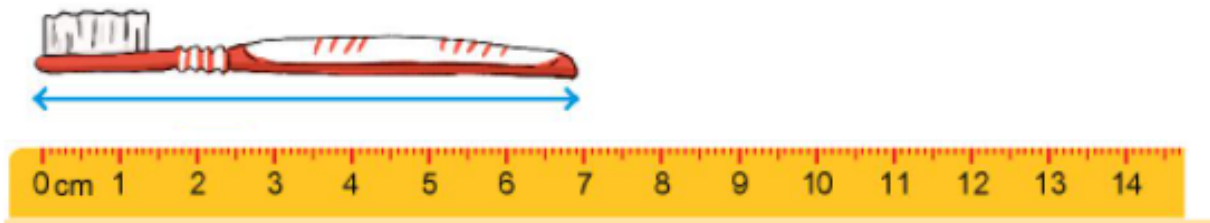
b) Tàu hỏa dài nhất.

c) Có 4 xe ngắn hơn xe khách.

**Bài 2 trang 39 SGK Toán lớp 1 tập 2 :** Đo độ dài các đồ vật. Đồ vật nào dài nhất?

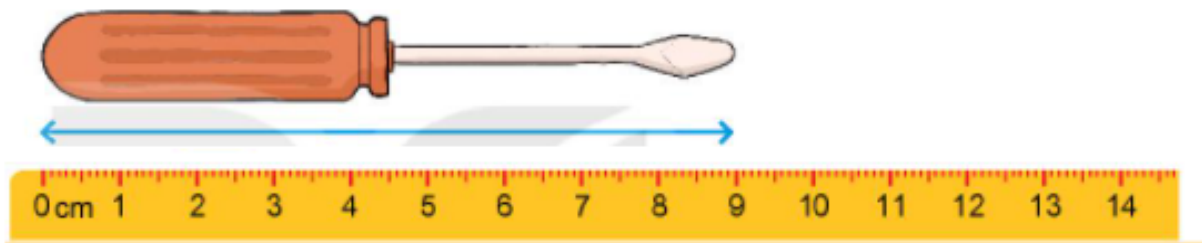


**Hướng dẫn giải**



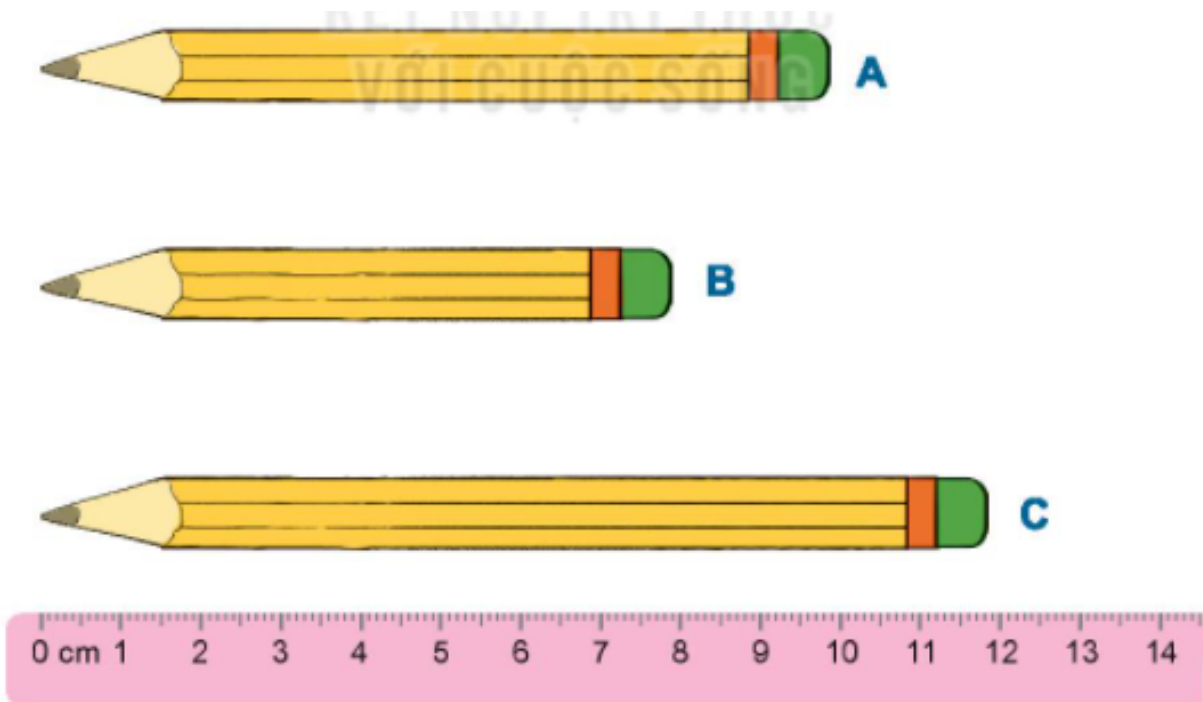
Bàn chải đánh răng dài 7cm.

\*) Điều khiển đi đều hòa dài 2cm.



Tô vít dài 9cm.

**Bài 3 trang 39 SGK Toán lớp 1 tập 2 : Bút chì nào dài hơn 8cm?**



### Hướng dẫn giải

Bút chì A dài 10cm.

Bút chì B dài 8cm.

Bút chì C dài 12cm.

Bút chì dài hơn 8cm là bút chì A và bút chì C.