

Nội dung bài viết

1. [Giải Hoạt động trang 34, 35 - Đơn vị đo độ dài Toán lớp 1 Kết nối tri thức](#)

Giải Hoạt động trang 34, 35 - Đơn vị đo độ dài Toán lớp 1 Kết nối tri thức

Bài 1 trang 34 SGK Toán lớp 1 tập 2 : Bạn nào đặt thước đo đúng?




Hướng dẫn giải

Đặt thước đo dọc theo độ dài vật cần đo, vạch số ngang với một đầu của vật.

Bạn Nam đặt thước đo đúng.

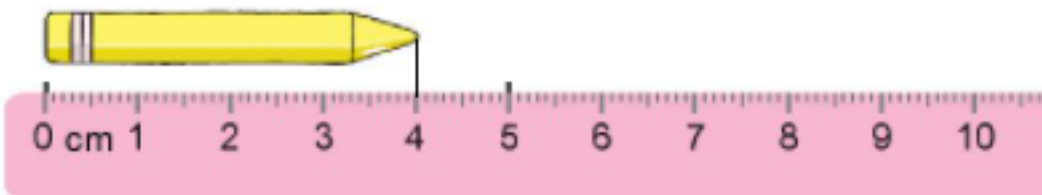

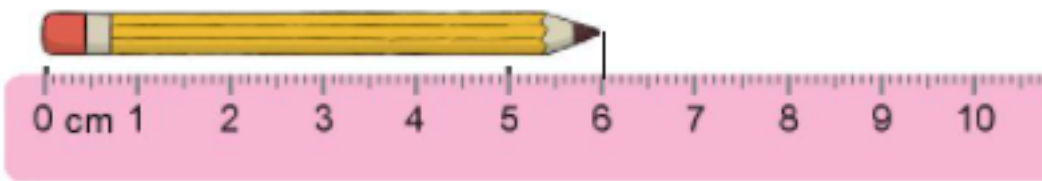
Bài 2 trang 34 SGK Toán lớp 1 tập 2 :

a) Đo độ dài mỗi cây bút.



b) Trong các cây bút trên, bút nào dài nhất, bút nào ngắn nhất?

Hướng dẫn giải



a)



6 cm



8 cm



4 cm

Vì $4\text{cm} < 6\text{cm} < 8\text{cm}$ nên bút máy dài nhất, bút màu ngắn nhất.

Bài 3 trang 35 SGK Toán lớp 1 tập 2 : Ước lượng độ dài mỗi cây bút rồi dùng thước có vạch chia xăng-ti-mét để đo đúng.



Ước lượng: cm

Đo độ dài: cm



Ước lượng: cm

Đo độ dài: cm



Ước lượng: cm

Đo độ dài: cm



Ước lượng: cm

Đo độ dài: cm

Hướng dẫn giải


a)



Ước lượng: cm

Đo độ dài: cm


b)



Ước lượng: cm

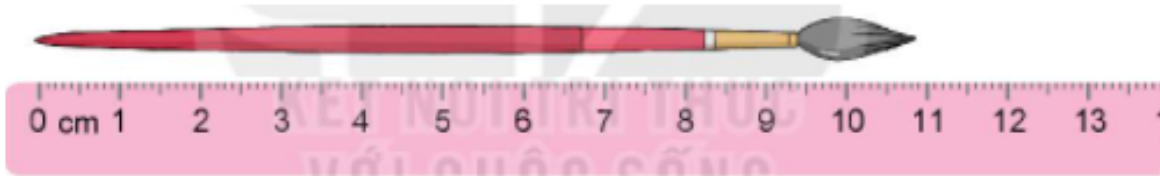
Đo độ dài: cm

c)



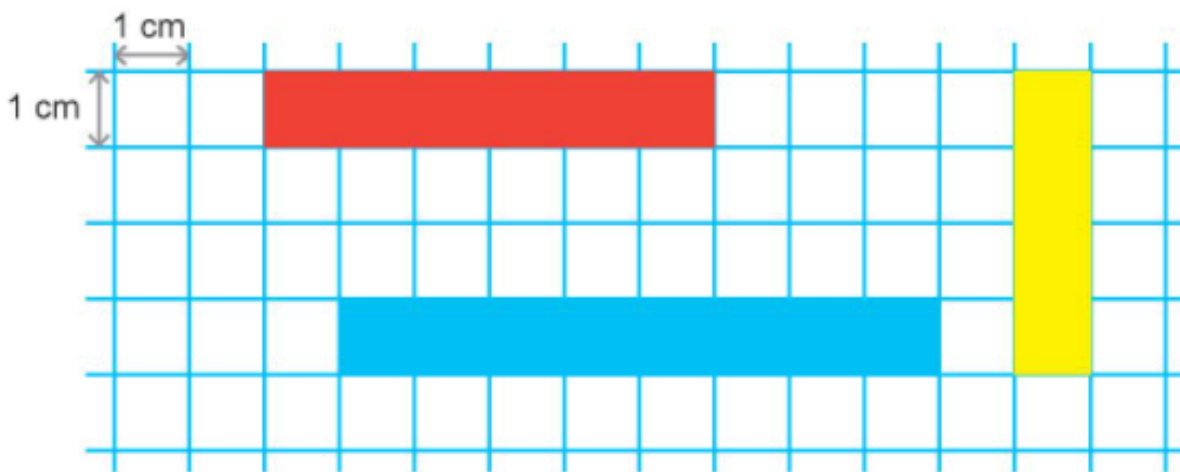
Ước lượng: **7** cm Đo độ dài: **7** cm

d)



Ước lượng: **11** cm Đo độ dài: **11** cm

Bài 4 trang 35 SGK Toán lớp 1 tập 2 : Mỗi băng giấy dài bao nhiêu xăng-ti-mét?



Hướng dẫn giải

Quan sát hình vẽ:

Băng giấy đỏ dài 6cm.

Băng giấy vàng dài 4cm.

Băng giấy xanh dài 8cm.