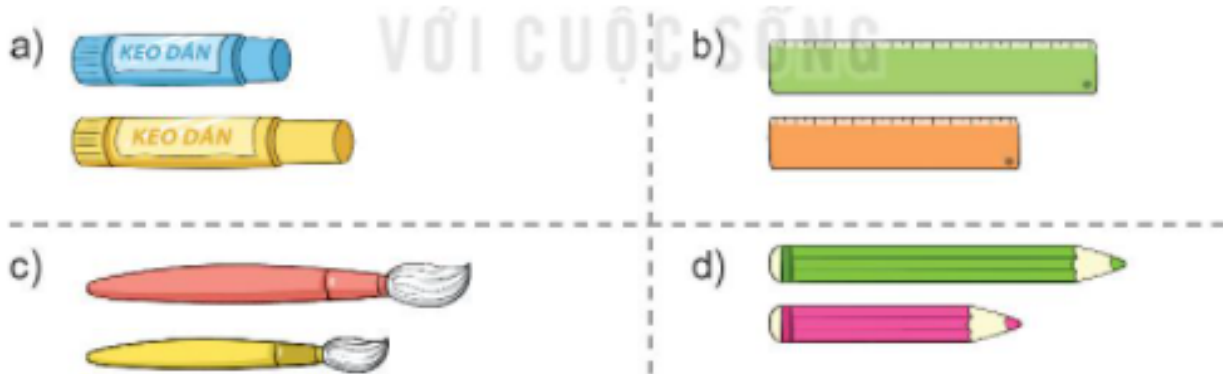


Nội dung bài viết

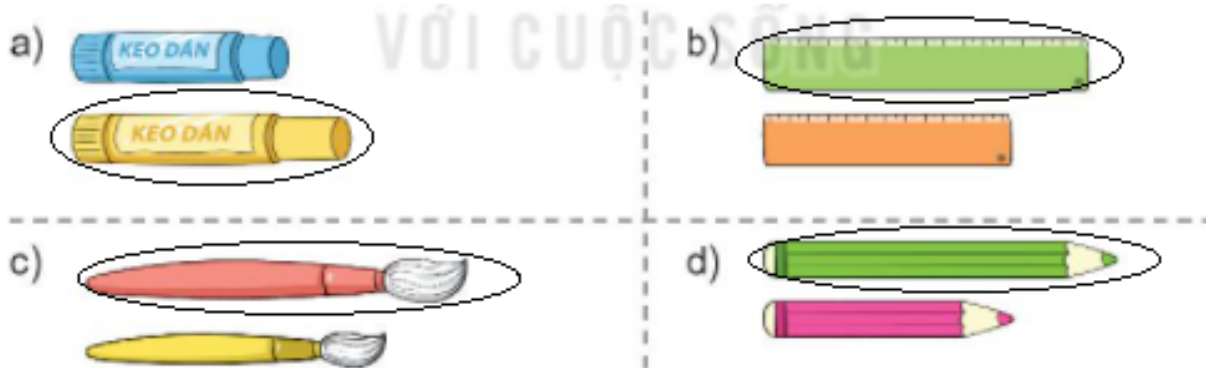
1. [Giải Hoạt động trang 28, 29 - Dài hơn, ngắn hơn Toán lớp 1 Kết nối tri thức](#)
2. [Giải Hoạt động trang 30, 31 - Dài hơn, ngắn hơn Toán lớp 1 Kết nối tri thức](#)

Giai Hoạt động trang 28, 29 - Dài hơn, ngắn hơn Toán lớp 1 Kết nối tri thức

Bài 1 trang 28 SGK Toán lớp 1 tập 2 :



Hướng dẫn giải



Bài 2 trang 28 SGK Toán lớp 1 tập 2 :



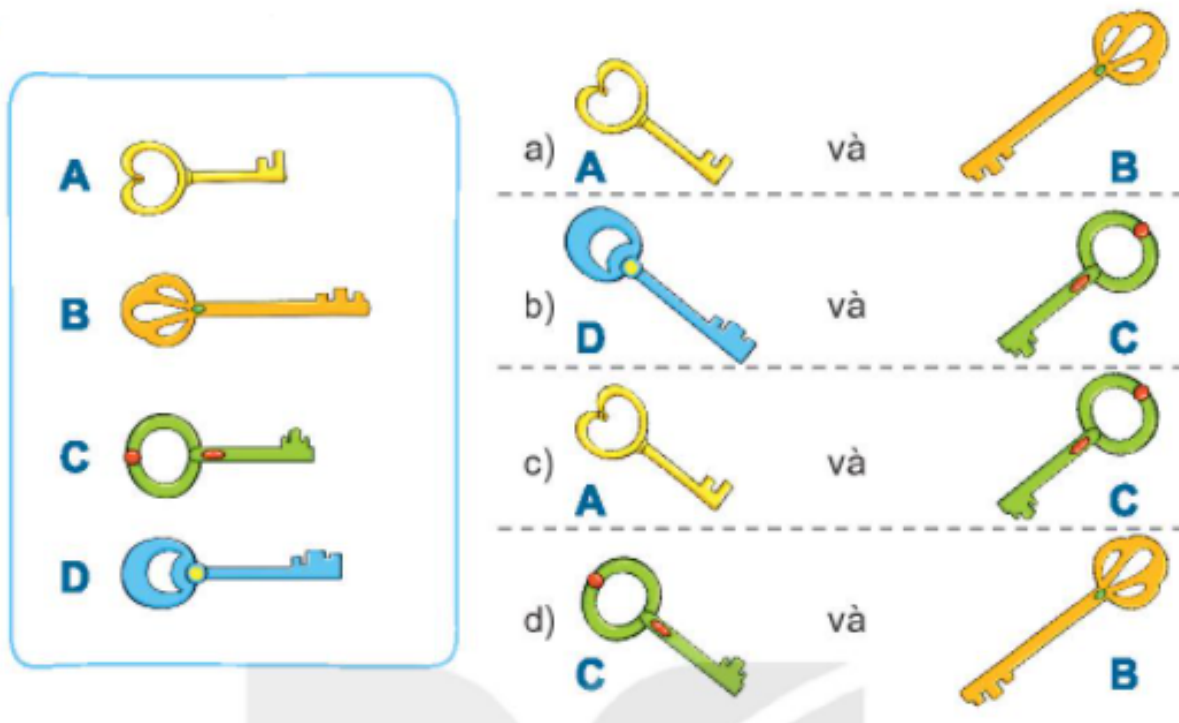
Con sâu nào ngắn hơn con sâu A?



Hướng dẫn giải

Con sâu C ngắn hơn con sâu A.

Bài 3 trang 29 SGK Toán lớp 1 tập 2 : So sánh dài hơn, ngắn hơn.



Hướng dẫn giải

a) Chìa khóa B dài hơn chìa khóa A.

Chìa khóa A ngắn hơn chìa khóa B.

b) Chìa khóa D dài hơn chìa khóa C.

Chìa khóa C ngắn hơn chìa khóa D.

c) Chìa khóa C dài hơn chìa khóa A.

Chìa khóa A ngắn hơn chìa khóa C.

d) Chìa khóa B dài hơn chìa khóa C.

Chìa khóa C ngắn hơn chìa khóa B.

Bài 4 trang 29 SGK Toán lớp 1 tập 2 : Con cá nào dài nhất? Con cá nào ngắn nhất?

a)

A



B



C



b)

A



B




C

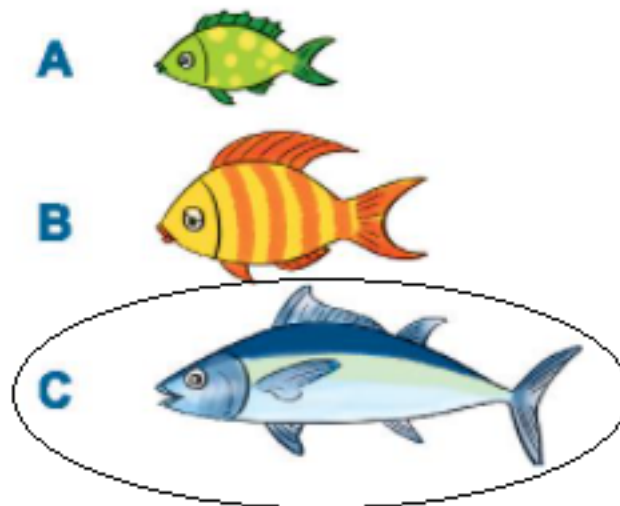


Hướng dẫn giải

a)




b)




Giải Hoạt động trang 30, 31 - Dài hơn, ngắn hơn Toán lớp 1 Kết nối tri thức

Bài 1 trang 30 SGK Toán lớp 1 tập 2 : Con vật nào cao hơn?

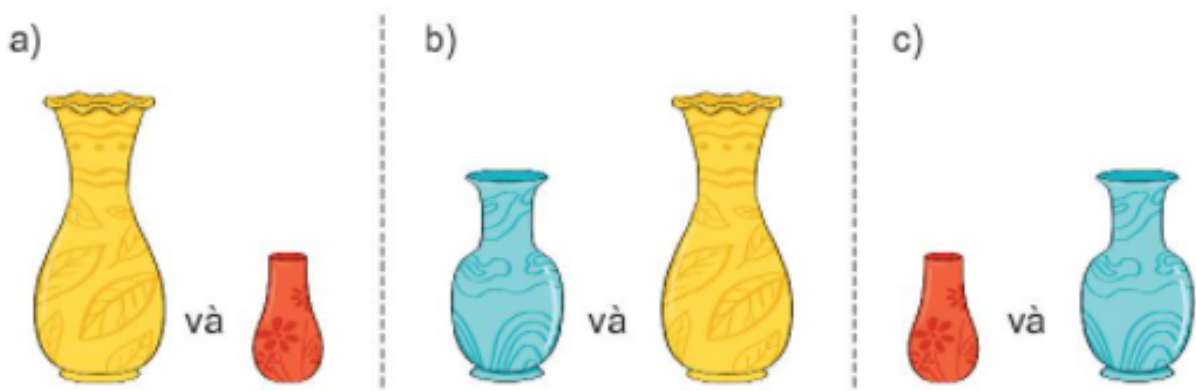


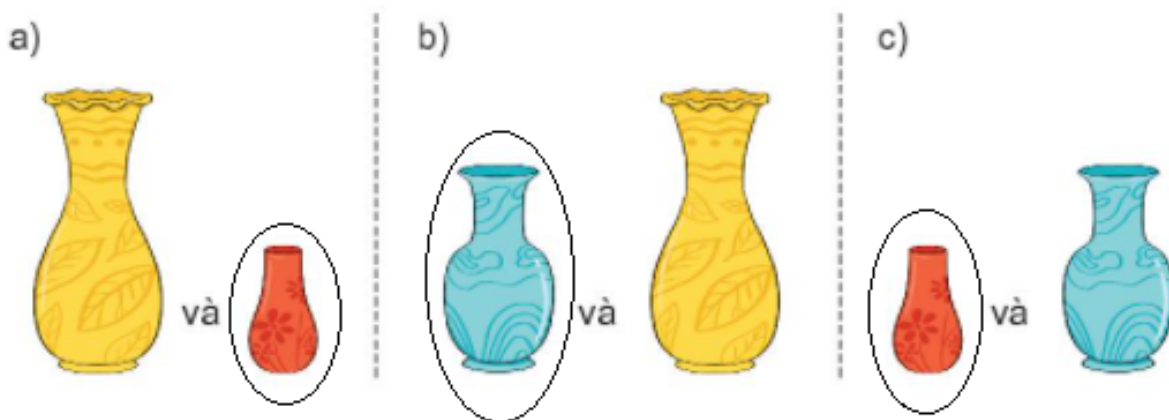
Hướng dẫn giải

Học sinh quan sát hình vẽ.




Bài 2 trang 30 SGK Toán lớp 1 tập 2 : Lọ hoa nào thấp hơn?



Hướng dẫn giải

Bài 3 trang 31 SGK Toán lớp 1 tập 2 : Tìm cây cao nhất, cây thấp nhất trong mỗi hàng.


a)



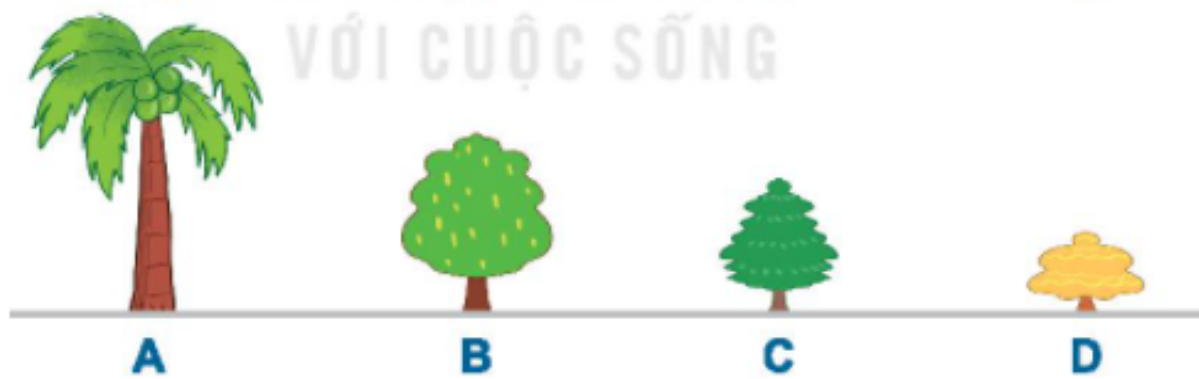
b)



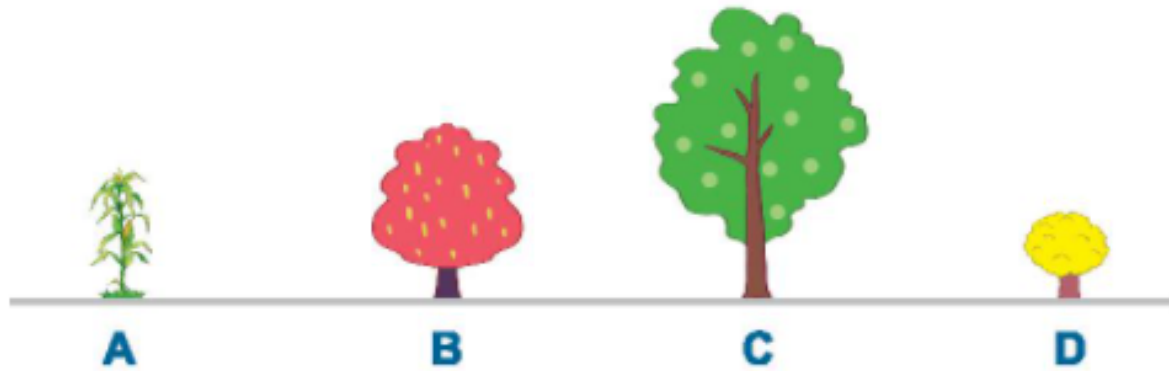
c)



d)



e)



Hướng dẫn giải

- a) Cây A thấp nhất; Cây D cao nhất
- b) Cây C thấp nhất; Cây A cao nhất
- c) Cây C thấp nhất; Cây A cao nhất
- d) Cây D thấp nhất; Cây A cao nhất
- e) Cây D thấp nhất; Cây C cao nhất