


Nội dung bài viết


1. [Giải Luyện tập trang 24, 25 - Luyện tập chung Toán lớp 1 Kết nối tri thức](#)
2. [Giải Luyện tập trang 26, 27 - Luyện tập chung Toán lớp 1 Kết nối tri thức](#)

***Giải Luyện tập trang 24, 25 - Luyện tập chung Toán lớp 1 Kết nối tri thức***


**Bài 1 trang 24 SGK Toán lớp 1 tập 2 : Số?**

a)  32 gồm 3 chục và 2 đơn vị.


---

b)  ? gồm ? chục và ? đơn vị.


---

c)  ? gồm ? chục và ? đơn vị.

**Hướng dẫn giải**

a)  32 gồm 3 chục và 2 đơn vị.

---

b)  44 gồm 4 chục và 4 đơn vị.

---

c)  61 gồm 6 chục và 1 đơn vị.

**Bài 2 trang 24 SGK Toán lớp 1 tập 2 : Số?**

KẾT NỐI TRI THỨC VỚI CUỘC SỐNG

a) Sáu mươi hai

b) Ba mươi chín

c) Một trăm

d) Số gồm 5 chục và 1 đơn vị

**Hướng dẫn giải**

KẾT NỐI TRI THỨC VỚI CUỘC SỐNG

a) Sáu mươi hai

b) Ba mươi chín

c) Một trăm

d) Số gồm 5 chục và 1 đơn vị

**Bài 3 trang 24 SGK Toán lớp 1 tập 2 :** Tìm số thích hợp với mỗi ngôi sao.

11 12 13 14 15 16 17 18 19 20

Mười hai      Mười bốn      Mười một      Mười lăm      Mười chín

**Hướng dẫn giải**

Mười hai: 12

Mười hai: 14

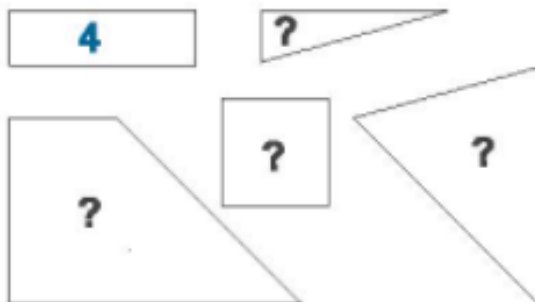
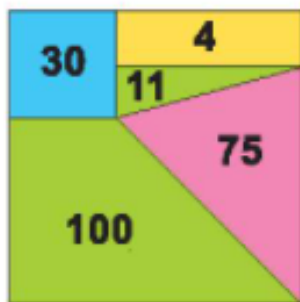
Mười một: 11

Mười lăm: 15

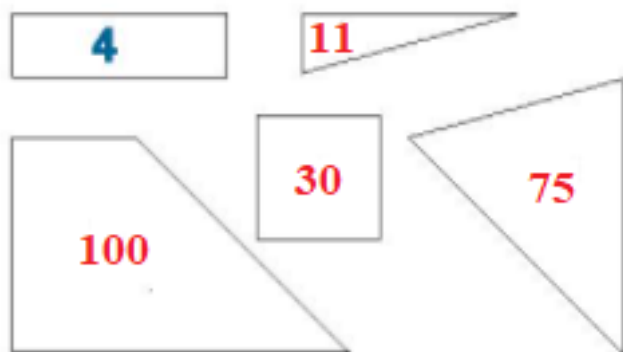
Mười chín: 19



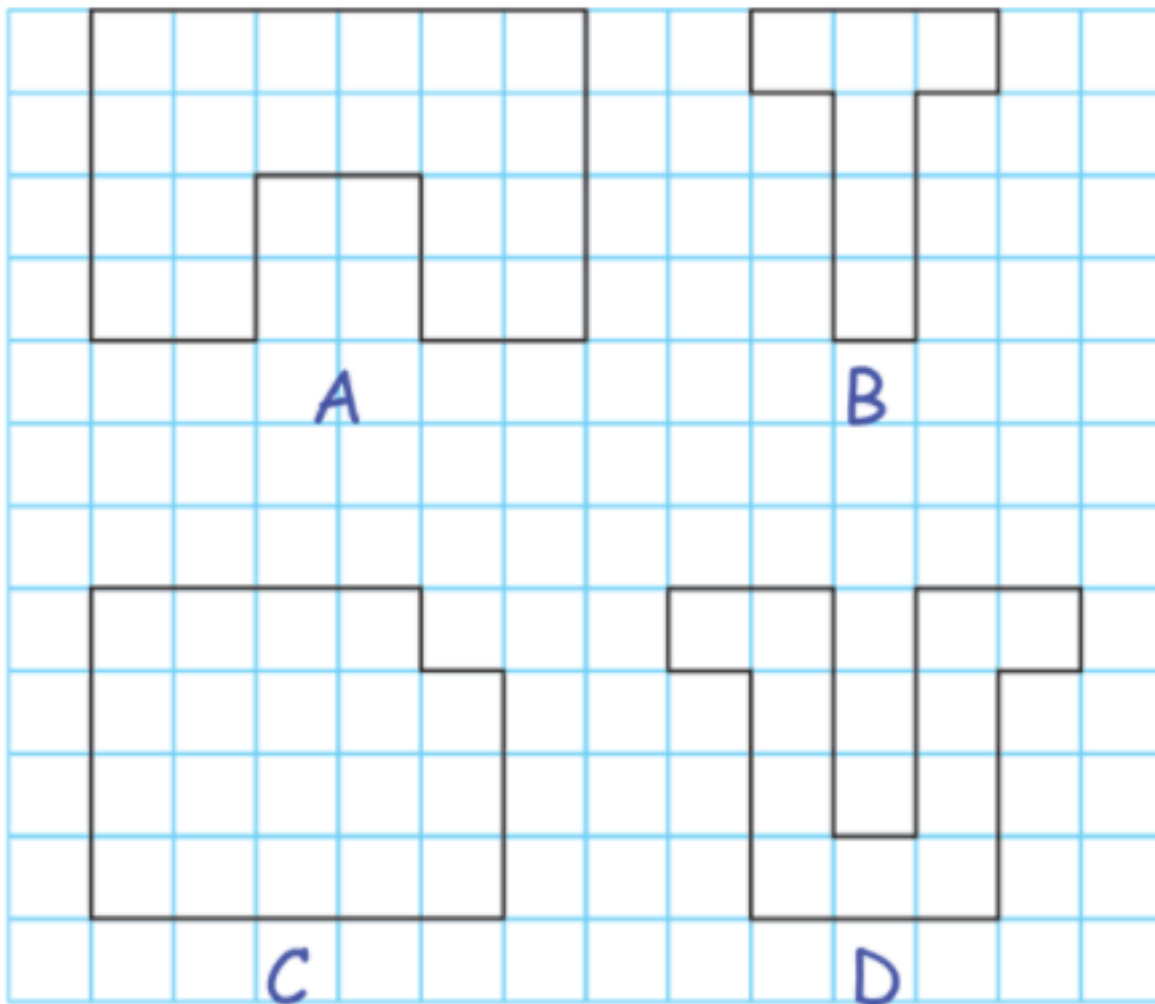
**Bài 4 trang 25 SGK Toán lớp 1 tập 2 :** Em hãy giúp Việt tìm số thích hợp cho mỗi mảnh ghép (theo mẫu).



**Hướng dẫn giải**



**Bài 5 trang 25 SGK Toán lớp 1 tập 2 :**



- a) Hình nào có 19 ô vuông?
- b) Hình nào có ít ô vuông nhất?

**Hướng dẫn giải**

Quan sát hình vẽ, em đếm được:

Hình A có 20 ô vuông.

Hình B có 6 ô vuông.

Hình C có 19 ô vuông.

Hình D có 11 ô vuông.

*Giải Luyện tập trang 26, 27 - Luyện tập chung Toán lớp 1 Kết nối tri thức*

**Bài 1 trang 26 SGK Toán lớp 1 tập 2 : Số?**

a) 

---

b) 

---

c) 

---

d) 

**Hướng dẫn giải**

a) 

---

b) 

---

c) 

---

d) 

**Bài 2 trang 26 SGK Toán lớp 1 tập 2 :**

a) Tìm số lớn hơn trong mỗi cặp.



b) Tìm số bé hơn trong mỗi cặp.



**Hướng dẫn giải**

a)



b)



**Bài 3 trang 26 SGK Toán lớp 1 tập 2 :** Tìm số lớn nhất, số bé nhất trong các số sau:

31, 35, 40

**Hướng dẫn giải**

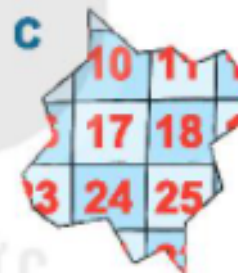
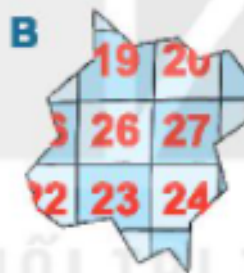


So sánh ba số 31, 35, 40:  $31 < 35 < 40$

Số bé nhất là 31.

Số lớn nhất là 40.

**Bài 4 trang 27 SGK Toán lớp 1 tập 2 :** Chú mèo nghịch ngợm làm rách rèm. Tìm miếng rèm bị rách đó.




**Hướng dẫn giải**

Các số được viết theo thứ tự từ 1 đến 49.

Chọn C.

**Bài 5 trang 27 SGK Toán lớp 1 tập 2 :** Em hãy giúp các bạn côn trùng lập các số có hai chữ số bằng cách sử dụng các tấm thẻ trên bàn.

**Hướng dẫn giải**

Chọn hàng chục là 8 ta được các số có hai chữ số là: 83; 87

Chọn hàng chục là 3 ta được các số có hai chữ số là: 37; 38

Chọn hàng chục là 7 ta được các số có hai chữ số là: 78; 73

Vậy ta lập được các số có hai chữ số: 83; 87; 37; 38; 78; 73