


Nội dung bài viết

1. [Giải Hoạt động trang 16, 17 - So sánh số có hai chữ số Toán lớp 1 Kết nối tri thức](#)
2. [Giải Luyện tập trang 18 - So sánh số có hai chữ số Toán lớp 1 Kết nối tri thức](#)
3. [Giải Luyện tập trang 20, 21 - So sánh số có hai chữ số Toán lớp 1 Kết nối tri thức](#)

Giải Hoạt động trang 16, 17 - So sánh số có hai chữ số Toán lớp 1 Kết nối tri thức

Bài 1 trang 16 SGK Toán lớp 1 tập 2 : So sánh (theo mẫu):

	$13 < 16$	
	?	
	?	
	?	

Hướng dẫn giải

	$13 < 16$	
	$25 > 15$	
	$14 < 16$	
	$20 = 20$	

Bài 2 trang 17 SGK Toán lớp 1 tập 2 : Túi nào có số lớn hơn?

a)



b)



c)



Hướng dẫn giải

a)



b)



c)



Bài 3 trang 17 SGK Toán lớp 1 tập 2 : Điền dấu $>$, $<$, $=$ vào chỗ chấm:

24 ... 19
 56 ... 65
 35 ... 37
 90 ... 89
 68 ... 68
 71 ... 81

Hướng dẫn giải


24 > 19
 56 < 65
 35 < 37
 90 > 89
 68 = 68
 71 < 81

Bài 4 trang 17 SGK Toán lớp 1 tập 2 :

a) Chiếc lọ nào có số lớn nhất?



b) Chiếc lọ nào có số bé nhất?



Hướng dẫn giải

a) Chiếc lọ nào có số lớn nhất?



b) Chiếc lọ nào có số bé nhất?



Giải Luyện tập trang 18 - So sánh số có hai chữ số Toán lớp 1 Kết nối tri thức

Bài 1 trang 18 SGK Toán lớp 1 tập 2 : Số nào lớn hơn trong mỗi cặp?



Hướng dẫn giải



Bài 2 trang 18 SGK Toán lớp 1 tập 2 : Số nào bé hơn trong mỗi cặp?



Hướng dẫn giải



Bài 3 trang 18 SGK Toán lớp 1 tập 2 : Đổi chỗ hai chiếc xe để các số trên xe sắp xếp theo thứ tự từ bé đến lớn.



Hướng dẫn giải

a) Sắp xếp ba số trên xe 80; 30; 90 theo thứ tự từ bé đến lớn: 30; 80; 90


Vậy đổi vị trí hai xe có số 30 và 80.

b) Sắp xếp ba số trên xe 47; 74; 70 theo thứ từ bé đến lớn: 47; 70; 74



Vậy đổi vị trí hai xe có số 70 và 74.

Giải Luyện tập trang 20, 21 - So sánh số có hai chữ số Toán lớp 1 Kết nối tri thức

Bài 1 trang 20 SGK Toán lớp 1 tập 2 : Đ, S?

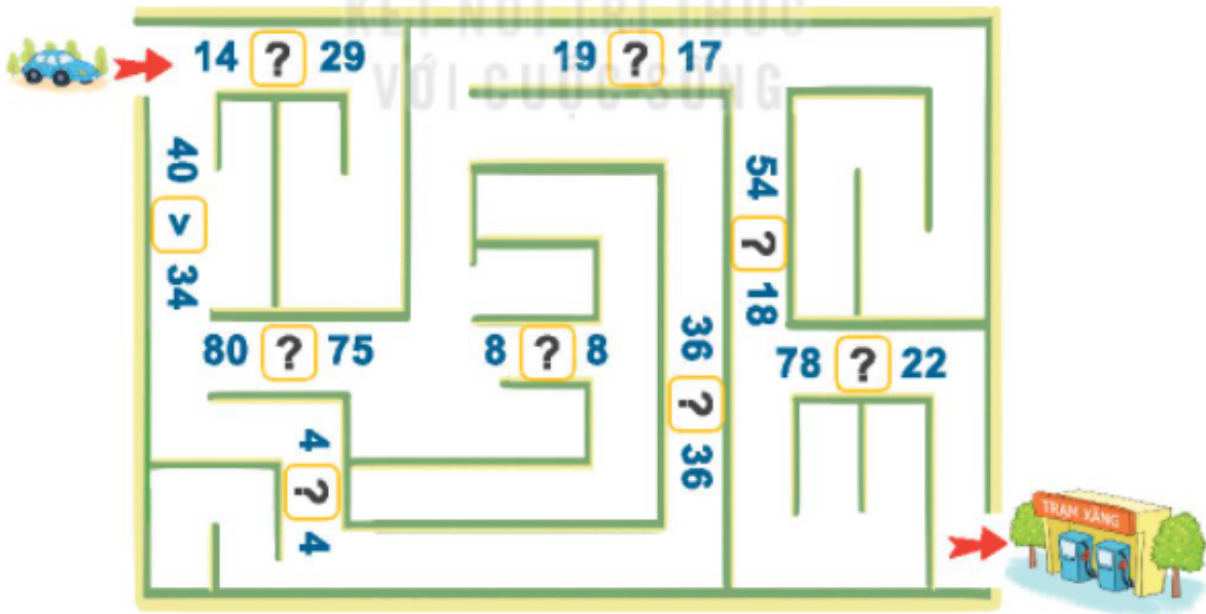


Hướng dẫn giải



Bài 2 trang 20 SGK Toán lớp 1 tập 2 : Điền dấu >, <, = vào ô trống:

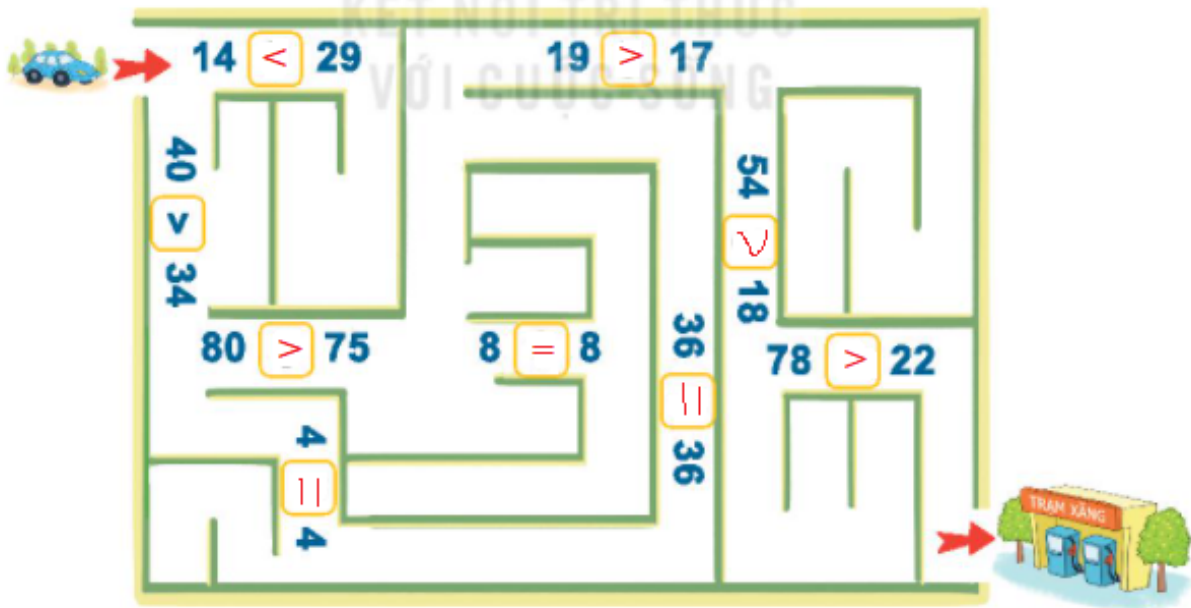
a)



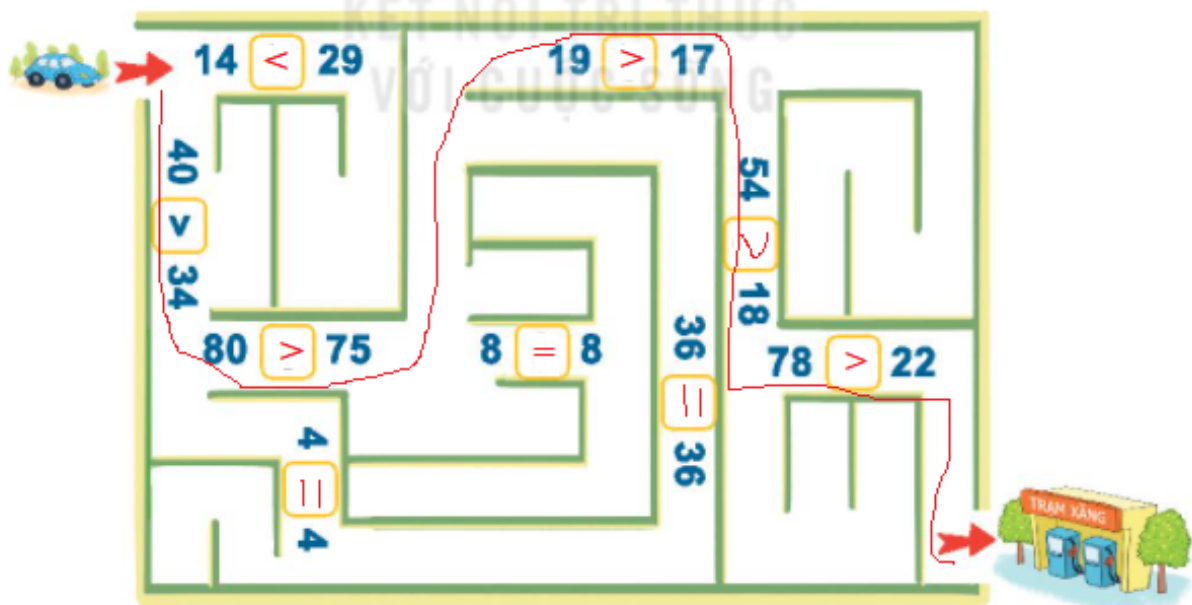
b) Tìm đường xe đi đến trạm xăng.

Hướng dẫn giải

a)



b)



Bài 3 trang 21 SGK Toán lớp 1 tập 2 : Lớp 1A có 33 học sinh, lớp 1B có 30 học sinh, lớp 1C có 35 học sinh. Hỏi:

- a) Lớp 1A và lớp 1B, lớp nào có nhiều học sinh hơn?
- b) Lớp 1B và lớp 1C, lớp nào có ít học sinh hơn?
- c) Lớp nào có nhiều học sinh nhất?
- d) Lớp nào có ít học sinh nhất?

Hướng dẫn giải

Lớp 1A có 33 học sinh.

Lớp 1B có 30 học sinh.

Lớp 1C có 35 học sinh.

a) Vì $33 > 30$ nên lớp 1A có nhiều học sinh hơn lớp 1B.

b) Vì $30 < 35$ nên lớp 1B có ít học sinh hơn lớp 1C.

Vì $30 < 33 < 35$ nên lớp 1C có nhiều học sinh nhất, lớp 1B có ít học sinh nhất.