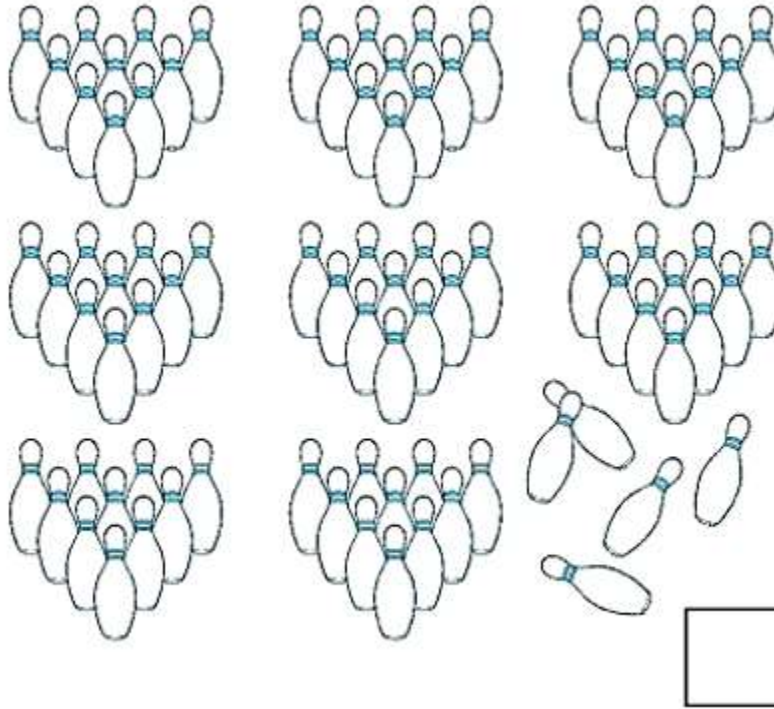


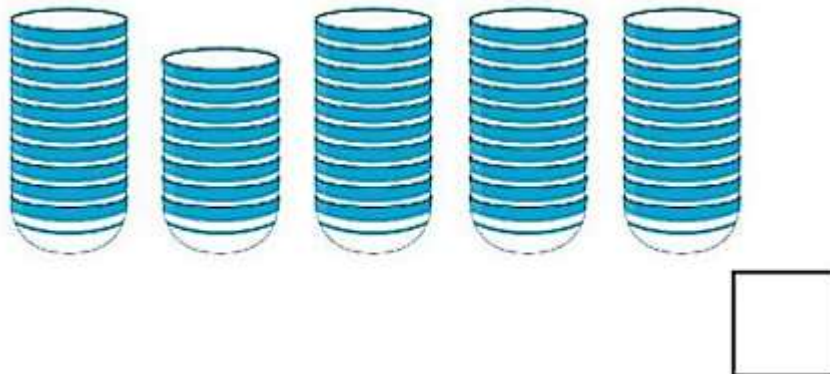
Giải vở bài tập Toán 1: Các số đến 100 - Chân Trời Sáng Tạo

Bài 1 (trang 37 vở bài tập Toán lớp 1 Tập 2): Đếm rồi viết số vào ô trống

a)



b)




Lời giải

a) Viết số 85.

b) Viết số 48.

Bài 2 (trang 38 vở bài tập Toán lớp 1 Tập 2): Số ?



Lời giải

Viết số 92.

Bài 3 (trang 39 vở bài tập Toán lớp 1 Tập 2): Có bao nhiêu món đồ?




Lời giải


Điền số 45

Bài 4 (trang 40 vở bài tập Toán lớp 1 Tập 2): Mỗi bảng sau gồm 100 ô vuông

a) Tô màu 39 ô vuông.



b) Tô màu 61 ô vuông.



Lời giải

Em đếm số ô vuông và tự tô màu.

Bài 5 (trang 41 vở bài tập Toán lớp 1 Tập 2): Viết (theo mẫu):

chục	đơn vị
8	7

87 = 80 + 7


chục	đơn vị
.....

.....

chục	đơn vị
.....

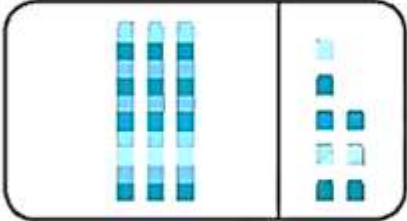
.....

Lời giải



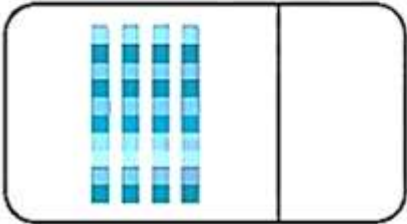
chục	đơn vị
8	7

$87 = 80 + 7$



chục	đơn vị
3	8

$38 = 30 + 8$



chục	đơn vị
4	0

$40 = 40 + 0$

Bài 6 (trang 41 vở bài tập Toán lớp 1 Tập 2): Viết theo mẫu:

71 gồm 7 chục và 1 đơn vị
 $71 = 70 + 1$

59 gồm và
 $59 =$

26 gồm và
 $26 =$

90 gồm và
 $90 =$

Lời giải

71 gồm 7 chục và 1 đơn vị $71 = 70 + 1$	59 gồm 5 chục và 9 đơn vị $59 = 50 + 9$
26 gồm 2 chục và 6 đơn vị $26 = 20 + 6$	90 gồm 9 chục và 0 đơn vị $90 = 90 + 0$

Bài 7 (trang 42 vở bài tập Toán lớp 1 Tập 2): Tính:

- a) $60 + 8 = \dots\dots\dots$ $68 - 8 = \dots\dots\dots$ $89 - 7 = \dots\dots\dots$
 $40 + 50 = \dots\dots\dots$ $90 - 50 = \dots\dots\dots$ $3 + 61 = \dots\dots\dots$
 $72 + 4 = \dots\dots\dots$ $76 - 4 = \dots\dots\dots$ $10 + 80 = \dots\dots\dots$
- b) $58 - 5 - 3 = \dots\dots\dots$
 $82 + 7 - 9 = \dots\dots\dots$

Lời giải

- a) $60 + 8 = 68$ $68 - 8 = 60$ $89 - 7 = 82$
 $40 + 50 = 90$ $90 - 50 = 40$ $3 + 61 = 64$
 $72 + 4 = 76$ $76 - 4 = 72$ $10 + 80 = 90$
- b) $58 - 5 - 3 = 55 - 3 = 52$
 $82 + 7 - 9 = 89 - 9 = 80$

Bài 8 (trang 42 vở bài tập Toán lớp 1 Tập 2)Viết số vào ô trống:

- $50 + \square = 70$ $46 - \square = 41$
 $\square - 10 = 50$ $\square + 7 = 89$

Lời giải

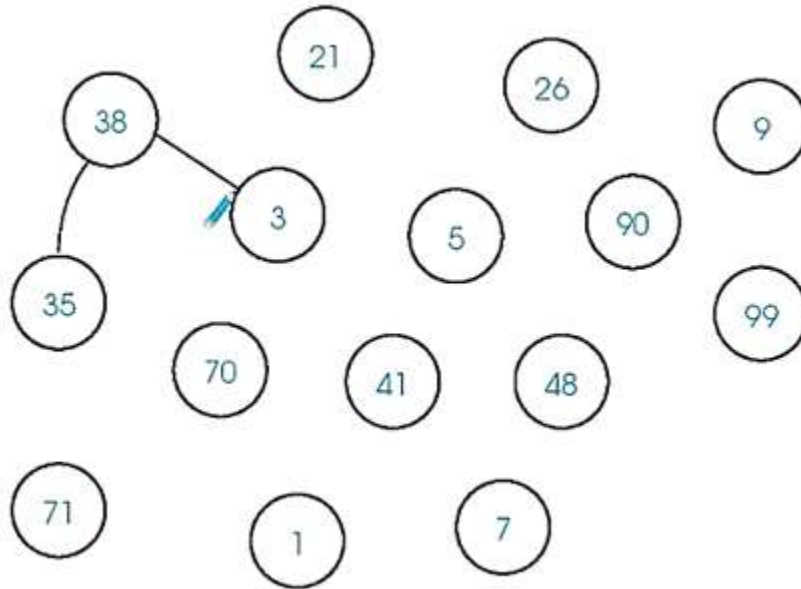
$$50 + \boxed{20} = 70$$

$$46 - \boxed{5} = 41$$

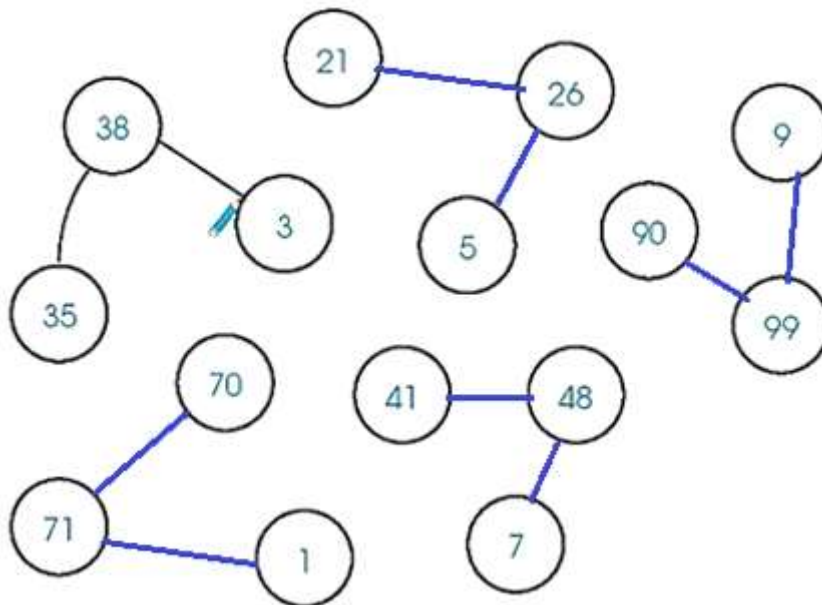
$$\boxed{60} - 10 = 50$$

$$\boxed{82} + 7 = 89$$

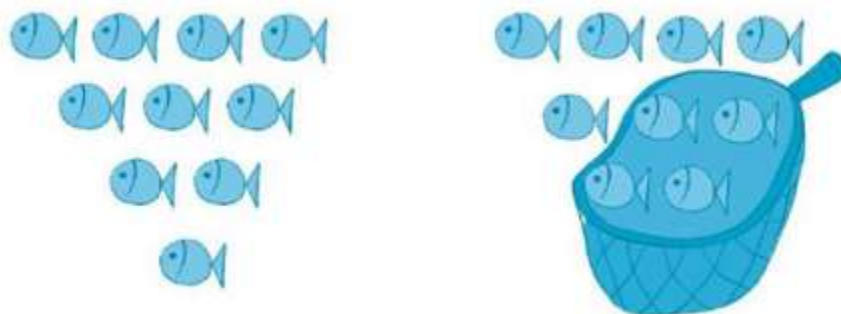
Bài 9 (trang 42 vở bài tập Toán lớp 1 Tập 2): Nối các số để có sơ đồ tách – gộp số:




Lời giải



Bài 10 (trang 43 vở bài tập Toán lớp 1 Tập 2): Dưới đây là tranh thể hiện phép tính $19 - 4 = 15$.



Em hãy khoanh nhóm để thể hiện phép tính $37 - 5 = 32$.



Lời giải

