

Giải vở bài tập Toán 1: Các số đến 40 - Chân Trời Sáng Tạo

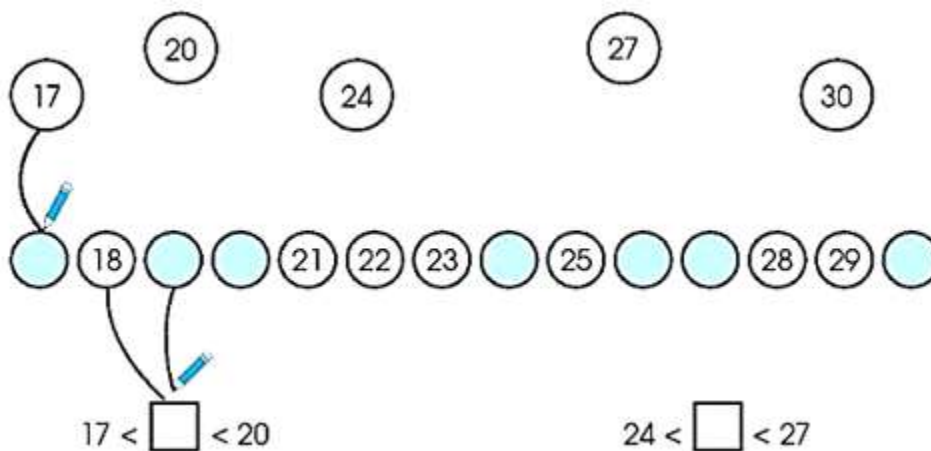
Bài 1 (trang 29 vở bài tập Toán lớp 1 Tập 2): Viết vào chỗ chấm:

Viết số	Đọc số	Viết số	Đọc số
1	Một	4
11	Mười bốn
.....	Hai mươi mốt	24	Hai mươi bốn
31		Hai mươi tư
5	34
.....	Mười lăm	
25	Hai mươi hai
.....	Ba mươi lăm	Bốn mươi

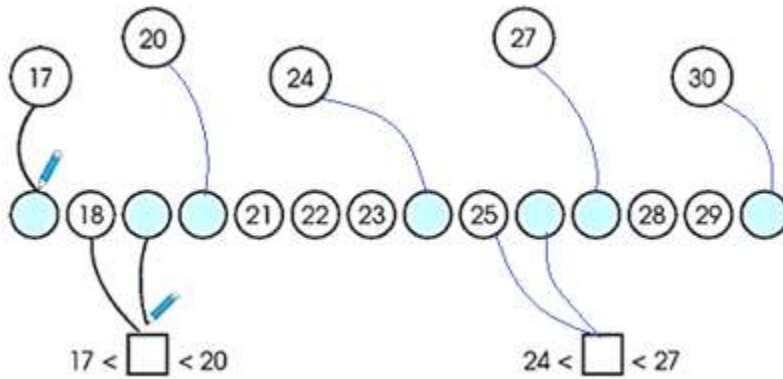
Lời giải

Viết số	Đọc số	Viết số	Đọc số
1	Một	4	Bốn
11	Mười một	14	Mười bốn
21	Hai mươi mốt	24	Hai mươi bốn
31	Ba mươi mốt		Hai mươi tư
5	Năm	34	Ba mươi bốn
15	Mười lăm		Ba mươi tư
25	Hai mươi lăm	22	Hai mươi hai
35	Ba mươi lăm	40	Bốn mươi

Bài 2 (trang 29 vở bài tập Toán lớp 1 Tập 2): Nói (theo mẫu):



Lời giải



Bài 3 (trang 30 vở bài tập Toán lớp 1 Tập 2): Mèo đi đường nào để tìm chuột. Muốn biết, em tìm cách nối lần lượt các số từ 11 đến 40.



Lời giải

Em nối các số theo thứ tự 1 – 40 để tìm được đường đi nhé.

Bài 4 (trang 31 vở bài tập Toán lớp 1 Tập 2): Đếm rồi viết số vào ô trống

a) Có bao nhiêu cái tai thỏ?



b) Có bao nhiêu viên kem?



c) Có bao nhiêu quyển sách?



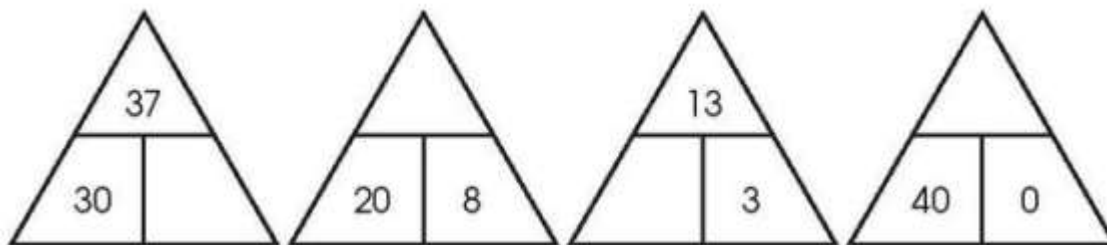
Lời giải

a) Điền số 22

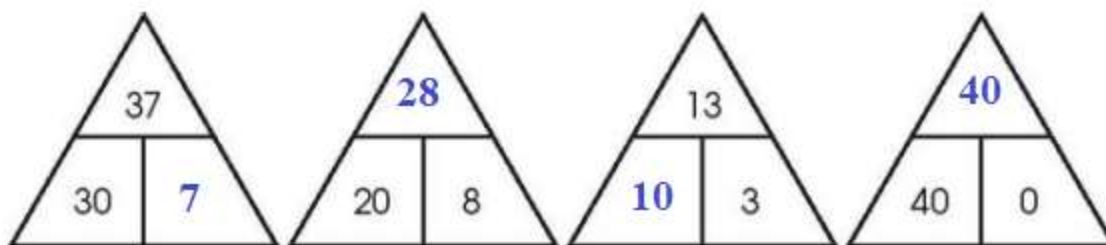
b) Điền số 38

c) Điền số 40

Bài 5 (trang 31 vở bài tập Toán lớp 1 Tập 2): Viết số vào sơ đồ tách – gộp số.



Lời giải



Bài 6 (trang 32 vở bài tập Toán lớp 1 Tập 2): Vẽ thêm đủ số lượng. Viết số vào chỗ chấm

a)

b)

29

..... + =

..... - =

Lời giải

a)

34

30 4


$30 + 4 = 34$

$34 - 4 = 30$

b)

29

Chân trời sáng tạo



29	
20	9

$$\begin{array}{r} 20 + 9 = 29 \\ 29 - 9 = 20 \end{array}$$