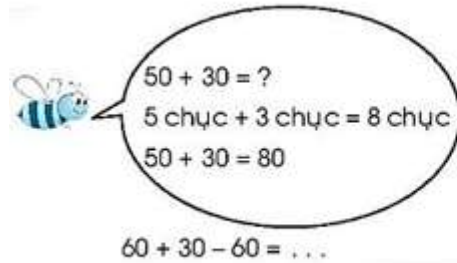


Giải vở bài tập Toán 1: Các phép tính dạng $30 + 20$, $50 - 20$ - Chân Trời Sáng Tạo

Bài 1 (trang 26 vở bài tập Toán lớp 1 Tập 2): Tính nhẩm



$70 + 20 = \dots\dots\dots$

$60 - 30 = \dots\dots\dots$

$80 - 50 = \dots\dots\dots$

$20 + 40 = \dots\dots\dots$

$90 - 70 - 20 = \dots\dots\dots$

Lời giải

$70 + 20 = 90$

$60 - 30 = 30$

$80 - 50 = 30$

$20 + 40 = 60$

$90 - 70 - 20 = 20 - 20 = 0$

Bài 2 (trang 26 vở bài tập Toán lớp 1 Tập 2): Viết vào chỗ chấm:

$40 + \dots\dots\dots = 70$

$50 = 30 + \dots\dots\dots$

$\dots\dots\dots + 40 = 70$

$10 = 60 - \dots\dots\dots$

$70 - \dots\dots\dots = 40$

$40 = \dots\dots\dots - 50$

$70 - \dots\dots\dots = 30$

$100 = \dots\dots\dots + 20$

Lời giải

$40 + 30 = 70$

$50 = 30 + 20$

$30 + 40 = 70$

$10 = 60 - 50$

$70 - 30 = 40$

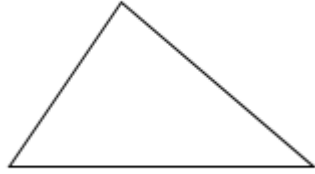
$40 = 90 - 50$

$70 - 40 = 30$

$100 = 80 + 20$

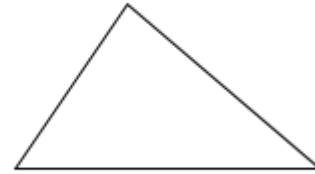
Bài 3 (trang 26 vở bài tập Toán lớp 1 Tập 2): Kẻ thêm một vạch vào mỗi hình để có:

a)



2 hình tam giác

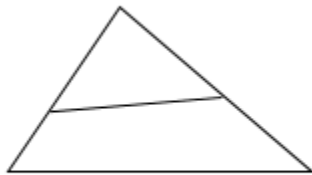
b)



3 hình tam giác

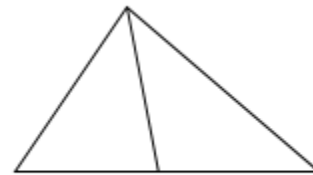
Lời giải

a)



2 hình tam giác

b)



3 hình tam giác

Bài 4 (trang 23 vở bài tập Toán lớp 1 Tập 2): Viết phép tính phù hợp

.....



Lời giải

$14 + 5 = 19$ hoặc $19 - 5 = 14$