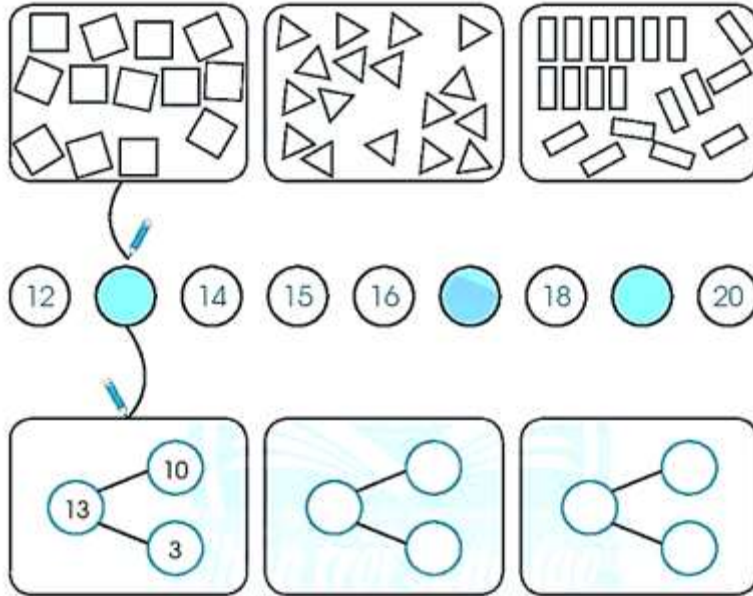


Giải vở bài tập Toán 1: Em làm được những gì? - Chân Trời Sáng Tạo

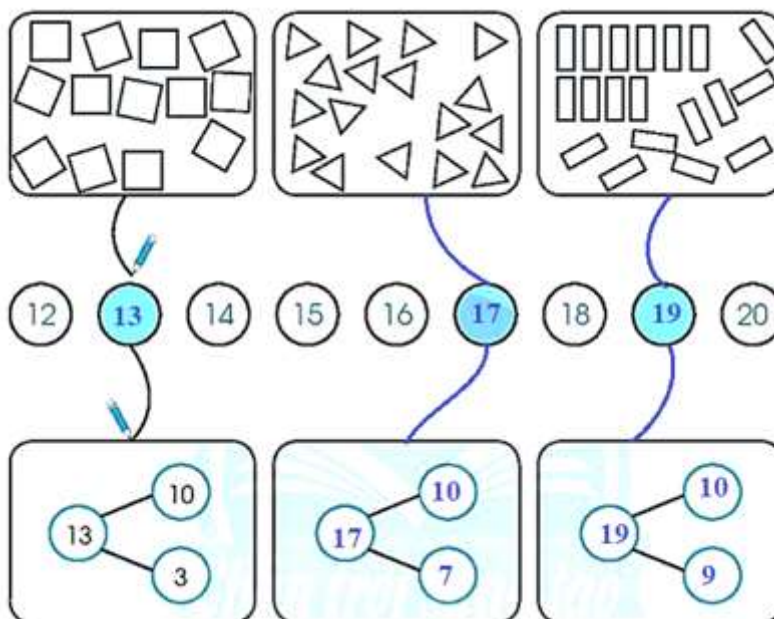
Bài 1 (trang 16 vở bài tập Toán lớp 1 Tập 2): Làm theo mẫu



$10 + 3 = 13$... + ... = + ... = ...

$13 - 3 = 10$... - ... = - ... = ...

Lời giải



$10 + 3 = 13$ $10 + 7 = 17$ $10 + 9 = 19$

$13 - 3 = 10$ $17 - 7 = 10$ $19 - 9 = 10$

Bài 2 (trang 16 vở bài tập Toán lớp 1 Tập 2): Nói:

$16 < \square$ •

- $15 + 2$
- $19 - 1$
- $16 + 0$
- 20

Lời giải

$15 + 2 = 17$

$19 - 1 = 18$

$16 + 0 = 16$

$16 < \square$

- $15 + 2$
- $19 - 1$
- $16 + 0$
- 20

Bài 3 (trang 17 vở bài tập Toán lớp 1 Tập 2): Viết vào chỗ chấm (theo mẫu):


Mẫu:



Em đến trường lúc 7 giờ sáng.



Em ngủ lúc ... giờ ...



Em ra về lúc ... giờ ...



Em ăn cơm lúc ... giờ ...

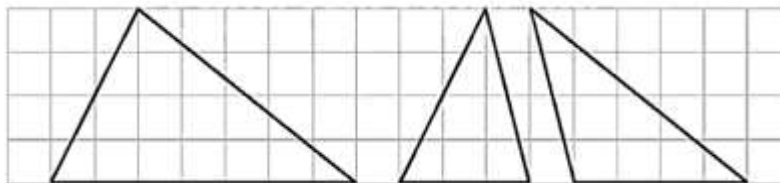
Lời giải

Em ra về lúc 4 giờ chiều.

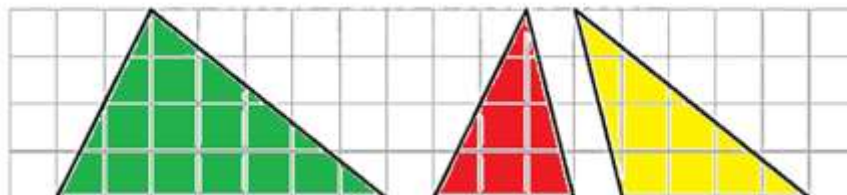
Em ăn cơm lúc 7 giờ tối.

Em ngủ lúc 12 giờ đêm.

Bài 4 (trang 17 vở bài tập Toán lớp 1 Tập 2): Tô màu các hình tam giác



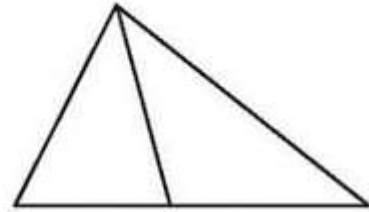
Lời giải



Bài 5 (trang 17 vở bài tập Toán lớp 1 Tập 2): Khoanh vào chữ cái trước ý trả lời đúng

Hình vẽ bên có:

- A. 1 hình tam giác
- B. 2 hình tam giác
- C. 3 hình tam giác



Lời giải

Khoanh vào C.