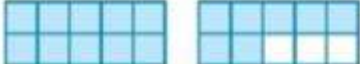









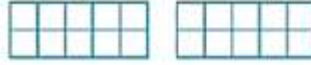



Giải vở bài tập Toán 1: Các phép tính dạng $10 + 4$, $14 - 4$ - Chân Trời Sáng Tạo

Bài 1 (trang 12 vở bài tập Toán lớp 1 Tập 2): Làm theo mẫu

Mẫu:

 <p>$10 + 7 = 17$</p>	 <p>$17 - 7 = 10$</p>
 <p>.....</p>	 <p>.....</p>
 <p>$10 + 2 = \dots$</p>	 <p>$18 - 8 = \dots$</p>
 <p>$10 + \dots = 16$</p>	 <p>$11 - \dots = 10$</p>
 <p>$5 + 10 = \dots$</p>	 <p>$17 - 10 = \dots$</p>
 <p>$20 = 10 + \dots$</p>	 <p>$3 = 13 - \dots$</p>

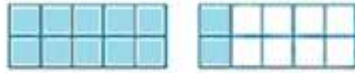
Lời giải



$10 + 4 = 14$



$15 - 5 = 10$



$10 + 2 = 12$



$18 - 8 = 10$



$10 + 6 = 16$




$11 - 1 = 10$



$5 + 10 = 15$



$17 - 10 = 7$



$20 = 10 + 10$



$3 = 13 - 10$