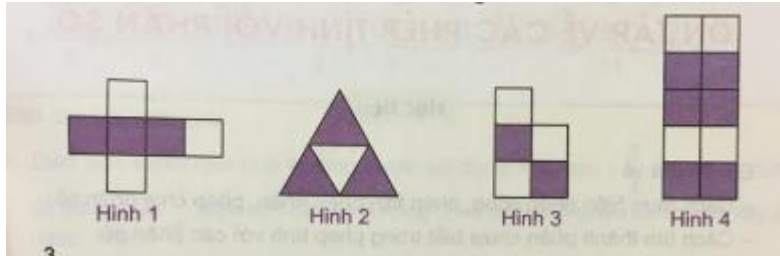


A. Hoạt động thực hành bài 102 Toán lớp 4 VNEN**Câu 2: Trang 103 toán VNEN 4 tập 2**

Khoanh vào chữ đặt trước câu trả lời đúng:



là phân số chỉ phần đã tô màu của hình nào?

- A. Hình 1
- B. Hình 2
- C. Hình 3
- D. Hình 4

Đáp án

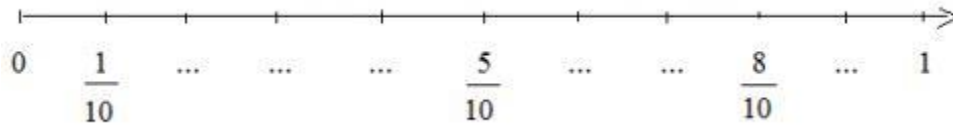
là phân số chỉ phần đã tô màu của hình

Đáp án: D. Hình 4


Vì: phần tô màu của hình 4 là $\frac{6}{10}$, khi rút gọn ta được

Câu 3: Trang 103 toán VNEN 4 tập 2

Viết phân số thích hợp vào chỗ chấm:



Đáp án



Câu 4: Trang 103 toán VNEN 4 tập 2

Rút gọn các phân số:

Câu 5: Trang 103 toán VNEN 4 tập 2

Quy đồng mẫu số các phân số:

Đáp án

Câu 6: Trang 103 toán VNEN 4 tập 2

Sắp xếp các phân số theo thứ tự giảm dần

Đáp án

Ta sắp xếp như sau:

B. Hoạt động ứng dụng bài 102 Toán lớp 4 VNEN

Câu 1: Trang 104 toán VNEN 4 tập 2

Có một cái bánh chia đều cho cả nhà em, mỗi người được một phần như nhau.

Đố em viết phân số chỉ:

· Số phần cái bánh em nhận được

- Số phần cái bánh bố và mẹ em nhận được

Đáp án

Ví dụ mẫu:

Nhà em có 5 người. Sau khi chia đều cho cả nhà mỗi người một phần bánh như nhau thì:

- Số phần cái bánh em nhận được là: $1/5$
- Số phần cái bánh bố và mẹ em nhận được là: $2/5$