

Nội dung bài viết

1. [Hoạt động thực hành - Bài 82: Em đã học được những gì? Toán VNEN lớp 5](#)
2. [Hoạt động ứng dụng - Bài 82: Em đã học được những gì? Toán 5 VNEN](#)

Hoạt động thực hành - Bài 82: Em đã học được những gì? Toán VNEN lớp 5

Câu 1 (Trang 65 Toán 5 VNEN Tập 2): Khoanh vào chữ đặt trước câu trả lời đúng:

- Một lớp học sinh có 18 nữ và 12 nam. Tìm tỉ số phần trăm của số học sinh nữ và số học sinh của cả lớp

- A. 18% B. 40%
C. 30% D. 60%

Lời giải chi tiết:

- Tỉ số phần trăm của học sinh nữ và số học sinh cả lớp là:

$$(18 : 30) \times 100 = 60\%$$

- Vậy đáp án đúng là: **D. 60%**

Câu 2 (Trang 65 Toán 5 VNEN Tập 2):

- Biết 25% của một số là 10. Hỏi số đó bằng bao nhiêu?

- A. 10 B. 20
C. 30 D. 40


Lời giải chi tiết:

25% của một số là 10, vậy số đó là: $(10 : 25) \times 100 = 40$

→ Vậy đáp án đúng là: **D. 40**

Câu 3 (Trang 65 Toán 5 VNEN Tập 2):

- Kết quả đi điều tra về sự ưa thích các môn thể thao của 400 học sinh được cho trên biểu đồ hình quạt bên.



- Hãy cho biết trong số các em được đi đầu tra, có bao nhiêu học sinh thích bơi?

- A. 60 học sinh B. 80 học sinh
C. 100 học sinh D. 160 học sinh

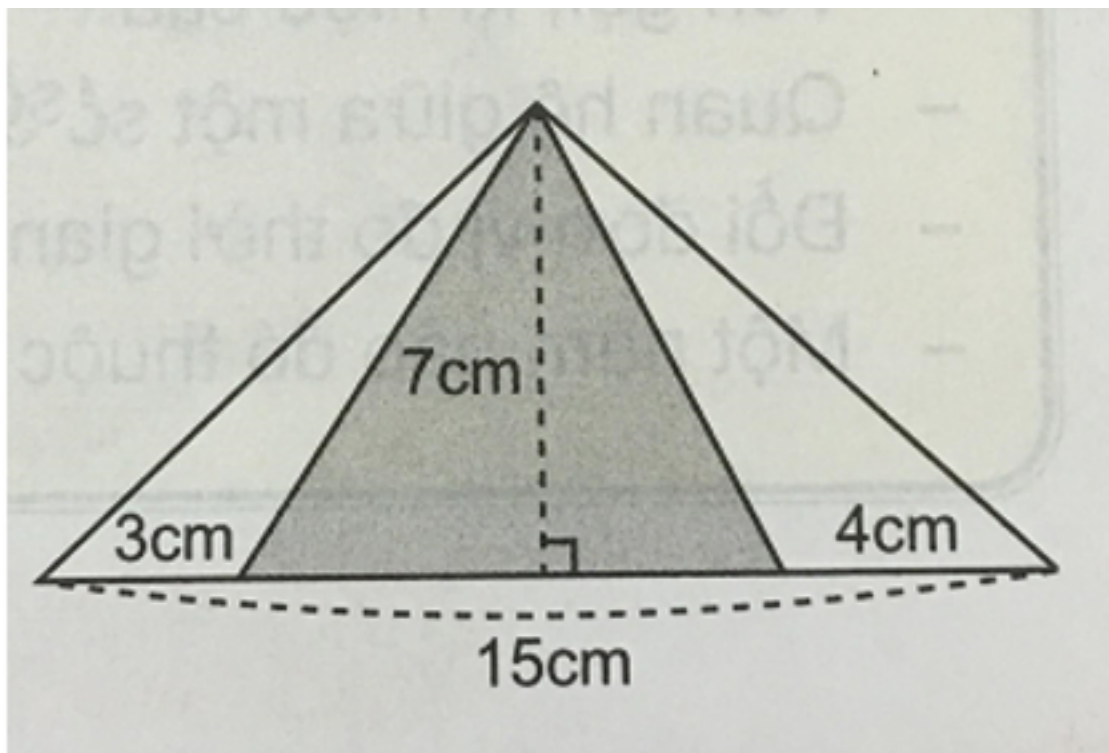
Lời giải chi tiết:

- Số bạn học sinh thích bơi là:

$$(400 : 100) \times 40 = 160 \text{ (học sinh)}$$

→ Vậy đáp án đúng là: **D. 160 học sinh**

Câu 4 (Trang 65 Toán 5 VNEN Tập 2): Diện tích phần đã tô đậm trong hình dưới đây là:



- A. 28 cm² B. 49 cm²
- C. 56 cm² D. 105 cm²

Lời giải chi tiết:

- Chiều dài cạnh đáy phần tô đậm là:

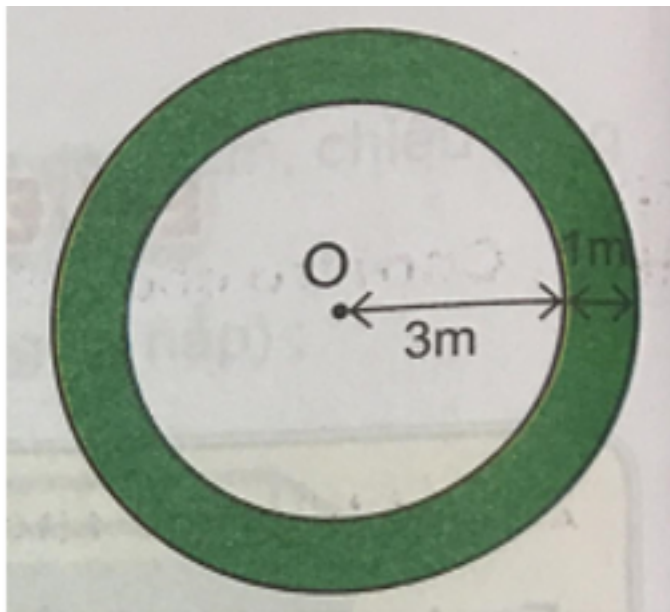
$$15 - (3+4) = 8 \text{ (cm)}$$

- Vậy diện tích phần tô đậm là:

$$S = \frac{8 \times 7}{2} = 28 \text{ (cm}^2\text{)}$$

→ Vậy đáp án đúng là: **A. 28 cm²**

Câu 5 (Trang 66 Toán 5 VNEN Tập 2): Diện tích trong phần tô đậm trong hình dưới đây là:



A. 6,28 m² B. 12,56m²

C. 21,98m² D. 50,24m²

Lời giải chi tiết:

- Diện tích hình tròn lớn là:

$$S = (3+1) \times (3+1) \times 3,14 = 50,24 \text{ (m}^2\text{)}$$

- Diện tích hình tròn bé là:

$$S = 3 \times 3 \times 3,14 = 28,26 \text{ (m}^2\text{)}$$

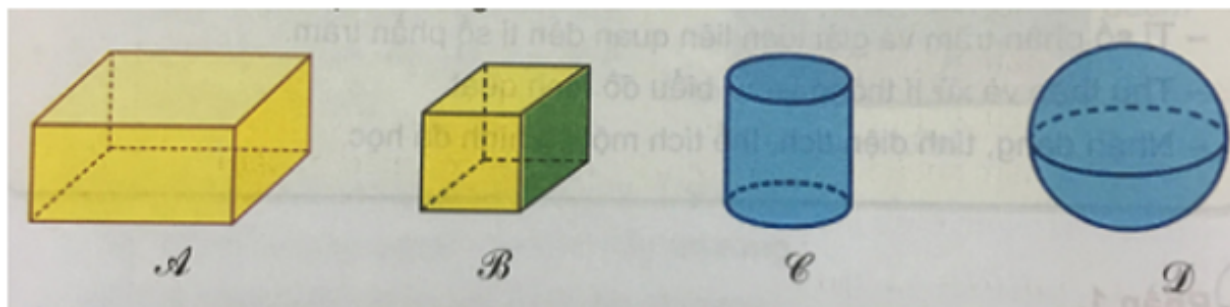
- Vậy diện tích phần đã tô đậm là:

$$50,24 - 28,26 = 21,98 \text{ (m}^2\text{)}$$

→ Vậy đáp án đúng là: **C. 21,98 m²**

Hoạt động ứng dụng - Bài 82: Em đã học được những gì? Toán 5 VNEN

Câu 1 (Trang 66 Toán 5 VNEN Tập 2): Mỗi hình dưới đây là hình gì?



Lời giải chi tiết:

- Hình A: Hình hộp chữ nhật
- Hình B: Hình lập phương
- Hình C: Hình trụ
- Hình D: Hình cầu

Câu 2 (Trang 66 Toán 5 VNEN Tập 2):

- Một cái hộp có hình dạng hình hộp chữ nhật có chiều dài 36cm, chiều rộng 24cm và chiều cao 12cm. Người ta xếp các hình lập phương như nhau cạnh 3cm vào đầy hộp đó. Hỏi cần bao nhiêu hình lập phương như thế?

Lời giải chi tiết:

- Thể tích hình hộp chữ nhật là:

$$V = 36 \times 24 \times 12 = 10368 \text{ (cm}^3\text{)}$$

- Thể tích của một hình lập phương là:

$$V = 3 \times 3 \times 3 = 27 \text{ (cm}^3\text{)}$$

- Vậy cần số hình lập phương để xếp đủ vào hình hộp chữ nhật là:

$$10368 : 27 = 384 \text{ (hình)}$$

Đáp số: 384 hình