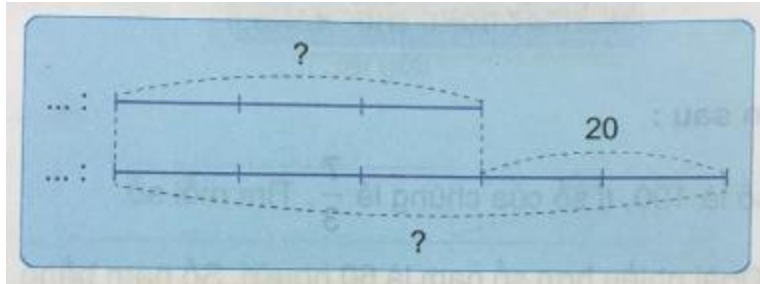


**A. Hoạt động thực hành bài 94 Toán lớp 4 VNEN**

**Câu 1: Trang 82 VNEN toán 4 tập 2**

Chơi trò chơi "Đặt bài toán theo sơ đồ":



Đáp án

Ví dụ mẫu:

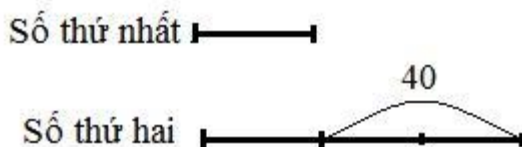
Nhà em có số con vịt ít hơn số con gà là 20 con. Tỉ số của số con vịt và số con gà là  $\frac{3}{5}$ . Hỏi nhà em có bao nhiêu con vịt, bao nhiêu con gà?

**Câu 2: Trang 82 VNEN toán 4 tập 2**

Hiệu của hai số là 40. Số thứ nhất gấp 3 lần số thứ hai. Tìm mỗi số

Đáp án

Ta có sơ đồ:



Theo sơ đồ, hiệu số phần bằng nhau là:

$$3 - 1 = 2 \text{ (phần)}$$

$$\text{Giá trị của mỗi phần là: } 40 : 2 = 20$$

Số thứ nhất là:  $20 \times 1 = 20$

Số thứ hai là:  $20 \times 3 = 60$

Đáp số: Số thứ nhất 20

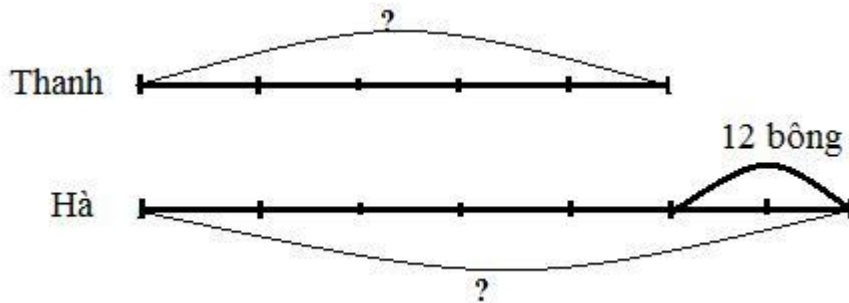
Số thứ hai 60

**Câu 3: Trang 82 VNEN toán 4 tập 2**

Thanh ít hơn Hà 12 bông hoa. Số hoa của Thanh bằng  $\frac{5}{7}$  số hoa của Hà. Hỏi mỗi bạn có bao nhiêu bông hoa?

Đáp án

Ta có sơ đồ:



Theo sơ đồ, ta có hiệu số phần bằng nhau là:

$$7 - 5 = 2 \text{ (phần)}$$

$$\text{Giá trị mỗi phần là: } 12 : 2 = 6 \text{ (bông hoa)}$$

$$\text{Thanh có số bông hoa là: } 6 \times 5 = 30 \text{ (bông hoa)}$$

$$\text{Hà có số bông hoa là: } 30 + 12 = 42 \text{ (bông hoa)}$$

Đáp số: Thanh 30 bông

Hà 42 bông

**Câu 4: Trang 82 VNEN toán 4 tập 2**

Xe ô tô thứ nhất chở ít hơn xe ô tô thứ hai là 420kg. Tỉ số lượng hàng của xe thứ nhất và xe thứ hai là  $\frac{9}{11}$ . Hỏi mỗi xe chở bao nhiêu ki-lô-gam hàng?

Đáp án

Ta có sơ đồ:



Theo sơ đồ, ta có hiệu số phần bằng nhau là:

$$11 - 9 = 2 \text{ (phần)}$$

Giá trị mỗi phần là:  $420 : 2 = 210 \text{ (kg)}$

Xe thứ nhất chở được số kg hàng là:  $210 \times 9 = 2700 \text{ (kg)}$

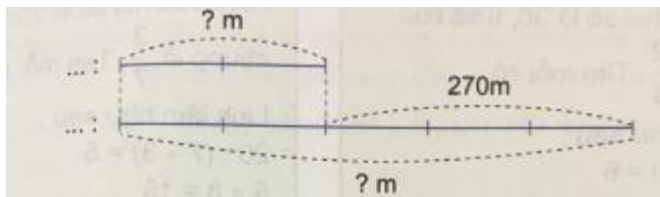
Xe thứ hai chở được số kg hàng là:  $2700 + 420 = 3120 \text{ (kg)}$

Đáp số: xe thứ nhất 2700 kg

Xe thứ hai 4120 kg

**Câu 5: Trang 83 VNEN toán 4 tập 2**

Dựa vào sơ đồ sau, nêu bài toán rồi giải bài toán sau:



Đáp án

Nêu bài toán:

Hoa có ít hơn Ngọc 270 m vải. Số m vải của Hoa bằng  $\frac{2}{5}$  số m vải của Ngọc. Hỏi mỗi bạn có bao nhiêu m vải?

Bài giải:

Ta có hiệu số phần bằng nhau là:  $5 - 2 = 3$  (phần)

Giá trị mỗi phần là:  $270 : 3 = 90$  (m vải)

Hoa có số m vải là:  $90 \times 2 = 180$  (m vải)


Ngọc có số m vải là:  $180 + 270 = 450$  (m vải)

Đáp số: Hoa 180m; Ngọc 450m

## B. Hoạt động ứng dụng bài 94 Toán lớp 4 VNEN

### Câu 1: Trang 83 VNEN toán 4 tập 2

Dựa vào sơ đồ sau, nêu bài toán rồi giải bài toán đó:



Nêu bài toán:

Nhà em có số cây nhãn nhiều hơn số cây vải là 18 cây. Trong đó, số cây nhãn bằng  $\frac{6}{4}$  số cây vải. Hỏi nhà em có bao nhiêu cây nhãn, bao nhiêu cây vải?

Bài giải:

Hiệu số phần bằng nhau là:  $6 - 4 = 2$  (phần)

Giá trị mỗi phần là:  $18 : 2 = 9$  (cây)

Số cây nhãn nhà em là:  $9 \times 6 = 54$  (cây)

Số cây vải nhà em là:  $54 - 18 = 36$  (cây)

Đáp số: Nhãn 54 cây, vải 36 cây