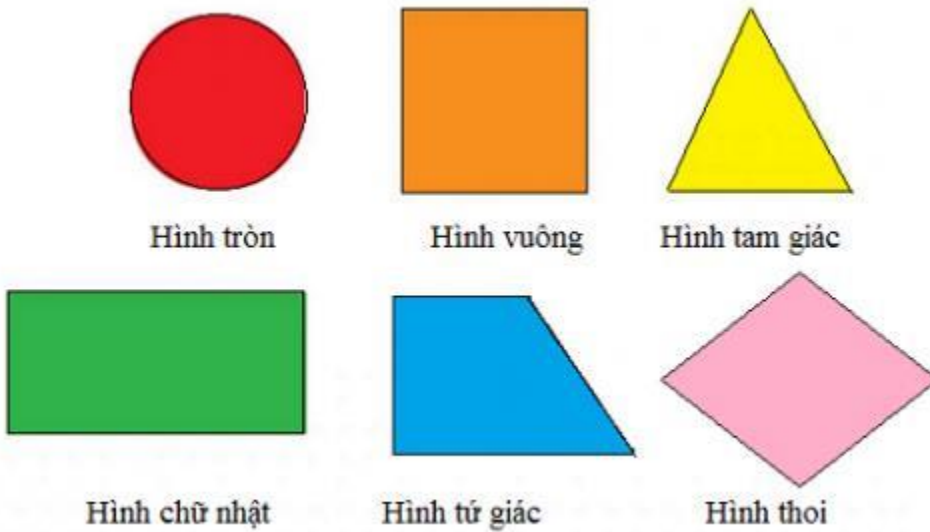


**A. Hoạt động thực hành bài 88 Toán lớp 4 VNEN****Câu 1: Trang 71 VNEN toán 4 tập 2**

Chơi trò chơi "gấp hình":

Các nhóm lấy giấy thủ công, gấp và cắt các hình đã học. Nhóm nào làm được nhiều loại hình nhất thì sẽ thắng cuộc

Ví dụ:

**Câu 2: Trang 71 VNEN toán 4 tập 2**

Đúng ghi Đ, sai ghi S:



Trong hình bên:

- a. AB và CD là hai cạnh đối diện song song và bằng nhau
- b. AB vuông góc với AD
- c. Hình tứ giác ABCD có 4 góc vuông
- d. Hình tứ giác ABCD có 4 cạnh bằng nhau

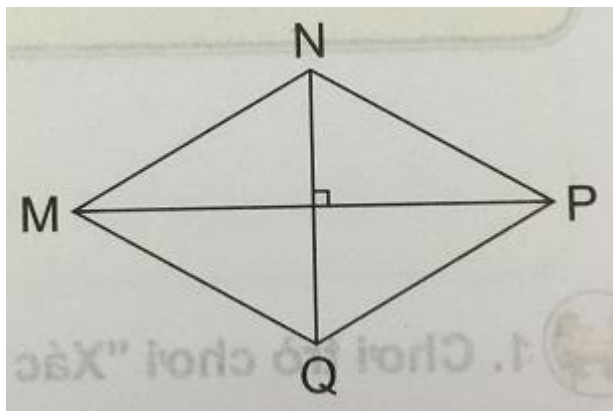
Đáp án

Trong hình bên:

a. AB và CD là hai cạnh đối diện song song và bằng nhau	<b>Đ</b>
b. AB vuông góc với AD	<b>Đ</b>
c. Hình tứ giác ABCD có 4 góc vuông	<b>Đ</b>
d. Hình tứ giác ABCD có 4 cạnh bằng nhau	<b>S</b>

**Câu 3: Trang 71 VNEN toán 4 tập 2**

Đúng ghi Đ, sai ghi S:



Trong hình thoi MNPQ (xem hình bên):

a	MN và PQ là cặp cạnh đối diện	
b	MP và NP là cặp cạnh đối diện	
c	MP và NQ vuông góc với nhau	
d	MN và PQ không bằng nhau	
e	Các cặp cạnh đối diện và song song với nhau	
g	Bốn cạnh đều bằng nhau	

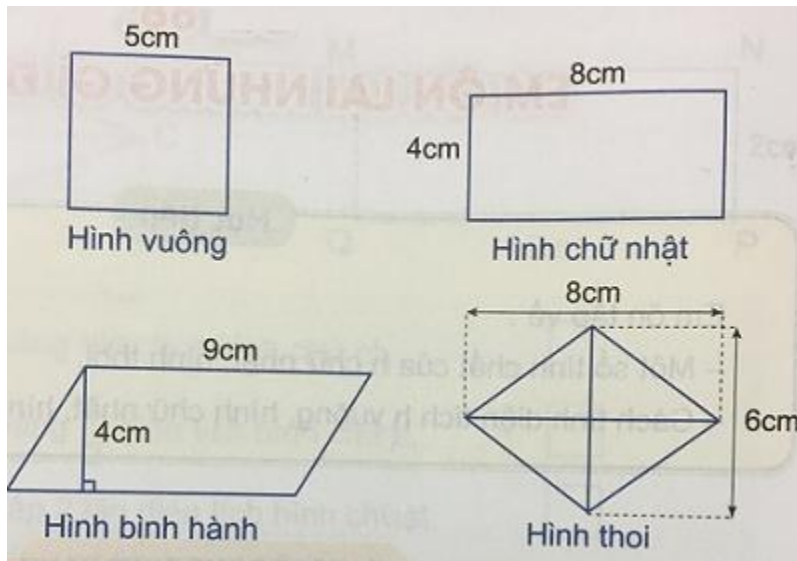
**Đáp án**

Trong hình thoi MNPQ có:

a	MN và PQ là cặp cạnh đối diện	<b>Đ</b>
b	MP và NP là cặp cạnh đối diện	<b>S</b>
c	MP và NQ vuông góc với nhau	<b>Đ</b>
d	MN và PQ không bằng nhau	<b>S</b>
e	Các cặp cạnh đối diện và song song với nhau	<b>Đ</b>
g	Bốn cạnh đều bằng nhau	<b>Đ</b>

**Câu 4: Trang 72 VNEN toán 4 tập 2**

Khoanh vào chữ cái đặt trước câu trả lời đúng:



Trong các hình bên, hình nào có diện tích lớn nhất:

- A. Hình vuông
- B. Hình chữ nhật
- C. Hình bình hành
- D. Hình thoi

Đáp án

Ta có:

- Diện tích hình vuông là:  $S = 5 \times 5 = 25 \text{ (cm}^2\text{)}$
- Diện tích hình chữ nhật là:  $S = 8 \times 4 = 32 \text{ (cm}^2\text{)}$
- Diện tích hình bình hành là:  $S = 9 \times 4 = 36 \text{ (cm}^2\text{)}$
- Diện tích hình thoi là:  $S = (8 \times 6) : 2 = 48 : 2 = 24 \text{ (cm}^2\text{)}$

Vậy, trong các hình trên, hình có diện tích lớn nhất là:

Đáp án: C. Hình bình hành

**B. Hoạt động ứng dụng bài 88 Toán lớp 4 VNEN****Câu 1: Trang 72 VNEN toán 4 tập 2**

Hãy tìm trong thực tế các đồ vật hoặc hình trang trí có dạng hình thoi.

Đáp án

Các đồ vật có dạng hình thoi trong thực tế là: mặt đồng hồ, con diều, miếng xếp gián tường, cúc áo....