

A. Hoạt động thực hành bài 72 Toán lớp 4 VNEN**Câu 1: Trang 39 sách VNEN toán 4**

Chơi trò chơi “Ai nhanh, ai thông minh hơn?”:

- Em viết rồi đọc một phân số bất kì, chẳng hạn: .
- Các bạn trong nhóm tìm các phân số bằng phân số em đã viết.
- Cử đại diện ghi lại các phân số nhóm mình viết được. Nhóm nào viết được nhiều phân số nhất sẽ thắng cuộc.


Đáp án

Ví dụ :

- Em viết phân số , đọc là “ba phần tư”.
- Các phân số bằng với phân số là :


Câu 2 Trang 39 sách VNEN toán 4

Viết phân số chỉ phần đã tô màu trong mỗi hình dưới đây:



b. Rút gọn phân số:

Đáp án



b. Rút gọn phân số:

$$\frac{4}{6} = \frac{4:2}{6:2} = \frac{2}{3}$$

$$\frac{9}{12} = \frac{9:3}{12:3} = \frac{3}{4}$$

$$\frac{10}{20} = \frac{10:10}{20:10} = \frac{1}{2}$$

$$\frac{8}{18} = \frac{8:2}{18:2} = \frac{4}{9}$$

Câu 3: Trang 39 sách VNEN toán 4

So sánh hai phân số:

$$\frac{1}{3} \text{ và } \frac{1}{4} \quad \frac{3}{5} \text{ và } \frac{5}{6}$$

$$\frac{3}{10} \text{ và } \frac{8}{5} \quad \frac{4}{3} \text{ và } \frac{7}{6}$$

$$\frac{4}{7} \text{ và } \frac{1}{6} \quad \frac{5}{6} \text{ và } \frac{7}{8}$$

Đáp án

$$\frac{1}{3} \text{ và } \frac{1}{4}$$

$$\frac{1}{3} = \frac{1 \times 4}{3 \times 4} = \frac{4}{12}$$

$$\frac{1}{4} = \frac{1 \times 3}{4 \times 3} = \frac{3}{12}$$

Vậy: $\frac{1}{3} > \frac{1}{4}$

$$\frac{3}{5} \text{ và } \frac{5}{6}$$

$$\frac{3}{5} = \frac{3 \times 6}{5 \times 6} = \frac{18}{30}$$

$$\frac{5}{6} = \frac{5 \times 5}{6 \times 5} = \frac{25}{30}$$

$$\text{Vậy: } \frac{3}{5} < \frac{5}{6}$$

$$\frac{3}{10} \text{ và } \frac{8}{5}$$

$$\frac{3}{10} = \frac{3}{10}$$

$$\frac{8}{5} = \frac{8 \times 2}{5 \times 2} = \frac{16}{10}$$

$$\text{Vậy: } \frac{3}{10} < \frac{8}{5}$$

$$\frac{4}{3} \text{ và } \frac{7}{6}$$

$$\frac{4}{3} = \frac{4 \times 2}{3 \times 2} = \frac{8}{6}$$

$$\frac{7}{6} = \frac{7}{6}$$

$$\text{Vậy: } \frac{4}{3} > \frac{7}{6}$$

$$\frac{4}{7} \text{ và } \frac{1}{6}$$

$$\frac{4}{7} = \frac{4 \times 6}{7 \times 6} = \frac{24}{42}$$

$$\frac{1}{6} = \frac{1 \times 7}{6 \times 7} = \frac{7}{42}$$

$$\text{Vậy: } \frac{4}{7} > \frac{1}{6}$$

$$\frac{5}{6} \text{ và } \frac{7}{8}$$

$$\frac{5}{6} = \frac{5 \times 4}{6 \times 4} = \frac{20}{24}$$

$$\frac{7}{8} = \frac{7 \times 3}{8 \times 3} = \frac{21}{24}$$

Vậy: $\frac{5}{6} < \frac{7}{8}$

Câu 4: Trang 39 sách VNEN toán 4

Đặt tính rồi tính:

$$780139 + 23507$$

$$512 \times 307$$

$$364563 - 91904$$

$$70308 : 217$$

Đáp án

$\begin{array}{r} 780139 + 23507 \\ + \quad 780139 \\ \quad 23507 \\ \hline 803646 \end{array}$	$\begin{array}{r} 512 \times 307 \\ \quad 512 \\ \quad \times 307 \\ \hline \quad 3584 \\ 1536 \\ \hline 157184 \end{array}$
$\begin{array}{r} 364563 - 91904 \\ - \quad 91904 \\ \hline 272659 \end{array}$	$\begin{array}{r} 70308 : 217 \\ 70308 \mid 217 \\ \underline{520} \\ 868 \\ \underline{0} \\ 0 \end{array}$

Câu 5: Trang 39 sách VNEN toán 4

Viết chữ số thích hợp vào ô trống sao cho:

- a. 67 chia hết cho 5 nhưng không chia hết cho 2
- b. 67.... chia hết cho 9

Đáp án

a. Số chia hết cho 5 nhưng không chia hết cho 2 -> số đó tận cùng là 5


Vậy số cần tìm là: 675

b. Số chia hết cho 9 là số có tổng các chữ số cộng lại chia hết cho 9

Vậy số cần tìm là: 675

B. Hoạt động ứng dụng bài 72 Toán lớp 4 VNEN**Câu 1: Trang 39 sách VNEN toán 4**

Bức rèm trong hình vẽ nào dưới đây che $\frac{3}{4}$ cửa sổ?

**Đáp án**

Bức rèm ở hình 1 che $\frac{1}{4}$ cửa sổ.

Bức rèm ở hình 2 che $\frac{2}{4}$ cửa sổ.

Bức rèm ở hình 3 che cửa sổ.

Bức rèm ở hình 4 che nhiều hơn cửa sổ.

Vậy bức rèm trong hình 3 che cửa sổ.

Đáp án: Hình 3