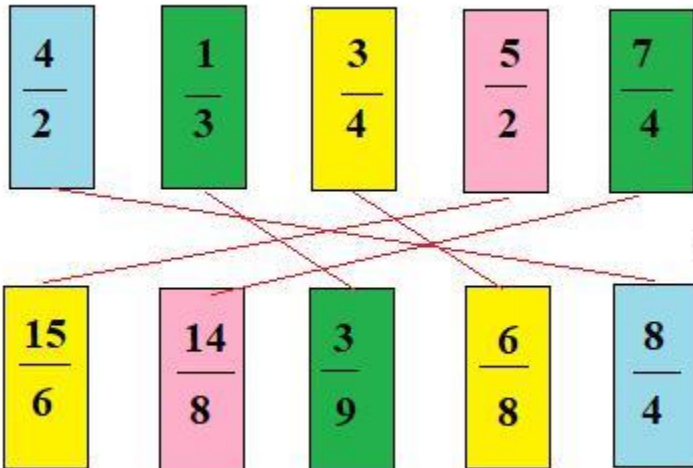


**A. Hoạt động cơ bản bài 70 Toán lớp 4 VNEN**

**1. Chơi trò chơi "ghép thẻ"**

Ghép các cặp thẻ phân số bằng nhau



**2. Thực hiện lần lượt các hoạt động sau để so sánh hai phân số 1/4 và 3/4 (Sgk)**

Trong hai phân số có cùng mẫu số:

- Phân số nào có tử số bé hơn thì bé hơn
- Phân số nào có tử số lớn hơn thì lớn hơn
- Nếu tử số bằng nhau thì hai phân số đó bằng nhau

**B. Hoạt động thực hành bài 70 Toán lớp 4 VNEN**

**Câu 1: Trang 33 sách VNEN toán 4**

So sánh hai phân số:

$\frac{5}{9}$  và  $\frac{7}{9}$        $\frac{7}{6}$  và  $\frac{6}{6}$

$\frac{3}{14}$  và  $\frac{6}{14}$        $\frac{8}{8}$  và  $\frac{2}{8}$

**Đáp án**

$$\frac{5}{9} < \frac{7}{9} \text{ (vì } 5 < 7)$$

$$\frac{7}{6} > \frac{6}{6} \text{ (vì } 7 > 6)$$

$$\frac{3}{14} < \frac{6}{14} \text{ (vì } 3 < 6)$$

$$\frac{8}{8} > \frac{2}{8} \text{ (vì } 8 > 2)$$

**Câu 2: Trang 33 sách VNEN toán 4**

a. Đọc kĩ nhận xét sau và nói với bạn cách so sánh với 1 (sgk)

b. So sánh các phân số sau với 1:

$$\frac{5}{6}, \frac{3}{2}, \frac{9}{19}, \frac{7}{7}, \frac{49}{46}, \frac{32}{71}$$

**Đáp án**

a. Cách so sánh phân số với 1:

Nếu trong phân số có tử số bé hơn mẫu số thì phân số đó bé hơn 1

Nếu trong phân số có tử số lớn hơn mẫu số thì phân số đó lớn hơn 1

b. So sánh các phân số sau với 1:

$$5/6 < 1 \text{ (vì tử số bé hơn mẫu số } 5 < 6)$$

$$3/2 > 1 \text{ (vì tử số lớn hơn mẫu số } 3 > 2)$$

$$9/19 < 1 \text{ (vì tử số bé hơn mẫu số } 9 < 19)$$

$$7/7 = 1 \text{ (vì tử số và mẫu số bằng nhau } 7 = 7)$$

$$49/46 > 1 \text{ (vì tử số lớn hơn mẫu số } 49 > 46)$$


$32/71 < 1$  ( vì tử số bé hơn mẫu số  $32 < 71$  )

**Câu 3: Trang 34 sách VNEN toán 4**

Nối (theo mẫu):



**Đáp án**



**Câu 4: Trang 34 sách VNEN toán 4**

Quy đồng mẫu số rồi so sánh hai phân số:

$\frac{3}{4}$  và  $\frac{4}{5}$        $\frac{2}{5}$  và  $\frac{3}{10}$        $\frac{5}{6}$  và  $\frac{7}{8}$

Đáp án

$\frac{3}{4}$  và  $\frac{4}{5}$

- $\frac{3}{4} = \frac{3 \times 5}{4 \times 5} = \frac{15}{20}$
- $\frac{4}{5} = \frac{4 \times 4}{5 \times 4} = \frac{16}{20}$

$\Rightarrow \frac{15}{20} < \frac{16}{20}$  (vì  $15 < 16$ )

$\frac{2}{5}$  và  $\frac{3}{10}$

- $\frac{2}{5} = \frac{2 \times 2}{5 \times 2} = \frac{4}{10}$
- $\frac{3}{10} = \frac{3 \times 1}{10 \times 1} = \frac{3}{10}$

$\Rightarrow \frac{4}{10} > \frac{3}{10}$  (vì  $4 > 3$ )

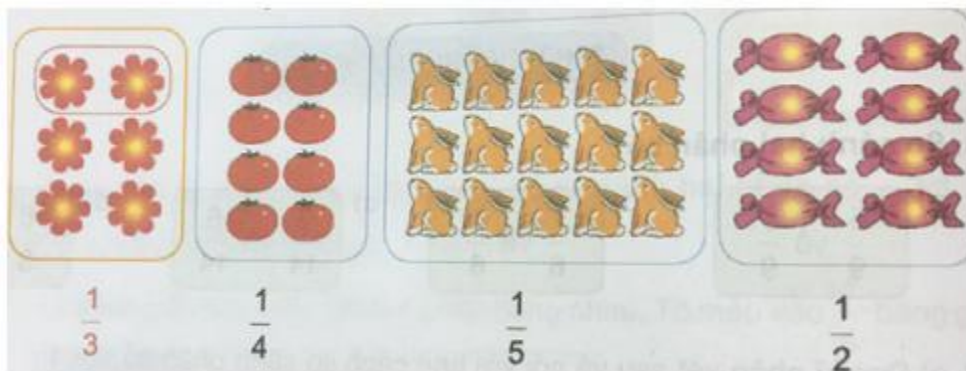
$\frac{5}{6}$  và  $\frac{7}{8}$

- $\frac{5}{6} = \frac{5 \times 4}{6 \times 4} = \frac{20}{24}$
- $\frac{7}{8} = \frac{7 \times 3}{8 \times 3} = \frac{21}{24}$

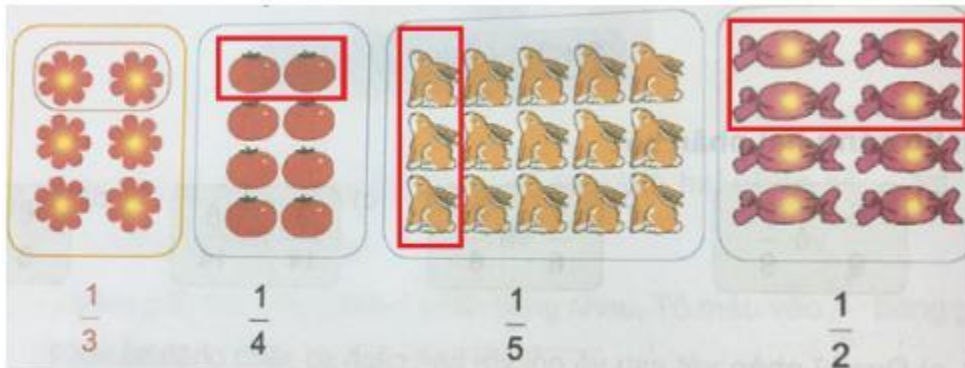
$\Rightarrow \frac{20}{24} < \frac{21}{24}$  (vì  $20 < 21$ )

**Câu 5: Trang 34 sách VNEN toán 4**

Khoanh vào đồ vật tương ứng với phân số (theo mẫu):



**Đáp án**



**C. Hoạt động ứng dụng bài 70 Toán lớp 4 VNEN**

**Câu 1: Trang 35 sách VNEN toán 4**

Chú Bình lát nền một căn phòng trong hai ngày. Trong ngày thứ nhất chú lát được  $\frac{3}{5}$  diện tích căn phòng, ngày thứ hai chú lát được  $\frac{2}{5}$  diện tích căn phòng. Hỏi trong ngày nào chú Bình lát nền phòng được nhiều hơn. Tại sao?

**Đáp án**

Ngày thứ nhất chú Bình lát nền phòng được nhiều hơn vì

$$\frac{3}{5} > \frac{2}{5}$$

**Câu 2: Trang 35 sách VNEN toán 4**

Viết ba phân số bé hơn 1, ba phân số lớn hơn 1 và ba phân số bằng 1

**Đáp án**

Ba phân số bé hơn 1 là:  $\frac{1}{2}$ ,  $\frac{4}{6}$ ,  $\frac{7}{9}$

Ba phân số lớn hơn 1 là:  $\frac{4}{3}$ ,  $\frac{7}{5}$ ,  $\frac{8}{6}$

Ba phân số bằng 1 là:  $\frac{2}{2}$ ,  $\frac{5}{5}$ ,  $\frac{8}{8}$