

A. Hoạt động thực hành bài 64 Toán lớp 4 VNEN**Câu 1: Trang 18 sách VNEN toán 4**

Chơi trò chơi "đố bạn":

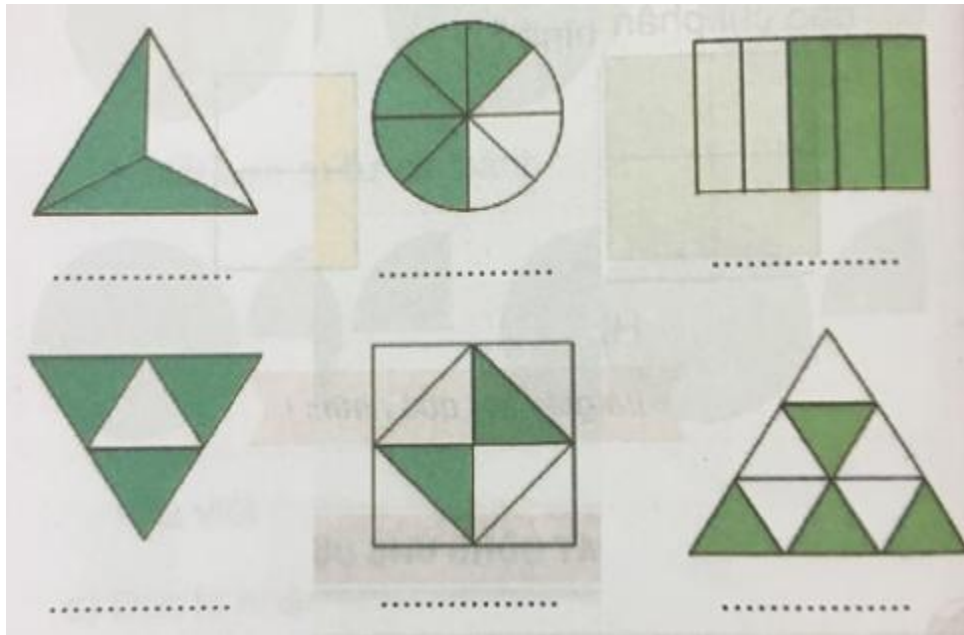
Em viết một phân số, đố bạn đọc phân số em vừa viết, nêu tử số và mẫu số của các phân số vừa viết

Đáp án

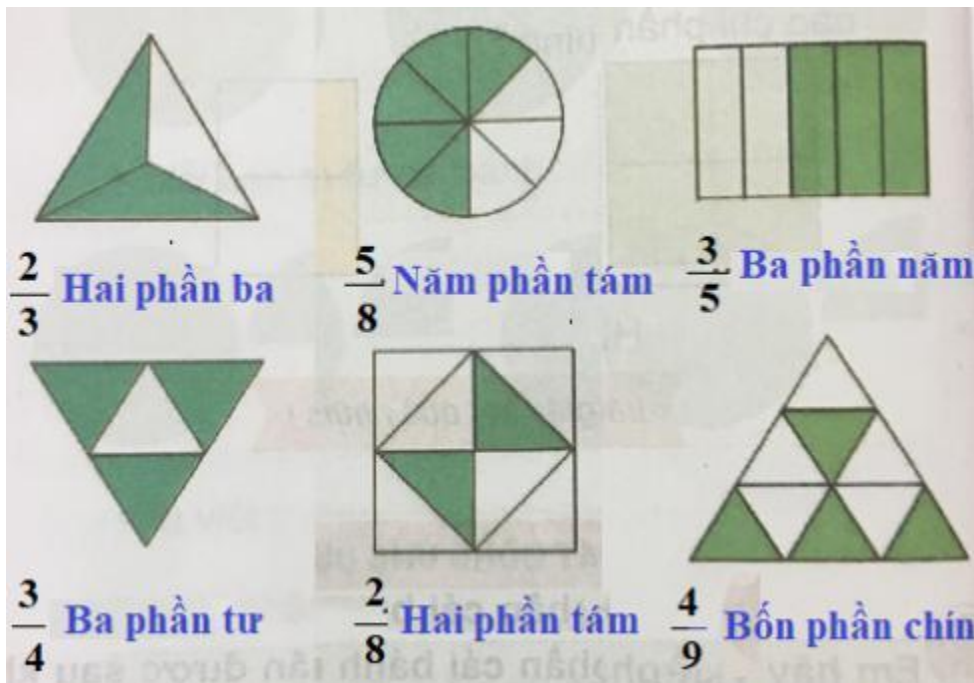
Viết	Đọc	Tử số	Mẫu số
$1/6$	Một phần sáu	1	6
$5/8$	Năm phần tám	5	8
$7/4$	Bảy phần bốn	7	4
$5/3$	Năm phần ba	5	3
$6/9$	Sáu phần chín	6	9

Câu 2: Trang 18 sách VNEN toán 4

Viết rồi đọc phân số chỉ số phần đã tô màu trong mỗi hình sau:



Đáp án



Câu 3: Trang 19 sách VNEN toán 4

Viết (theo mẫu):

Viết	Đọc
3/10 mét	Ba phần mười mét
1/4 giờ	
8/10 km	
	Một phần hai ki-lô-gam

Đáp án

Viết	Đọc
3/10 mét	Ba phần mười mét
1/4 giờ	Một phần bốn giờ
8/10 km	Tám phần mười ki-lô-mét
1/2 kg	Một phần hai ki-lô-gam

Câu 4: Trang 19 sách VNEN toán 4

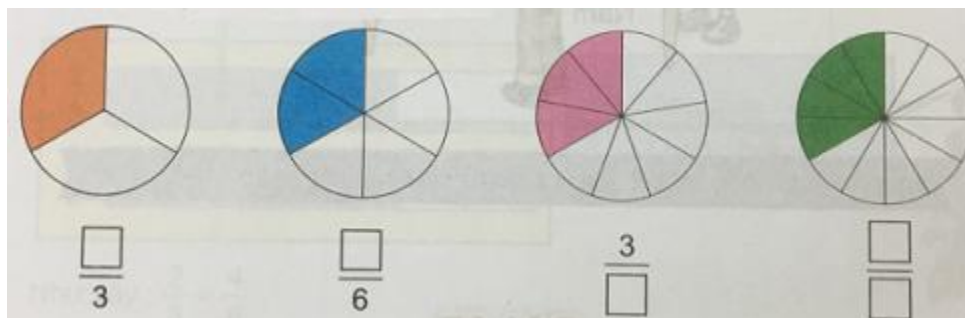
Viết mỗi số tự nhiên sau dưới dạng phân số có mẫu số bằng 1: 4; 17; 1; 39; 0.

Đáp án

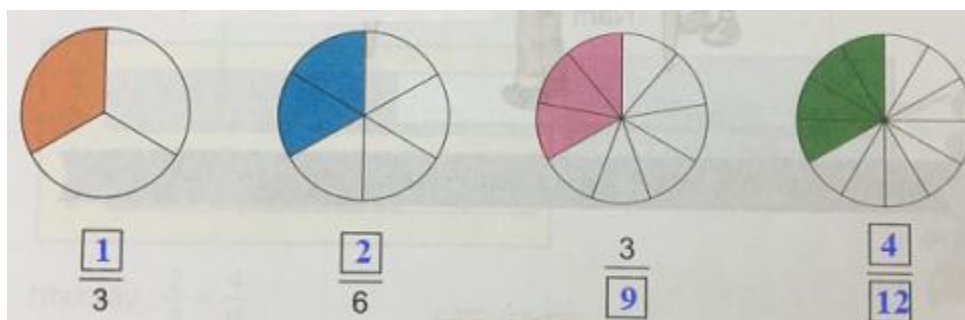
$$4 = \frac{4}{1}; 17 = \frac{17}{1}; 1 = \frac{1}{1}; 39 = \frac{39}{1}; 0 = \frac{0}{1}$$

Câu 5: Trang 19 sách VNEN toán 4

Viết số thích hợp vào ô trống:



Đáp án



C. Hoạt động ứng dụng bài 64 Toán lớp 4 VNEN

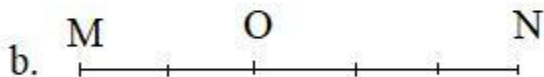
Câu 1: Trang 19 sách VNEN toán 4

Mỗi đoạn thẳng dưới đây được chia thành các phần có độ dài bằng nhau. Hãy vẽ hai đoạn thẳng CD và MN vào vở rồi viết vào chỗ chấm (theo mẫu):



CP = CD

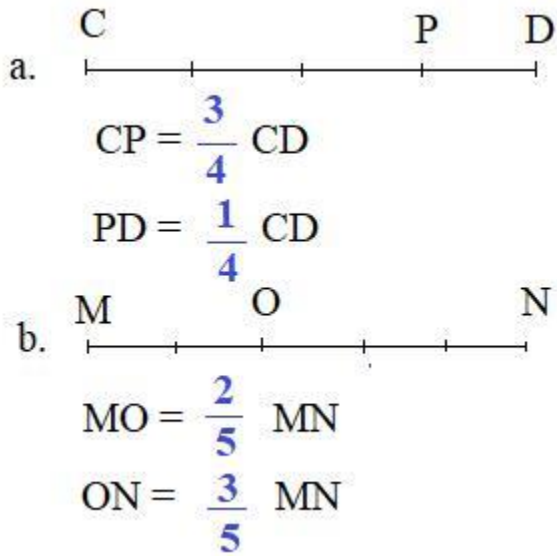
PD = CD



MO = MN


ON = MN

Đáp án



Câu 2: Trang 20 sách VNEN toán 4

Viết phân số biểu diễn phần hình đã tô màu của mỗi bạn dưới đây:



Đáp án

